

2.

SINIF

Nisan Ara Tatili

MATEMATİK

Değerlendirme Etkinliği

 [optimistogretmen](https://www.instagram.com/optimistogretmen)



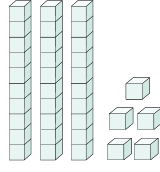


2. SINIF MATEMATİK NİSAN ARA TATİLİ DEĞERLENDİRME ETKİNLİĞİ






1. Yan tarafta taban bloklar ile gösterilen sayı kaçtır?

- A) 30
B) 33
C) 35



2. Aşağıdakilerden hangisi bir desteyi ifade eder?

- A) 
B) 
C) 

3. Bir fırında günde iki düzine pasta satılmıştır. Fırında satılan pasta sayısı aşağıdakilerden hangisidir?

- A) 20
B) 24
C) 32

4. Onlar basamağı "5", birler basamağı "4" olan sayının 6 fazlası kaçtır?

- A) 54
B) 60
C) 66



5. "4 - 8 - 12 - ... - 20 - ... - 28" ritmik saymasında boş bırakılan yerlere sırası ile hangi sayılar gelmelidir?

- A) 16 - 24
B) 15 - 25
C) 16 - 26

6. İleriye doğru üçer ritmik sayarken 24'ten sonra hangi sayıyı söyleriz?

- A) 21
B) 25
C) 27

7. **6 - 11 - 16 - 21 - 26 - 31 - 36**

Yukarıdaki sayı örüntüsünün kuralı nedir?

- A) 5 azalarak devam etmektedir.
B) 4 artarak devam etmektedir.
C) 5 artarak devam etmektedir.

8. **45 - 85 - 37 - 69**

Yukarıdaki sayılar hangi seçenekte doğru sıralanmıştır?

- A) $45 < 69 < 37 < 85$
B) $37 < 45 < 69 < 85$
C) $85 < 69 < 45 < 37$

9. Aşağıdakilerden hangisi en yakın onluğa yuvarlandığında 40 sayısı elde edilmez?

- A) 44
B) 45
C) 35



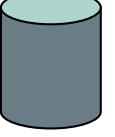
10. Elif 8 yaşındadır. Ablasının yaşı Elif'in yaşından 12 fazladır. Elif ve ablasının yaşları toplamı kaçtır?

- A) 28
B) 20
C) 18

11. Duru 46 sayfalık hikaye kitabının önce 15 sayfasını daha sonra 12 sayfasını okudu. Duru'nun kitabını bitirmesi için kaç sayfa daha okuması gerekir?

- A) 17
B) 19
C) 27

12. Aşağıdaki geometrik cisimlerden hangisinin köşesi ve kenarı yoktur?

- A)  B)  C) 

13. $3 + 3 + 3 + 3$ işleminin çarpma işlemi olarak ifade edilişi aşağıdakilerden hangisidir?

- A) 3×3
B) 3×4
C) 4×3



14. Bir günde 2 ekmek tüketen Aktaş ailesi, bir haftada kaç ekmek tüketir?

- A) 9
B) 14
C) 21



15. Rabia bayramda topladığı 25 şekeri beşerli olacak şekilde poşetlere koydu. Rabia kaç poşet kullanmıştır?

- A) 5
B) 10
C) 15



2. SINIF MATEMATİK NİSAN ARA TATİLİ DEĞERLENDİRME CEVAP ANAHTARI

1	C
2	A
3	B
4	B
5	A
6	C
7	C
8	B
9	B
10	A

11	B
12	C
13	C
14	B
15	A

