

2.

SINIF

Nisan Ara Tatili

# HAYAT BİLGİSİ

Değerlendirme Etkinliği

 [optimistogretmen](https://www.instagram.com/optimistogretmen)





## 2. SINIF HAYAT BİLGİSİ NİSAN ARA TATİLİ DEĞERLENDİRME ETKİNLİĞİ



1. Verilen ifadelerden doğru olan hangisidir?

- A) İnsanların benzer ve farklı yönleri olabilir.
- B) Herkes aynı düşünceye sahiptir.
- C) İnsanların fiziksel özellikleri aynıdır.

2. Hangi görsel farklı bir ders araç gerecidir?

- A) 
- B) 
- C) 

3. Aşağıdaki davranışlardan hangisi yanlıştır?

- A) Sınıfta aldığım görevleri yerine getiririm.
- B) Katıldığım etkinliklerde fikirlerimi özgürce söylerim.
- C) Sınıfça yapılan hiçbir çalışmaya katılmam.

4. Bir oyunu kaybettiğimizde nasıl davranmalıyız?

- A) Oyun sonucuna itiraz ederim.
- B) Kazanan arkadaşımı tebrik ederim.
- C) Bir daha o oyunu oynamam.

5. Hangisi sınıfça alınacak kararlardan biri değildir?

- A) Sınıf kurallarının belirlenmesi
- B) Sınıf başkanı seçilmesi
- C) Okul müdürünün seçilmesi

6. Kaynaklar ile ilgili verilen ifadelerden hangisi yanlıştır?

- A) Kaynaklar sınırsızdır, tükenmez.
- B) Gündüz aydınlıkta lambaları yakmamalıyız.
- C) Musluğu ihtiyacımız kadar açmalıyız.

7. "Sınıfta ihtiyacı olan ..... yardım etmeliyiz."

cümlesinde boş bırakılan yere hangisi gelmelidir?

- A) hayvanlara
- B) akrabalarımıza
- C) arkadaşlarımıza






8. Yukarıdakilerden kaç tanesi ihtiyaçtır?

- A) 2
- B) 3
- C) 4

9. Anne, baba ve çocuklardan oluşan toplumun en küçük birimine ne ad verilir?

- A) aile
- B) halk
- C) sınıf

10. Aşağıdaki görsellerden hangisinde kişisel bakım yapılmaktadır?

- A) 
- B) 
- C) 




11. Aşağıdakilerden hangisi dengeli ve düzenli beslenen bir öğrencinin yiyeceği besinlerdendir?

- A) 
- B) 
- C) 

12. Verilen ifadelerden hangisi yemekte uymamız gereken görgü kurallarından biri değildir?

- A) Peçete kullanmalıyız.
- B) Ağızımızda yemek varken konuşmamalıyız.
- C) Tabağımıza fazlaca yemek almalıyız.

13. Aşağıdaki görsellerden hangisi bağımsızlık sembolümüzdür?

- A) 
- B) 
- C) 

14. Aşağıdakilerden hangisi milli bayramlarımızdandır?

- A) Ramazan Bayramı
- B) Zafer Bayramı
- C) Kurban Bayramı

15. Aşağıdakilerden hangisi Mustafa Kemal Atatürk'ün gittiği okullardan biri değildir?

- A) Manastır Askeri İdadisi
- B) Mahalle Mektebi
- C) İstanbul Üniversitesi



# 2. SINIF HAYAT BİLGİSİ NİSAN ARA TATİLİ DEĞERLENDİRME CEVAP ANAHTARI

1	A
2	B
3	C
4	B
5	C
6	A
7	C
8	B
9	A
10	B

11	B
12	C
13	A
14	B
15	C

