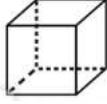




## GEOMETRİK CİSİMLER




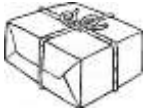
Aşağıdaki geometrik cisimleri inceleyerek noktalı yerleri doldurunuz.



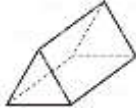
Cismin Adı: ..... Köşe Sayısı : .....  
Ayrıt Sayısı: ..... Yüz Sayısı : .....  
Bütün yüzeyleri ..... şeklindedir.



Cismin Adı: ..... Köşe Sayısı : .....  
Ayrıt Sayısı: ..... Yüz Sayısı : .....  
Yüzlerin 2 tanesi ....., 4 tanesi ..... şeklindedir.



Cismin Adı: ..... Köşe Sayısı : .....  
Ayrıt Sayısı: ..... Yüz Sayısı : .....  
Bütün yüzeyleri ..... şeklindedir.



Cismin Adı: ..... Köşe Sayısı : .....  
Ayrıt Sayısı: ..... Yüz Sayısı : .....  
Yüzlerin 2 tanesi ....., 3 tanesi ..... şeklindedir.



Cismin Adı: ..... Köşe Sayısı : .....  
Ayrıt Sayısı: ..... Yüz Sayısı : .....  
Yüzlerin 2 tanesi ....., 1 tanesi ..... şeklindedir.



Cismin Adı: ..... Köşe Sayısı : .....  
Ayrıt Sayısı: ..... Yüz Sayısı : .....



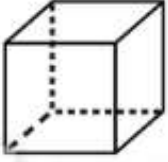
Cismin Adı: ..... Köşe Sayısı : .....  
Ayrıt Sayısı: ..... Yüz Sayısı : .....



## GEOMETRİK CİSİMLER



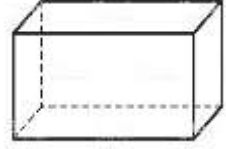
Aşağıdaki geometrik cisimlerin isimlerini yazınız. Özelliklerine altındaki kutulara isimlerini yazınız.



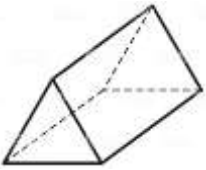
.....



.....



.....



.....



.....



.....



.....

8 KÖŞESİ OLANLAR

.....  
.....  
.....

12 AYRITI OLANLAR

.....  
.....  
.....

6 YÜZÜ OLANLAR

.....  
.....  
.....

6 KÖŞESİ OLANLAR

.....

3 YÜZÜ OLANLAR

.....

KÖŞESİ VE AYRITI  
OLMAYANLAR

.....  
.....  
.....

2 YÜZÜ OLANLAR

.....

1 YÜZÜ OLANLAR

.....



## GEOMETRİK CİSİMLER

Verdikleri bilgilere göre aşağıdaki isimlerle geometrik cisimleri eşleştiriniz.



Tüm yüzleri karedir. 6 yüzü vardır.



Köşesi ve ayrıtı yoktur. 1 yüzü vardır.



2 kare ve 4 dikdörtgen yüzü vardır.



2 üçgen ve 3 dikdörtgen yüzü vardır.



Köşesi ve ayrıtı yoktur. 1 yüzü vardır.




Köşesi ve ayrıtı yoktur 2 yüzü vardır.



Tüm yüzleri dikdörtgendir. 6 yüzü vardır.



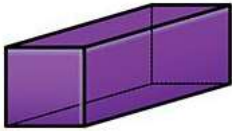
.....



.....



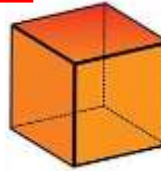
.....



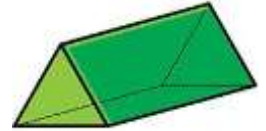
.....



.....



.....



.....



Aşağıda belirtilen geometrik cisimlerin özelliklerini yazınız.

Cismin Adı	Köşe Sayısı	Yüz Sayısı	Ayrıt Sayısı	Oluşturan Şekiller
Küp				
Kare prizma				
Dikdörtgenler prizması				
Üçgen prizma				
Silindir				