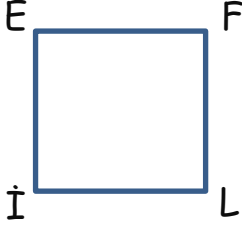


Adı :
Soyadı:

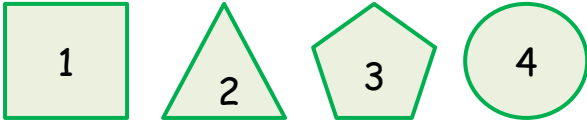
4. Sınıf
Matematik

Geometri
Yaprak Test-2



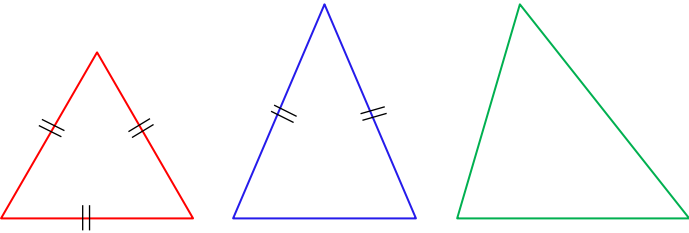
1) Yukarıdaki karenin ismi aşağıdakilerden hangisi olamaz?

- A) ELİF B) EFLİ C) İEFL D) FLİE



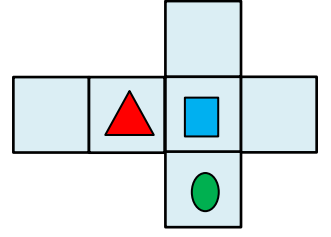
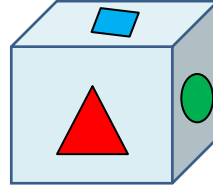
2) Yukarıda verilen geometrik şekillerden hangilerinde köşegen çizilemez?

- A) 1-3 B) 2-4 C) 2-3 D) 3-4



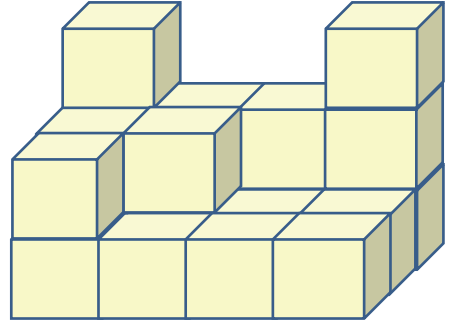
3) Yukarıda verilen üçgenlerin türleri hangisinde doğru verilmiştir?

- | | Kırmızı | Mavi | Yeşil |
|----|-----------|-----------|------------|
| A) | Eşkenar | Dikkenar | Çokkenar |
| B) | Üçgen | İkizkenar | Dikkenar |
| C) | Eşkenar | İkizkenar | Çeşitkenar |
| D) | İkizkenar | Dikkenar | Genişkenar |



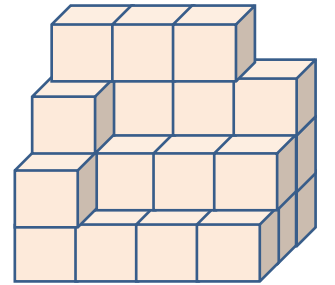
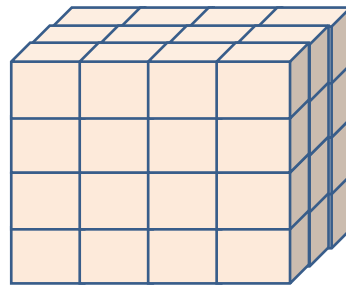
4) Yukarıdaki kapalı küpün açılımı verilmiştir. Açınımına göre hangi bilgi doğrudur?

- A) Mavi karenin üstünde kırmızı üçgen vardır.
B) Yeşil dairenin çaprazında mavi kare vardır.
C) Mavi karenin sağında kırmızı üçgen vardır.
D) Kırmızı dairenin solunda mavi kare vardır.



5) Yukarıdaki eş küplerden oluşan yapıda kaç tane eş küp bulunur.

- A) 15 B) 18 C) 21 D) 24



6) Soldaki yapıdan bazı eş küpler çıkarılınca sağdaki yapı oluşmuştur. Soldaki yapıdan kaç tane eş küp çıkarılmıştır?

- A) 29 B) 19 C) 21 D) 25

Adı :
Soyadı:

4. Sınıf
Matematik

Geometri
Yaprak Test-2

Doğru :

Yanlış:.....

- 1 A B C D
2 A B C D
3 A B C D
4 A B C D
5 A B C D

- 6 A B C D
7 A B C D
8 A B C D
9 A B C D
10 A B C D

- 11 A B C D
12 A B C D
13 A B C D
14 A B C D
15 A B C D

- 16 A B C D
17 A B C D
18 A B C D
19 A B C D
20 A B C D