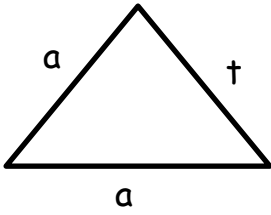


Adı :
Soyadı:

4. Sınıf
Matematik

Geometri
Yaprak Test-3

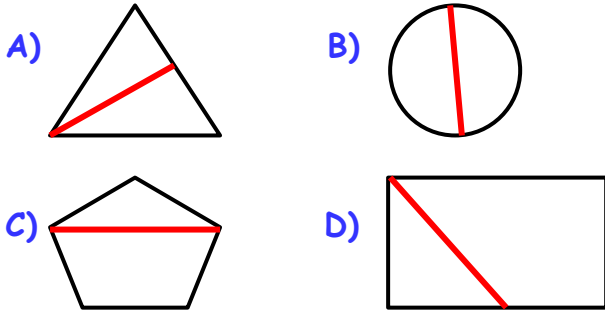


- 1- Üçgenin adı ATA üçgenidir.
- 2- Üçgenin isimleri köşelere yazılmalıdır.
- 3- Üçgenin isimleri yazılırken büyük harf kullanılmalıdır.
- 4- Üçgene isim verirken aynı harfler kullanılmamalıdır.
- 5- Üçgeni isimlendirirken harfler alfabetik olarak sırayla yazılmalıdır.

1) Yukarıdaki üçgenin isimlendirilmesinde verilen ifadelerden kaç tanesi doğrudur?

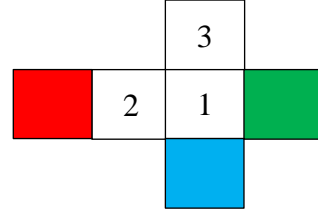
- A) 2 B) 3 C) 4 D) 5

2) Aşağıda verilen şekillerden hangisinde köşegen kırmızı çizgi ile çizilmiştir?



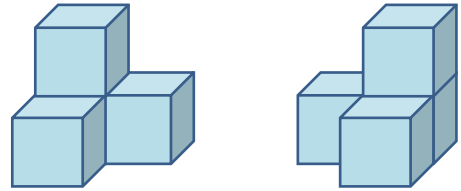
3) Kenar uzunlukları verilen üçgenlerden hangisi eşit kenar üçgendir?

- | 1. Kenar | 2. Kenar | 3. Kenar |
|-----------------|-------------|-------------|
| A) AB = 9 cm | AB = 9 cm | AB = 8 cm |
| B) AB = 12 cm | AB = 12 cm | AB = 12 cm |
| C) AB = 7 cm | AB = 8 cm | AB = 9 cm |
| D) AB = 10 cm | AB = 12 cm | AB = 12 cm |

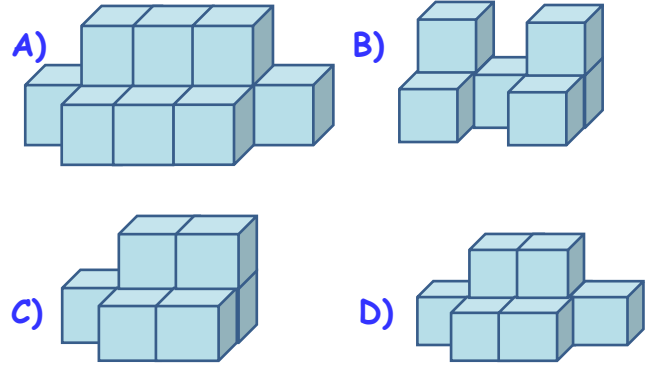


4) Yukarıdaki küpün açınımında karşılıklı yüzeyler aynı renge boyanmıştır. Bu durumda 1-2-3 kutuları hangi renge boyanmalıdır?

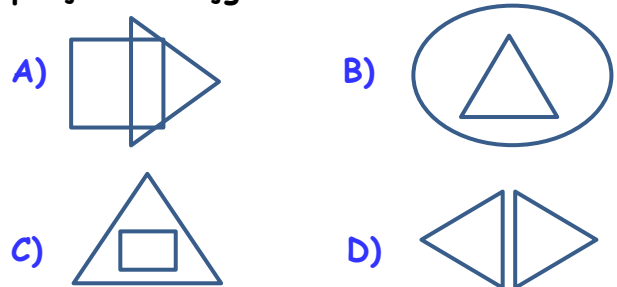
- | 1 | 2 | 3 |
|------------|---------|---------|
| A) Yeşil | Kırmızı | Mavi |
| B) Kırmızı | Yeşil | Mavi |
| C) Mavi | Yeşil | Kırmızı |
| D) Kırmızı | Yeşil | Mavi |



5) Eş küplerden oluşturulmuş iki farklı yapı birleştirilirse aşağıdakilerden hangisi oluşur?



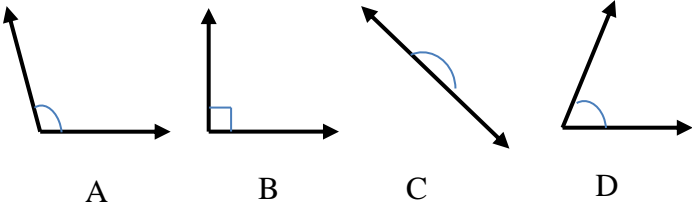
6) Aşağıda verilenlerden hangisinde düzlem parçası bir üçgendir?



Adı :
Soyadı:

4. Sınıf
Matematik

Geometri
Yaprak Test-3



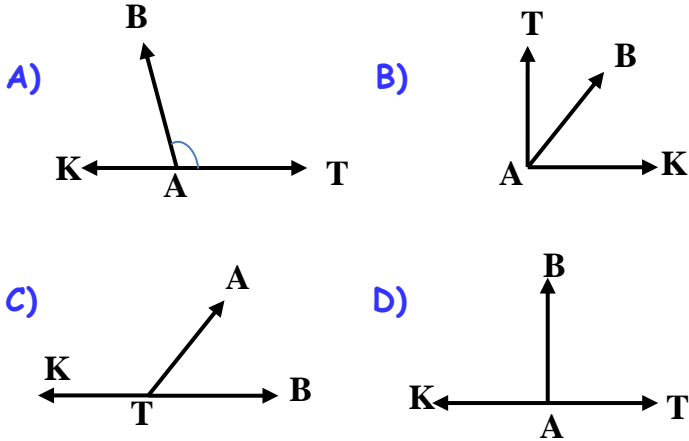
7) Yukarıda verilen açıların türleri hangisinde doğru verilmiştir?

	A	B	C	D
A)	Geniş	Doğru	Düz	Dar
B)	Dik	Dik	Doğru	Geniş
C)	Geniş	Tam	Geniş	Tam
D)	Geniş	Dik	Doğru	Dar

$$s(\widehat{KAB}) = 60^\circ$$

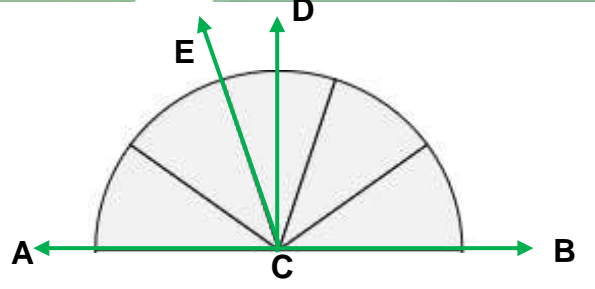
$$s(\widehat{KAT}) = 180^\circ$$

8) Yukarıda ölçüleri verilen açılar hangisinde birlikte gösterilmiştir?



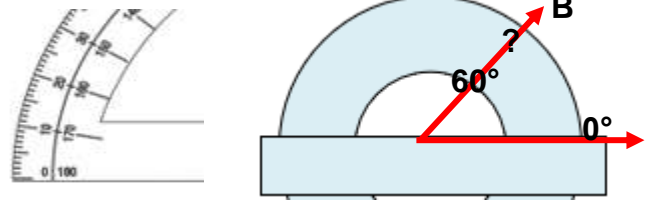
9) Aşağıda verilen ölçülerden hangisi türlerine göre diğerlerinden farklıdır?

- A) 120° B) 110° C) 95° D) 85°



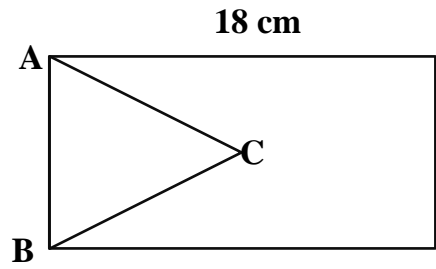
10) Yukarıdaki şekilde ACB doğru açısı 5 eş dilime bölünmüştür. BCD açısı dik açı olduğuna göre ECD açısının ölçüsü nedir?

- A) 25° B) 18° C) 36° D) 22°



11) İletki üzerinde dereceler iki tarafta yazılır. B ışının dar tarafında 60° yazılı iken geniş tarafında (?) hangi derece yazmaktadır?

- A) 120° B) 60° C) 90° D) 180°



12) Yukarıdaki dikdörtgenin kısa kenarı uzun kenarının $\frac{2}{3}$ 'si kadardır. ABC üçgeni eş kenar üçgen olduğuna göre bu üçgenin çevresi ne kadardır?

- A) 27 cm B) 24 cm C) 36 cm D) 32 cm

Adı :
Soyadı:

4. Sınıf
Matematik

Geometri
Yaprak Test-3

Doğru :

Yanlış:.....

- 1 A B C D
2 A B C D
3 A B C D
4 A B C D
5 A B C D

- 6 A B C D
7 A B C D
8 A B C D
9 A B C D
10 A B C D

- 11 A B C D
12 A B C D
13 A B C D
14 A B C D
15 A B C D

- 16 A B C D
17 A B C D
18 A B C D
19 A B C D
20 A B C D