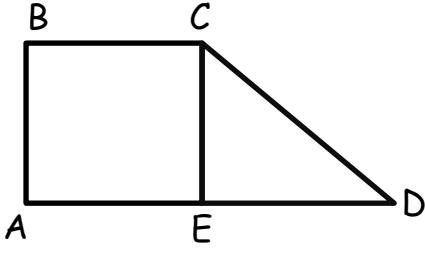


Adı :
Soyadı:

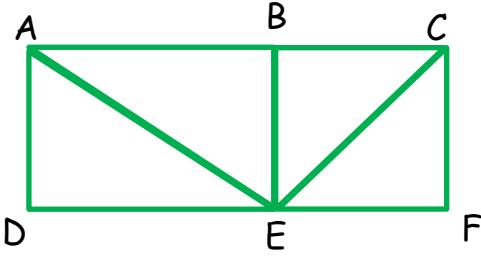
4. Sınıf
Matematik

Geometri
Yaprak Test-4



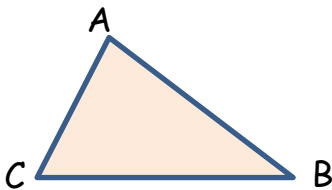
1) Yukarıda verilen kare ile üçgenin ortak kenarı hangisinde yazılmıştır?

- A) \square ADCB B) [EC] C) [DCE] D) \triangle CED



2) Yukarıda üçgenlerden oluşan şekilde aşağıdakilerden hangisi yoktur?

- A) ACFD dikdörtgeni B) CEB üçgeni
C) CEFD karesi D) ABD üçgeni



ABC üçgeninde AB ve BC kenarı 4 cm'dir.
AC kenarı ise 6 cm'dir.

- I. En uzun kenar, AC kenarıdır.
II. Üçgen, eşkenardır.
III. Üçgen ikizkenardır.

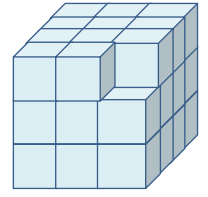
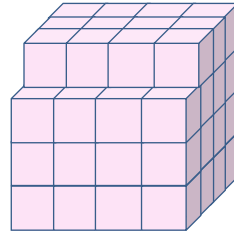
3) Verilenlere göre numaralandırılmış ifadelerden hangisi ya da hangileri doğrudur?

- A) I ve II B) Yalnız I
C) I ve III D) I,II ve III



4) Yukarıda verilen küpte üst yüz kırmızı, sağ yüz sarı, ön yüzü yeşil ile boyanmıştır. Bu küpün görünmeyen yüzleri hangi renktir?

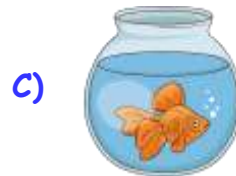
| Arka Yüz | Alt Yüz | Sol Yüz |
|------------|---------|---------|
| A) Kırmızı | Yeşil | Sarı |
| B) Yeşil | Kırmızı | Sarı |
| C) Yeşil | Sarı | Kırmızı |
| D) Sarı | Kırmızı | Yeşil |



5) Yukarıda eş küplerden oluşturulmuş iki farklı yapı vardır. İkisinde toplam kaç tane eş küp vardır?

- A) 86 B) 88 C) 90 D) 92

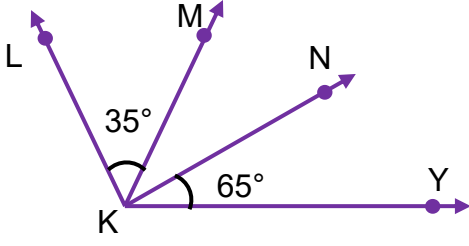
6) Aşağıdakilerden hangisi bir düzlem modelidir?



Adı :
Soyadı:

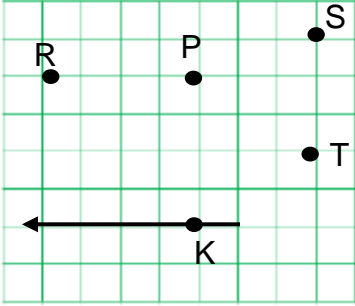
4. Sınıf
Matematik

Geometri
Yaprak Test-4




7) Yukarıdaki şekilde $s(\widehat{YKL}) = 135^\circ$ olduğuna göre $s(\widehat{MKN}) = ?$

- A) 35° B) 80° C) 45° D) 25°



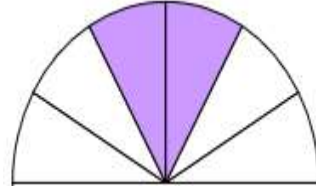
8) Yukarıda verilen şekilde K noktasından hangi harfe doğru bir ışın çizilirse dar açı oluşur?

- A) S B) R C) T D) P

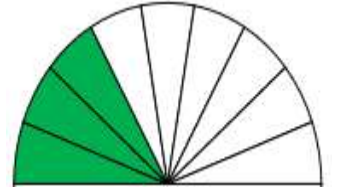


9) Yukarıda verilen izometrik bölgede noktalardan ışınlar çizildiğinde dik açı oluşturacak ışınların geçtiği renkli noktalar hangileridir?

- A) ● ● ● B) ● ● ●
C) ● ● ● D) ● ● ●



Yağız



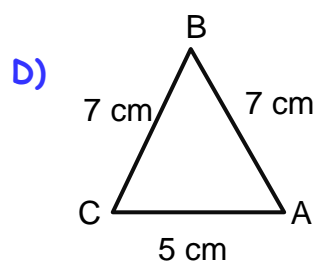
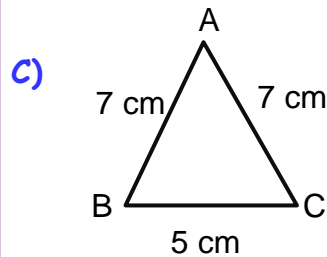
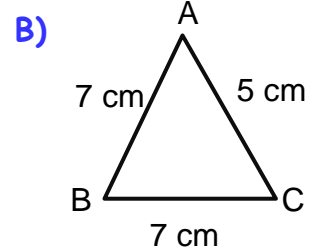
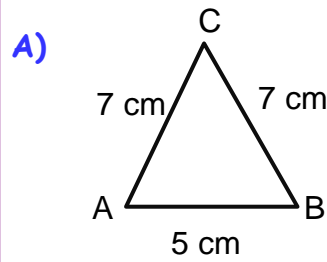
Beyza

10) Öğretmen Yağız ve Beyza'ya "doğru açığı eş dilimlere bölerek 30° 'lik açı çizmelerini istemiştir. Öğrencilerin çizdiği açılar yukarıda verilmiştir. Buna göre hangi bilgi doğrudur?

- A) İki öğrencinin çizdiği açı ölçüsü eşittir.
B) Beyza'nın açısı 30° 'den 15 fazladır.
C) Yağız 10° dar çizmiştir.
D) İkisi de tam 30° 'lik açı çizmiştir.

a = 5 cm
b = 7 cm
c = 7 cm

11) Yukarıda kenar uzunlukları verilen üçgen aşağıdakilerden hangisidir?



Adı :
Soyadı:

4. Sınıf
Matematik

Geometri
Yaprak Test-4

Doğru :

Yanlış:.....

- 1 A B C D
2 A B C D
3 A B C D
4 A B C D
5 A B C D

- 6 A B C D
7 A B C D
8 A B C D
9 A B C D
10 A B C D

- 11 A B C D
12 A B C D
13 A B C D
14 A B C D
15 A B C D

- 16 A B C D
17 A B C D
18 A B C D
19 A B C D
20 A B C D