

Adı :

Soyadı:

1. Sınıf
Matematik

Zamanı Ölçme
Saat Okuma-2

Yelkovan 12'nin üstünde. Akrep
3'ün tam üstünde.

Yelkovan 6'nin üstünde. Akrep 3
ile dört arasında



Saat tam 3



Saat 3 buçuk

Saat kaç?



İki buçuk



Adı :

Soyadı:

1. Sınıf
Matematik

Uzunluk Ölçüleri
Saat Okuma-2

Saati çiziniz.



Saat sekiz buçuk




Saat bir buçuk



Saat üç buçuk




Saat dokuz buçuk




Saat beş buçuk



Saat on buçuk



Saat iki buçuk




Saat yedi buçuk



Saat dört buçuk



Saat on bir buçuk



Saat altı buçuk



Saat on iki buçuk