

Bir adam ve oğlu ormanda yürüyorlardı. Aniden çocuk düştü ve acı içinde bağırdı: "Ahhhh!" Hemen sonra dağdan gelen "Ahhhh!" sesi onu şaşırttı. Merak içinde "Kimsiniz?" diye haykırdı. Fakat sadece "Kimsiniz?" cevabını aldı. Cevap onu kızdırmıştı ve tekrar bağırdı: "Siz bir korkaksınız!" Ses cevap verdi: "Siz bir korkaksınız!" Babasına baktı ve sordu: "Ne oluyor?" "Oğlum" dedi adam, "Kulak ver, dikkat et şimdi!" Sonra baba bağırdı: "Ben sana hayranım" Baba bağırmasına devam etti: "Sen harikasin!" Ses cevap verdi: "Ben sana hayranım", "Sen harikasin!".


Çocuk şaşkındı fakat halen ne olup bittiğini anlamamıştı. Baba durumu açıkladı: "İnsanlar bu durumu **yankı** diye isimlendirirler. Fakat bu durum tam anlamıyla hayatın kendisidir. Hayat daima senin ona verdiğini sana geri verir. Hayat senin eylemlerinin bir aynasıdır."

1. soruyu üstteki metne göre yanıtlayınız.

- 1) Aşağıdaki atasözlerinden hangisi metnin **ana fikri** ile ilgilidir?
- A) Bin atın varsa bin dinlen, bir atın varsa in dinlen.
 B) Darı unundan baklava, incir ağacından oklava olmaz.
 C) İyilik eden iyilik bulur, kötülük eden kötülük bulur.
 D) Ucuzdur vardır bir illeti, pahalıdır vardır bir hikmeti.

- 2) "savaş – harp" sözcükleri arasındaki **anlam ilişkisi** aşağıdakilerden hangisinde yoktur?

- A) soru – cevap B) ikaz – uyarı
 C) yoksul – fakir D) cümle – tümce

- 3)  Odanı toplamalısın

Üstteki **cümle** hangi ifade ile devam ederse farklı düşünmeye yönlendirir?

- A) ve bunu her gün yapmalısın.
 B) yoksa ceza alacaksın.
 C) kıyafetlerini asmalısın.
 D) baban öyle söyledi.


Sürüye kurt saldırmış	I
Şehrimin adını biliyorum.	II
Köyün ormanını gördüm.	III
Polisler denetim yapıyor.	IV

Üstteki cümlelerden hangilerinde **topluluk adı** yoktur?

- A) I ve IV B) I ve III
 C) II ve III D) II ve IV

- 5) Aşağıdaki **kelimelerden** hangisi doğru yazılmamıştır?

- A) makina B) poğaça
 C) iddia D) maydanoz

- 6)  Sıcak havalarda dondurma yemeyi çok severim.

Yukarıdaki cümlede **varlığın özelliğini** belirten kelime aşağıdakilerden hangisidir?

- A) dondurma B) sıcak
 C) yemeyi D) havalarda

7)
$$\begin{array}{r} 2059 \\ + 1643 \\ \hline A \end{array}$$

$$\begin{array}{r} A \\ + 1756 \\ \hline B \end{array}$$

Yandaki işlemlere göre **A+B** kaçtır?

- A) 9040 B) 9160
C) 9380 D) 9510



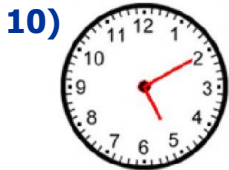
8) Aylık **98** lira ödeyecek şekilde **18** ay taksitle tablet aldım. **11** taksit ödedim. Geriye ödenecek kaç lira kaldı?

- A) 1078 lira B) 882 lira
C) 686 lira D) 588 lira



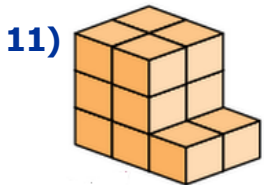
9) **270** sayfalık kitabın önce $\frac{4}{9}$ 'ünü, sonra $\frac{2}{9}$ 'sini okudum. Okumadığım kaç sayfa kaldı?

- A) 180 sayfa B) 150 sayfa
C) 120 sayfa D) 90 sayfa



10) Yandaki **saatin** öğleden sonra yazılışı, aşağıdaki seçeneklerden hangisinde **doğru** yazılmıştır?

- A) 02.25 B) 05.10
C) 17.10 D) 14.25



11) Yandaki **yapı** oluşturulurken kaç eş **küp** kullanılmıştır?

- A) 16 küp B) 14 küp
C) 12 küp D) 10 küp

12)



Yukarıdaki **harflerden** kaç tanesinin simetri doğrusu bulunmamaktadır?

- A) 3 B) 1
C) 4 D) 2

13)



Bir **salyangoz** 8 m yolun 480 cm'sini sürünerek katetti. Geriye kaç **cm** yolu kalmıştır?

- A) 32 cm B) 472 cm
C) 420 cm D) 320 cm

14) Aşağıdaki ifadelerden hangisi **yanlıştır**?

- A) Mekanik aletlerin günlük hayatımıza daha çok girmesi gürültüyü artırmıştır.
B) Plansız ve düzensiz kentleşme, ses kirliliğini artıran önemli etmenlerdendir.
C) Sürekli olarak yüksek sese maruz kalmak işitme kaybına sebep olabilir.
D) Kas gerilmeleri ve solunumun hızlanması, gürültünün olumlu etkilerindedir.

15)

İnşaat yapımında komşu duvarlar arasında kullanılmalıdır.

Ses kirliliğinin çözümüne yönelik ifade noktalı alana ne gelmelidir?

- A) yalıtım malzemesi B) tuğlalar
C) cam levhalar D) tahta bloklar

16) Aşağıdakilerden hangisi **okulumuza** karşı sorumluluklarımızdan biridir?

- A) Aile bütçesine katkı sağlamak
B) Doğaya karşı duyarlı olmak
C) Okul eşyalarını özenli kullanmak
D) Tutamayacağımız sözler vermek

CEVAP ANAHTARI

- | | |
|------|-------|
| 1) C | 10) C |
| 2) A | 11) B |
| 3) B | 12) A |
| 4) D | 13) D |
| 5) A | 14) D |
| 6) B | 15) A |
| 7) B | 16) C |
| 8) C | |
| 9) D | |