


# 3. SINIF

## FEN BİLİMLERİ DERSİ 27. HAFTA ÇALIŞMA KAĞIDI

- Verilen görselleri doğal ya da yapay çevre olarak isimlendirelim.

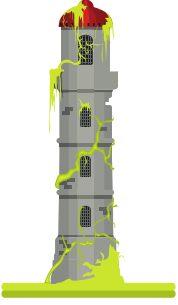


.....

.....

.....

.....




.....

.....

.....

.....



.....

.....

.....

- Verilen ifadelerden doğru olanların başına "D", yanlış olanların başına "Y" koyalım.

- ( ) Canlı ve cansız varlıkların bulunduğu kendiliğinden oluşan ortamlara doğal çevre denir.
- ( ) İnsanların ihtiyaçlarını karşılamak için yaptıkları ortamlara yapay çevre denir.
- ( ) Marketler, alışveriş merkezleri doğal çevreye örnektir.
- ( ) Şelaleler, ovalar, tepeler yapay çevreye örnektir.
- ( ) Doğal çevrenin korunması ve gelecek nesillere aktarılması hepimizin görevidir.
- ( ) Oturduğumuz bina doğal çevre unsurudur.
- ( ) Tüneller, köprüler, alt ve üst geçitler yapay çevre unsurlarıdır.
- ( ) Mağaralar yapay çevre unsurudur.

