

Ad, soyad:

Funda Menekşe

Haftalık

Değerlendirme - 8



Doğru:

Yanlış :

Ramazan Bayramı yaklaşırken evlerde bir telaş başlar. Temizlik yapılır. Tatlılar, börekler hazırlanır. Yapraklar sarılır, dolmalar pişirilir. Bayramın en güzel yanı her zaman göremediğimiz akrabalarımızla bir araya gelmektir. Uzakta yaşayanlar memleketlerine giderler. Büyükler ziyaret edilir.



Çocuklar için bayramın en eğlenceli aktivitesi ise şeker toplamaktır. Çocuklar arasında tatlı bir yarış olur. Toplanan şekerler sayılır, paylaşılır.

İlk dört soruyu metne göre cevaplayalım.

1- Hangisi Ramazan Bayramı yaklaşırken evlerde yapılanlardan değildir?

- A) Kurban kesilir.
- B) Temizlik yapılır.
- C) Tatlılar yapılır.

2- Bayramın en güzel yanı hangisidir?

- A) Dolma yemek
- B) Akrabalarımızla bir araya gelmek
- C) Temizlik yapmak

3- Çocuklar hangisi için yarışır?

- A) Şeker toplamak
- B) Oyun oynamak
- C) Okula gitmek




4- Metin hangi bayramdan bahsetmektedir?

- A) Kurban Bayramı
- B) Ramazan Bayramı
- C) Cumhuriyet Bayramı

1	eldiven	el-di-ven
2	oyuncak	oy-un-cak
3	perşembe	per-şem-be




Cemre, öğretmenin verdiği kelimeleri hecelerine ayırdı.

5- Cemre kaç numaralı kelimeye hata yapmıştır?

- A)  B)  C) 

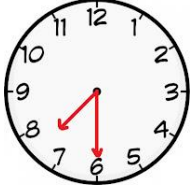
Kayseri	Halı
Balık	Müge

6- Yukarıdaki tabloda özel isimleri boyadığımızda boyalı tablo nasıl görünür?

- A)  B) 
- C) 

7- Aşağıdakilerden hangisi bir cümle değildir?

- A) Selin eve geç geldi
- B) Bugün maçta
- C) Neredesiniz



8- Verilen saatin okunuşu hangisidir?


- A) Altı buçuk
- B) yedi
- C) yedi buçuk



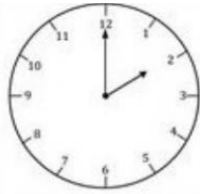
9- Bu saatte okuldan çıkan Emre üç saat sonra akşam yemeği yiyor. Akşam yemeği sırasında saat kaçtır?

- A) altı
- B) sekiz
- C) on iki

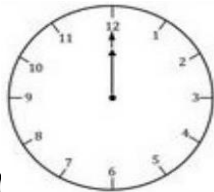
10- Pelin parka gittiğinde saat ikiydi. Hangisi Pelin'in parka gittiği saati gösterir?



A)



B)



C)

11- Onar ritmik sayarken elliden sonra hangi sayıyı söyleriz?

- A) 55
- B) 40
- C) 60

12- Aşağıdaki çocuklardan hangisi diğerlerinden az elma yemiştir?

A)  Altı yarım elma yedim.

B)  İki bütün elma yedim.

C)  İki yarım elma yedim.

13- Aşağıdaki alanlardan hangisi oyun oynamak için tehlikelidir?



A)



B)



C)


14- Aşağıdaki ifadelerden doğru olan hangisidir?

- A) Üstü açık araçlar güvenlidir.
- B) Emniyet kemeri gereksizdir.
- C) Reçetesiz ilaç kullanmamalıyız.

15- Hangisiyle oynamak tehlikeli değildir?



A)



B)



C)