


İlkokul



MATHEMATICS

MATEMATİK

SİMETRİ

DEĞERLENDİRME TESTİ



Mislihan
TEKİN

SİMETRİ DEĞERLENDİRME TESTİ

1 Aşağıdaki harflerden hangisinin simetri doğrusu yoktur?

- A) H B) M C) N D) O

2 Dikdörtgenin kaç simetri eksenine sahiptir?

- A) 2 B) 3 C) 4 D) 5

3 Eşkenar üçgenin kaç simetri eksenine sahiptir?

- A) 6 B) 5 C) 4 D) 3


4 Aşağıdaki harflerin hangisinin simetri doğrusu vardır?

- A) S B) B C) L D) Z

5

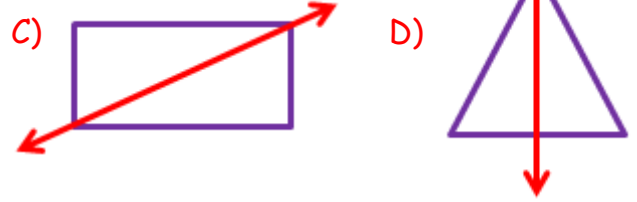
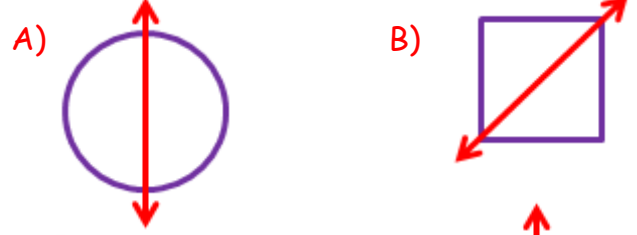


Yukarıdaki şekillerden hangilerinin simetri doğruları vardır?



Müslüm
TEKİN

6 Aşağıdaki şekillerin hangisinde simetri doğrusu yanlış olarak verilmiştir?

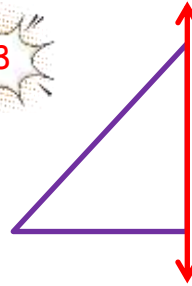


7 B, C, O, H, 8, T, A

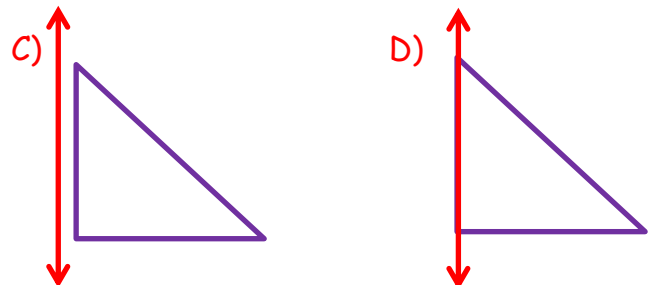
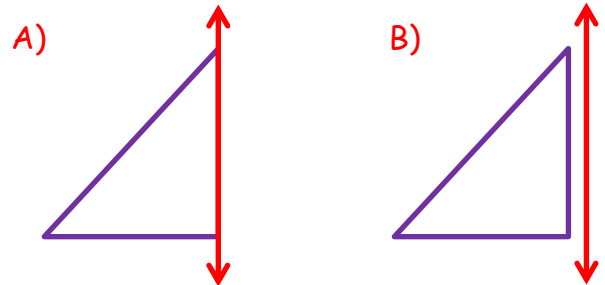
Yukarıdaki harf ve rakamlardan kaç tanesinde birden fazla simetri doğrusu vardır?

- A) 3 B) 4 C) 5 D) 6

8



Yukarıdaki üçgenin verilen simetri doğrusuna göre simetrisi aşağıdakilerden hangisidir?



9 Aşağıdaki harflerden hangisinin simetrisi çizilmez?

- A) V B) A C) Z D) O

10 Aşağıdaki harflerden hangisinin yandaki doğruya göre simetriği yanlış verilmiştir?

- A) P P N N
B) N N
C) b d
D) h h

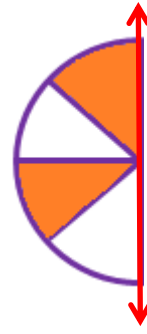
11 Aşağıdaki ifadelerden hangisi yanlıştır?

- A) Karenin dört simetri doğrusu vardır.
B) Eşkenar üçgenin üç simetri doğrusu vardır.
C) Çemberin çok sayıda simetri doğrusu vardır.
D) Dikdörtgenin dört simetri doğrusu vardır.

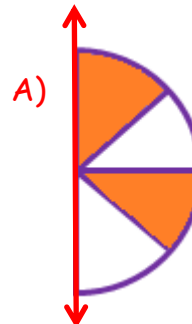
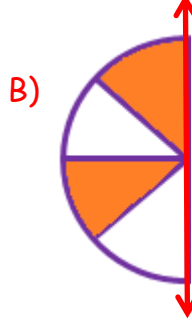
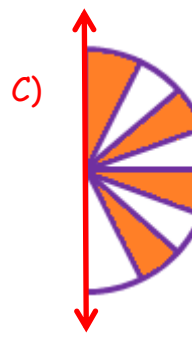
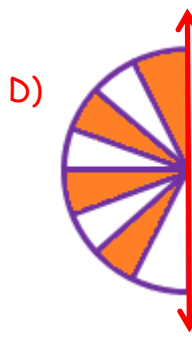


Mislim
TEKİN

12







Yandaki şeklin simetriği aşağıdakilerden hangisidir?

- A) 
B) 
C) 
D) 

13



Yukarıdaki şeklin simetriği aşağıdakilerden hangisidir?

- A) 
B) 
C) 
D) 

14

AYA



Yandaki sözcüğün simetri doğrusu hangi seçenekte doğru olarak çizilmiştir?



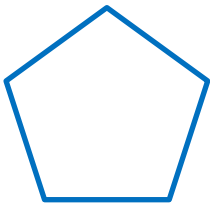
15 Aşağıdaki harflerden hangisine hem dikey hem de yatay simetri doğrusu çizilebilir?

A) H B) E C) Y D) C

16 Aşağıda verilen şekillerden hangisine diğerlerinden daha çok simetri doğrusu çizilebilir?



17



Yandaki düzgün beşgenin kaç simetri doğrusu vardır?

A) 3 B) 4 C) 5 D) 6

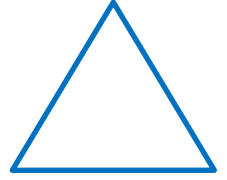

18



Yandaki düzgün altıgenin kaç simetri doğrusu vardır?

A) 6 B) 7 C) 8 D) 9

19



Yukarıdaki düzgün altıgen, dikdörtgen ve eşkenar üçgenin simetri doğruları sayıları toplamı kaçtır?

A) 14 B) 13 C) 12 D) 11

20

Aşağıda verilen bilgilerden hangileri yanlıştır?

- A) Simetri doğrusu üzerindeki her noktanın simetriği kendisidir.
- B) Dikdörtgenin köşegenleri aynı zamanda simetri doğrularıdır.
- C) Simetrik nokta çiftlerinin simetri doğrusuna uzaklıkları aynıdır.
- D) Doğruya göre simetri ve noktaya göre simetri aynıdır.

Mislimin
TEKİN



CEVAP ANAHTARI

1	2	3	4	5	6	7	8	9	10
C	A	D	B	B	C	A	D	C	B

11	12	13	14	15	16	17	18	19	20
D	A	C	B	A	D	C	A	D	B

раскраска скачана с www.raskraska.com



Müslüm
TEKİN