

GÜN, HAFTA, AY

1.Etkinlik : Aşağıda verilen takvimi inceleyelim. Soruları cevaplayalım.

EKİM						
Pt	Sa	Ça	Pe	Cu	Ct	Pz
					1	2
3	4	5	6	7	8	9
10	11	12	13	14	15	16
17	18	19	20	21	22	23
24	25	26	27	28	29	30
31						

Yandaki takvim sayfası hangi aya aittir ?

Ayın ilk günü hangi gündür ?

Ayın son günü hangi gündür ?

Bu ay toplam kaç gündür ?

Bu ayda kaç tane salı günü vardır ?

Bu ayda kaç tane tam hafta vardır ?

Bu ayda toplam kaç tane tatil günü vardır ?

Ayın 12. günü hangi gündür ?

Ayın 21. günü hangi gündür ?

Ayın 14'ü cuma ise 3 gün sonrası hangi gündür ?

Ayın 25'i salı ise 4 gün öncesi hangi gündür ?

1.Etkinlik : Noktalı yerleri uygun şekilde dolduralım.

Dün	Bugün	Yarın
.....	Çarşamba

Dün	Bugün	Yarın
.....	Pazar

Dün	Bugün	Yarın
Pazar

Dün	Bugün	Yarın
.....	Cuma

Dün	Bugün	Yarın
.....	Salı

Dün	Bugün	Yarın
Cumartesi

GÜN , HAFTA , AY , YIL

1.Etkinlik : Aşağıda verilen etkinlikleri yapalım.

Haftanın günlerini örnek-
teki gibi yazalım.



1 . gün
2 . gün
3 . gün çarşamba
4 . gün
5 . gün
6 . gün
7 . gün

Ayları ve gün sayılarını
örnekteki gibi yazalım.

ocak 31
.....
.....
.....
.....
.....
.....
.....
.....
.....
.....
.....
.....

Noktalı yerleri uygun şekilde dolduralım.

1 saat dakikadır. 1 gün saattir.
1 hafta gündür. 1 ay gündür.
1 yıl aydır. 1 yıl mevsimdir.

Aşağıda mevsimler ve aylar ile ilgili noktalı yerleri uygun şekilde dolduralım.

İlkbahar

Mart

.....
.....

.....

Temmuz

.....

.....

Kasım

.....

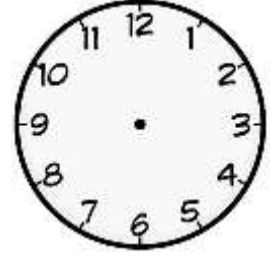
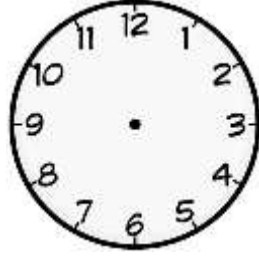
Aralık

.....
.....

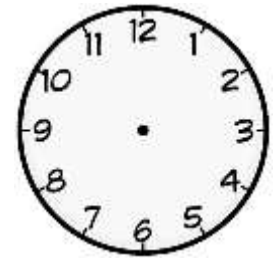
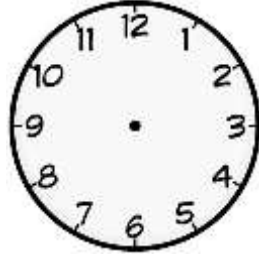


ZAMANI ÖLÇME

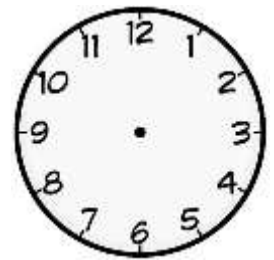
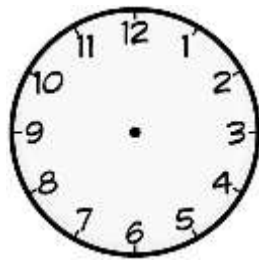
1. Etkinlik : Aşağıdaki saatleri okuyup altına yazalım. Yanındaki saate 2 saat sonrası gösterelim ve okuyup yazalım.



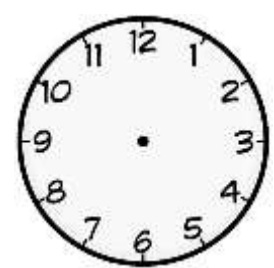
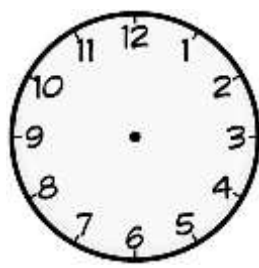
2. Etkinlik : Aşağıdaki saatleri okuyup altına yazalım. Yanındaki saate 3 saat sonrası gösterelim ve okuyup yazalım.



3. Etkinlik : Aşağıdaki saatleri okuyup altına yazalım. Yanındaki saate 2 saat öncesini gösterelim ve okuyup yazalım.

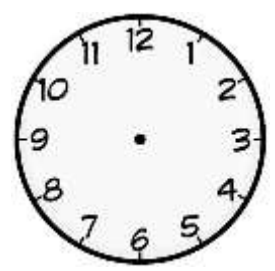
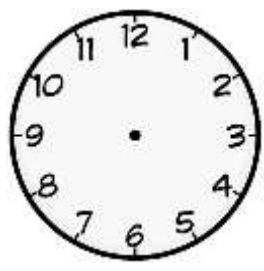
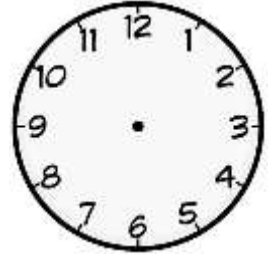
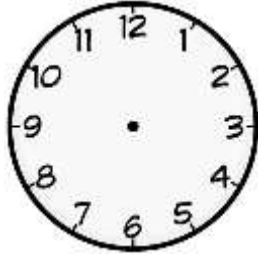


4. Etkinlik : Aşağıdaki saatleri okuyup altına yazalım. Yanındaki saate 3 saat öncesini gösterelim ve okuyup yazalım.

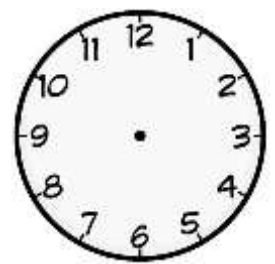
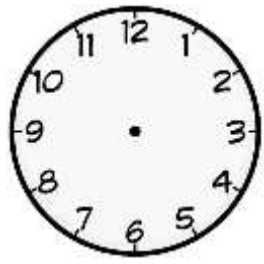
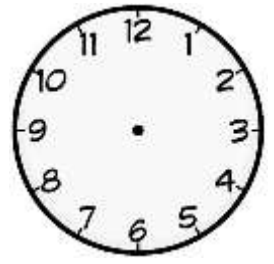
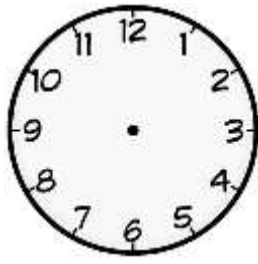


ZAMANI ÖLÇME

1. Etkinlik : Aşağıdaki saatleri okuyup altına yazalım. Yanındaki saate yarım saat sonrasını gösterelim ve okuyup yazalım.

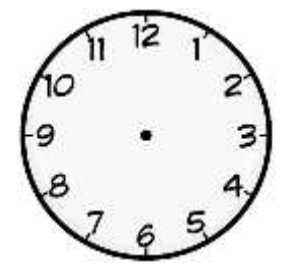
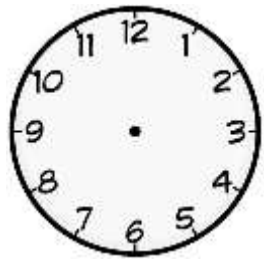
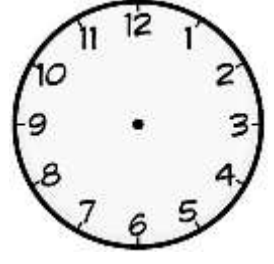
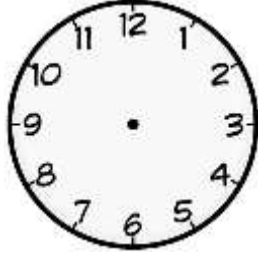


2. Etkinlik : Aşağıdaki saatleri okuyup altına yazalım. Yanındaki saate yarım saat öncesini gösterelim ve okuyup yazalım.

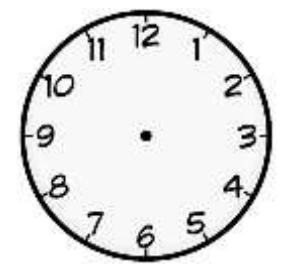
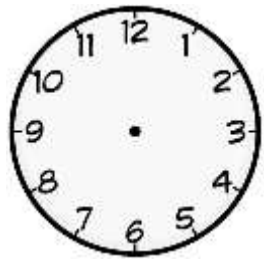
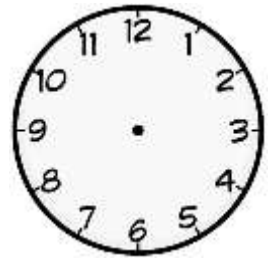
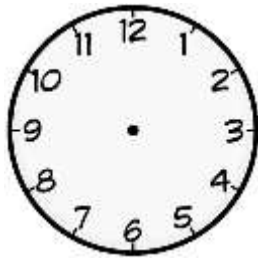


ZAMANI ÖLÇME

1. Etkinlik : Aşağıdaki saatleri okuyup altına yazalım. Yanındaki saate çeyrek saat (15 dakika) sonrasını gösterelim ve okuyup yazalım.



2. Etkinlik : Aşağıdaki saatleri okuyup altına yazalım. Yanındaki saate çeyrek saat (15 dakika) öncesini gösterelim ve okuyup yazalım.



ZAMANI ÖLÇME

1.Etkinlik : Aşağıdaki soruları örnekteki gibi işlem yaparak cevaplayalım.



3 saat sonrasında saat kaç olur ?

$$\begin{array}{r} 04.00 \\ + 3.00 \\ \hline 07.00 \end{array}$$



2 saat sonrasında saat kaç olur ?



2 saat öncesi saat kaç olur ?



4 saat öncesi saat kaç olur ?



5 saat öncesi saat kaç olur ?



5 saat sonrası saat kaç olur ?



2 saat öncesi saat kaç olur ?



3 saat sonrası saat kaç olur ?



7 saat sonrası saat kaç olur ?



5 saat sonrası saat kaç olur ?



4 saat öncesi saat kaç olur ?



2 saat sonrası saat kaç olur ?

ZAMANI ÖLÇME

1.Etkinlik : Aşağıdaki soruları örnekteki gibi işlem yaparak cevaplayalım.



3 saat öncesinde saat kaç olur ?

$$\begin{array}{r} 08.30 \\ - 3.00 \\ \hline 05.30 \end{array}$$



2 saat sonrasında saat kaç olur ?



2 saat öncesi saat kaç olur ?



4 saat öncesi saat kaç olur ?



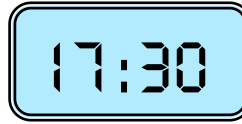
5 saat öncesi saat kaç olur ?



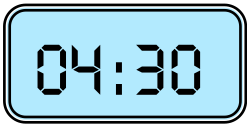
6 saat sonrası saat kaç olur ?



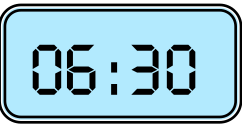
2 saat öncesi saat kaç olur ?



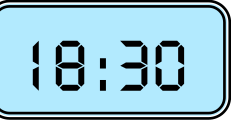
3 saat sonrası saat kaç olur ?



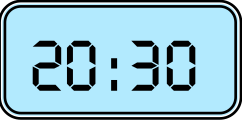
7 saat sonrası saat kaç olur ?



5 saat sonrası saat kaç olur ?



4 saat öncesi saat kaç olur ?



2 saat sonrası saat kaç olur ?

ZAMANI ÖLÇME

1.Etkinlik : Aşağıdaki soruları örnekteki gibi işlem yaparak cevaplayalım.



3 saat sonrasında saat kaç olur ?

$$\begin{array}{r} 02.15 \\ + 3.00 \\ \hline 05.15 \end{array}$$



2 saat sonrasında saat kaç olur ?



2 saat öncesi saat kaç olur ?



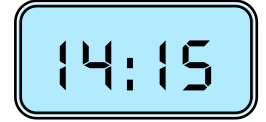
4 saat öncesi saat kaç olur ?



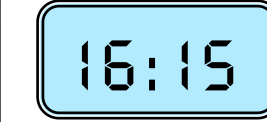
5 saat öncesi saat kaç olur ?



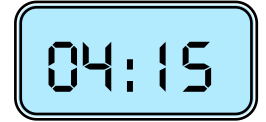
6 saat sonrası saat kaç olur ?



2 saat öncesi saat kaç olur ?



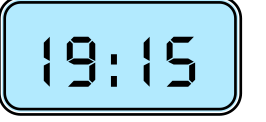
3 saat sonrası saat kaç olur ?



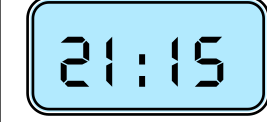
7 saat sonrası saat kaç olur ?



5 saat sonrası saat kaç olur ?



4 saat öncesi saat kaç olur ?



2 saat sonrası saat kaç olur ?

ZAMANI ÖLÇME

1.Etkinlik : Aşağıdaki soruları örnekteki gibi işlem yaparak cevaplayalım.



3 saat öncesinde saat kaç olur ?

$$\begin{array}{r} 08.45 \\ - 3.00 \\ \hline 05.45 \end{array}$$



2 saat sonrasında saat kaç olur ?



2 saat öncesi saat kaç olur ?



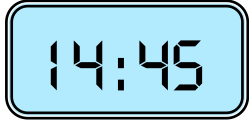
4 saat öncesi saat kaç olur ?



5 saat öncesi saat kaç olur ?



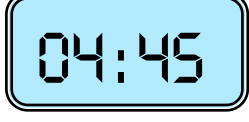
6 saat sonrası saat kaç olur ?



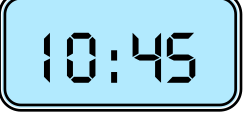
2 saat öncesi saat kaç olur ?



3 saat sonrası saat kaç olur ?



7 saat sonrası saat kaç olur ?



5 saat sonrası saat kaç olur ?



4 saat öncesi saat kaç olur ?



2 saat sonrası saat kaç olur ?

ZAMANI ÖLÇME

1.Etkinlik : Aşağıdaki soruları örnekteki gibi işlem yaparak cevaplayalım.



2 saat 15 dakika son-
rasında saat kaç olur?

$$\begin{array}{r} 04.00 \\ + 2.15 \\ \hline 06.15 \end{array}$$



1 saat 25 dakika son-
rasında saat kaç olur?



3 saat 30 dakika son-
rasında saat kaç olur?



1 saat 15 dakika ön-
cesinde saat kaç olur?



2 saat 25 dakika ön-
cesi saat kaç olur?



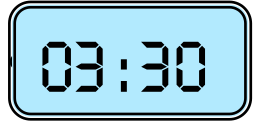
3 saat 10 dakika ön-
cesinde saat kaç olur?



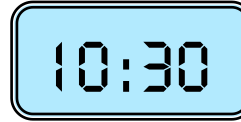
2 saat 15 dakika son-
rasında saat kaç olur?



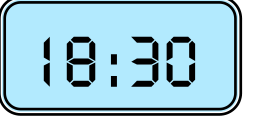
1 saat 15 dakika ön-
cesinde saat kaç olur?



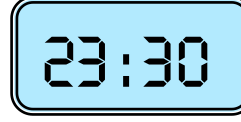
4 saat 25 dakika son-
rasında saat kaç olur?



2 saat 5 dakika ön-
cesinde saat kaç olur?



3 saat 20 dakika son-
rasında saat kaç olur?



4 saat 15 dakika ön-
cesinde saat kaç olur?

ZAMANI ÖLÇME

1.Etkinlik : Aşağıdaki soruları örnekteki gibi işlem yaparak cevaplayalım.



2 saat 10 dakika ön-
cesinde saat kaç olur?
06.15
- 2.10

04.05



1 saat 25 dakika son-
rasında saat kaç olur?



3 saat 30 dakika son-
rasında saat kaç olur?



2 saat 15 dakika ön-
cesinde saat kaç olur?



1 saat 35 dakika son-
rasında saat kaç olur?



3 saat 25 dakika ön-
cesinde saat kaç olur?

14:45

2 saat 35 dakika ön-
cesinde saat kaç olur?

19:15

1 saat 30 dakika son-
rasında saat kaç olur?

03:15

4 saat 25 dakika son-
rasında saat kaç olur?

10:45

2 saat 5 dakika ön-
cesinde saat kaç olur?

18:15

3 saat 20 dakika son-
rasında saat kaç olur?

21:45

4 saat 15 dakika ön-
cesinde saat kaç olur?