





Adı : .....  
Soyadı: .....

1. Sınıf  
Matematik

Geometrik Örüntüler  
Yaprak Test-1

1 Aşağıdakilerden hangisi örüntü değildir?

- (A) 
- (B) 
- (C) 







2 Yukarıda verilen örüntünün kuralı aşağıdakilerden hangisidir?

- (A) Bir üçgen bir çember
- (B) Bir çember bir üçgen
- (C) Üç üçgen üç çember




**Örüntü Kuralı:** Bir üçgen, iki kare

3 Aşağıdakilerden hangisi yukarıda verilen örüntü kuralına uygundur?




- (A) 
- (B) 
- (C) 



4 Aşağıdakilerden hangisi yukarıdaki örüntüye benzemektedir?




- (A) 
- (B) 
- (C) 

5 Aşağıdaki örüntülerden hangisinin kuralı diğerlerinden farklıdır?

- (A) 
- (B) 
- (C) 



6 Yukarıdaki örüntüde kurala uygun olarak noktalı yerlere hangi şekiller gelmelidir?

- (A) 
- (B) 
- (C) 







Adı : .....  
Soyadı: .....

1. Sınıf  
Matematik

Geometrik Örüntüler  
Yaprak Test-1



7 Yukarıdaki örüntüde kurala uygun olarak noktalı yerlere hangi şekiller gelmelidir?


























- (A)  
- (B)  
- (C)  



8 Yukarıdaki örüntünün kuralı aşağıdakilerden hangisidir?



















- (A) 1 mavi üçgen 2 sarı üçgen
- (B) 2 sarı üçgen 1 mavi üçgen
- (C) 3 mavi üçgen 5 sarı üçgen


9 Aşağıdakilerden hangisi bir örüntü değildir?

- (A)         
- (B)        
- (C)        

Örüntü Kuralı: 2 ..... 2 .....

10 Aşağıdakilerden hangisi yukarıdaki örüntü kuralına uymaz?

- (A)      
- (B)      
- (C)      



11 Aşağıdakilerden hangisi yukarıdaki örüntü kuralına benzemez?

- (A)      
- (B)      
- (C)      



12 Yukarıdaki örüntüde boş yerlere hangi şekiller gelmelidir?

- (A) 1 silgi 1 mavi kalemтіраш
- (B) 1 silgi 1 kırmızı kalemтіраш
- (C) 1 mavi kalemтіраш 1 silgi