



1. ve 2. soruları şiire göre yanıtlayınız.

- 1) Üstteki şiirin **ana duygusu** aşağıdakilerden hangisidir?
- A) Geçmişe özlem B) İnsana saygı
C) Vatan sevgisi D) Dostluk vefası
- 2) Aşağıdaki ifadelerden hangisi şiirin **ana fikri** ile ilgili **değildir**?
- A) Bütün insanlar birbirlerine kardeşçe davranmalıdır.
B) Yaşamak, özgürlük ve can güvenliği herkesin hakkıdır.
C) Düşünce, vicdan ve inanç özgürlüğüne sahip olmanın belirli şartları vardır.
D) Herkes nerede olursa olsun yasalar çerçevesinde korunmalıdır.
- 3) Aşağıdaki **kelimelerden** hangisi iş, oluş veya hareket **bildirmektedir**?
- A) göndermiş B) bayrak
C) kahvaltı D) pazartesi

4) Lütfen bana yardım edin	Sana kaldı mı bilmiyorum
Sana orada kim yardım edecek	Marketten ne almamı istersin

Üstteki cümlelerden sonuna **soru işareti** gelenleri boyarsak nasıl bir **görüntü** oluşur?

- A)

 B)

- C)

 D)

- 5) Neden gelmedin () Toplantıya birçok kişi katıldı () Akif, Samet, Eylül ()

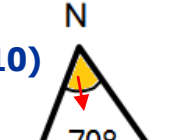
Cümlelerde **parantez** içlerine sırasıyla hangi **noktalama** işaretleri gelmelidir?

- A) (,) (!) (...) B) (,) (.) (?)
C) (?) (.) (.) D) (?) (.) (...)
- 6) Aşağıdaki cümlelerden hangisinde **hayal ürünü** bir ifade **yoktur**?
- A) Baharın gelmesi ağaçları şımartmıştı.
B) Bugün kümeşte kaz yumurtası buldum.
C) Haylaz rüzgâr, bulutları kovalıyordu.
D) Ejderha, Neptün gezegeninden gelmiş.
- 7) Aşağıdaki adlardan hangisi **yalın** durumda **değildir**?
- A) evde B) mide
C) fide D) dede
- 8) "Dinazorların yaşadını iddaa etmen benim için sürpriz olmadı." cümlesinde kaç tane **yazım yanlışı** vardır?


- A) 1 B) 2
C) 3 D) 4

- 9) Bir sayının 8 katı 992'dir. Buna göre, aynı sayının **çeyreği** kaçtır?

A) 124 B) 62
C) 31 D) 15

- 10)  Yandaki açı 70° olduğuna göre bu açının **çeşidi** hangisidir?

A) doğru açı B) geniş açı
C) dar açı D) dik açı

- 11)  İki kardeşin boy uzunlukları farkı 39 santimetredir. Uzun olan 1 metre 60 santimetre ise kısa olan kardeşin boyu kaç santimetredir?

A) 21 cm B) 121 cm
C) 139 cm D) 141 cm

- 12)  Yandaki **karenin** çevre uzunluğu kaç santimetredir?

A) 32 cm B) 24 cm
C) 16 cm D) 8 cm

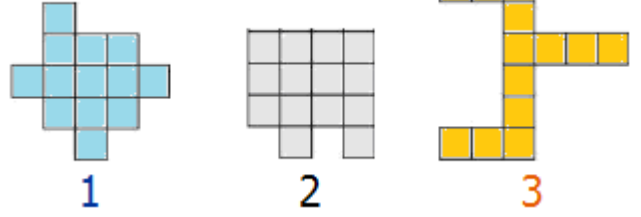
13)



Üstteki evin çevresi **kare** şeklindedir. Bu alanın çevre uzunluğu 220 metre ise **bir kenarın** uzunluğu kaç **metredir**?

A) 44 m B) 55 m
C) 60 m D) 110 m

14)



Eş karelerden oluşan yukarıdaki şekillerden hangilerinin **alanları** eşittir?

A) 1 ve 2 B) 2 ve 3
C) 1 ve 3 D) 1, 2 ve 3

15)

Devrede bulunan elektrik enerjisini ışık enerjisine dönüştürür.

Yukarıda **görevi** açıklanan devre elemanı aşağıdakilerden hangisidir?

A) Ampul B) Anahtar
C) Kablo D) Pil yatağı

16)

Basit elektrik devresi ile ilgili aşağıdaki ifadelerden hangisi yanlıştır?

A) Pillerde artı (+) ve eksi (-) olmak üzere iki kutup vardır.
B) Basit bir elektrik devresinde pil, kablo, ampul ve anahtar bulunur.
C) Devrede anahtar kapalı ise bu devreye kapalı devre denir.
D) Bir elektrik devresinde anahtar açık ise ampul ışık verir.

17)

Kıtalar, etrafı denizler ve okyanuslarla çevrili büyük kara parçalarıdır. Dünyada **7 tane** kıta vardır.

Aşağıdakilerden hangisi bu **7 kıtadan** biri değildir?

A) Afrika B) Arjantin
C) Avrupa D) Antarktika

CEVAP ANAHTARI

- | | |
|------|-------|
| 1) B | 10) C |
| 2) C | 11) B |
| 3) A | 12) A |
| 4) D | 13) B |
| 5) D | 14) C |
| 6) B | 15) A |
| 7) A | 16) D |
| 8) D | 17) B |
| 9) C | |