

.....

Yakınlaştı artık yaz
Yaza hiç doyum olmaz,
Öpecek çiçekleri,
Ağustos böcekleri.

Ava çıkınca kazlar,
Kalmayacak kurt, böcek,
Dere boyunca sazlar,
Yerlere eğilecek.

Bıçecek Ali Dayı,
Tarlada başakları.
Süsleyecek tarlayı,
Beyaz kır zambakları.

Köylü kız kucak kucak
Sarı gül toplayacak.
Ağaçlar altımıza,
Gölgesini yayacak...

İlhami Bekir TEZ

1. ve 2. soruları şiire göre yanıtlayınız.

1) Üstteki şiirin **başlığı** aşağıdakilerden hangisi olabilir?

- A) Son Pişmanlık B) Hayvan Sevgisi
C) Yaz Mevsimi D) Tatil Anısı

2) Şiirle ilgili aşağıdaki bilgilerden hangisi **doğrudur**?

- A) Şiir 2 kıtadan oluşmaktadır.
B) Şiir 16 mısradan oluşmaktadır.
C) Şiir 4 dizeden oluşmaktadır.
D) Şiir 16 kıtadan oluşmaktadır.

3) Aşağıdaki deyimlerden hangisi "**Kurnazca konuşarak ağızdan söz almak, istediğini öğrenmek.**" anlamına gelir?

- A) ağız aramak B) ağız ağza vermek
C) ağız eğmek D) ağız değiştirmek






4)

Üstteki **kelimelerden** kaç tanesi **eş seslidir**?

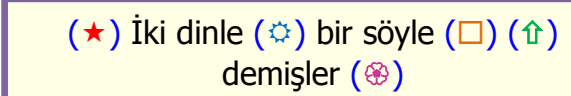
- A) 1 B) 2
C) 3 D) 4

5) Aşağıdaki cümlelerin hangisinde **-de** ekinin **kullanımı** ile ilgili hata **yoktur**?

- A) Toplantıya Sinem'de katıldı.
B) İlkbaharda bütün doğa canlıdır.
C) Ceketimin cebinden iğnede çıktı.
D) Bu yol da dikkatli gitmelisin.

6)  Yandaki **anahtar** sadece **mecaz** anlamlı kelime içeren kilitleri açmaktadır. Buna göre **anahtar** hangi **kilidi** açabilir?A)  Ablam evde oyun oynar.B)  Araç ileriden sağa döndü.C)  Doktor azı dişimi çekti.D)  Kara haber tez duyulur.7) Aşağıdaki kelimelerden hangisi **sözlük sırasına** göre diğerlerinden **sonra** gelir?

- A) tavşan B) tavır
C) tayyare D) tayfa





8)  İki dinle (★) bir söyle (⚙) (□) (↑) demişler (🌸)**Tırnak işareti** yukarıdaki şekillerden hangilerinin bulunduğu yere **konmalıdır**?

- A) ★ ve ↑ B) □ ve ⚙
C) 🌸 ve ★ D) ⚙ ve 🌸

9) En yakın yüzlüğü **900** olan **en büyük** sayı ile en yakın yüzlüğü **500** olan **en küçük** sayının **toplamı** kaçtır?

- A) 1299 B) 1399
C) 1499 D) 1509

10)

Bir grup çocuğa **en sevdikleri taşıtlar** sorulmuş ve **çetele** tablosu oluşturulmuştur. Buna göre bu sınıf kaç kişiden oluşmaktadır?

- A) 67 kişi B) 68 kişi
C) 69 kişi D) 70 kişi

11)



Bir yılda 38 **hafta** çalışan **tamirci**, geri kalan sürede tatil yapmıştır. Buna göre bu **tamirci** 1 yılda kaç **gün** tatil yapmıştır?

- A) 77 gün B) 84 gün
C) 91 gün D) 98 gün

12)



Yandaki **dikdörtgenin** kenar uzunlukları verilmiştir. Buna göre bu dikdörtgenin **çevre** uzunluğu kaç metredir?

- A) 44 m B) 36 m
C) 32 m D) 22 m


13)



Yandaki **yapı** oluşturulurken kaç eş **küp** kullanılmıştır?

- A) 13 küp B) 14 küp
C) 15 küp D) 16 küp

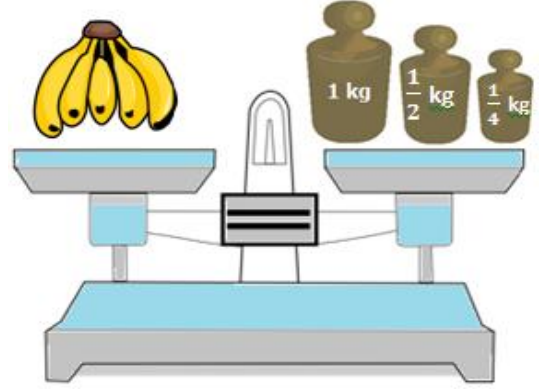
14)



Yukarıdaki şekilde boyalı olmayan yerlerin alanı kaç **birim karedir**?

- A) 13 birim kare B) 11 birim kare
C) 9 birim kare D) 7 birim kare

15)



Üstteki terazi dengededir. Sağ kefedeki **1 kg**, **yarım kg** ve **çeyrek kg** olduğuna göre muzların ağırlığı kaç gramdır?

- A) 1750 g B) 1650 g
C) 1500 g D) 1250 g

16)

Basit elektrik devresinde ampulün ışık vermesi için devredeki anahtarın olması gerekir.

Üstteki açıklamada **noktalı** alana aşağıdaki kelimelerden hangisi gelmelidir?

- A) açık B) kablolu
C) pahalı D) kapalı

17)

Elektrik enerjisini devrenin diğer elemanlarına taşır.

Yukarıda **görevi** açıklanan devre elemanı aşağıdakilerden hangisidir?

- A) Ampul B) Anahtar
C) Kablo D) Pil yatağı

18)

Ülkemizin, **deniz ve kara sınırları olmak üzere 8 tane** sınır komşusu **vardır**.

Aşağıdaki ülkelerden hangisi **Türkiye'nin** sınır komşularından biri **değildir**?

- A) Gürcistan B) Kazakistan
C) Irak D) Ermenistan

CEVAP ANAHTARI

- | | |
|------|-------|
| 1) C | 10) C |
| 2) B | 11) D |
| 3) A | 12) A |
| 4) D | 13) C |
| 5) B | 14) B |
| 6) D | 15) A |
| 7) C | 16) D |
| 8) A | 17) C |
| 9) B | 18) B |