

TEKERLEME

Az gittim, uz gittim.



Dere tepe düz gittim.



Çayır, çimen geçerek,



Lale, sümbül biçerek,



Soğuk sular içerek,



Altı ayla, bir güzde,






Bir arpa boyu yol gittim.

1. Tekerlemeye göre çocuk nasıl sular içmiş ?

- A) Sıcak B) Ilık
C) soğuk

2. "Okulumu çok severim."


Yukarıdaki verilen cümle kaç hecedir?



3. Hangi cümlenin sonunda soru işareti (?) kullanılmaz?

- A) Nereden geliyorsun
B) Neden üzgünsün
C) Geçmiş olsun

4. Aşağıdaki kelimelerden hangisi zıt anlamı değildir?



5. Ağaçtan topladık.

Yukarıdaki cümlede boş bırakılan yere aşağıdakilerden hangisi yazılamaz?

- A) kitap
B) armut
C) kiraz

- 1- Ömer' e
2- Yusuf' un
3- Selini' n
- Yandaki özel isimlerden hangisinin yazımında yanlışlık vardır?
6. 
- A) 1 B) 2 C) 3

- 1- öğrendim
2- yaşında
3- okumayı
4- altı
7. Verilen kelimelerle kurallı bir cümle oluşturduğumuzda sıralama nasıl olur?
- A) 1 - 2 - 3 - 4
B) 4 - 2 - 3 - 1
C) 4 - 3 - 2 - 1

8. Top oynarken dikkat et,
Kırma dalımı.
Koparma hiç yaprağımı,
Yakma canımı.

- Yukarıdaki şiirin konusu nedir?
A) Ağaç B) Okul
C) Hayvanlar



9. Yukarıdaki görsel için hangisi söylenemez?
A) Çocuklar bisiklet sürüyor.
B) Yağmur yağıyor.
C) Kasklarını takmışlar.

10. Aşağıda satır sonuna sığmayan kelimeler verilmiştir. Hangisi yanlıştır?

- A) pata-tes B) çek-irge
C) pen-cere

1. Aşağıdakilerden hangisi **hayvansal** kaynaklı bir besindir?

- A) ıspanak B) bal
C) elma

2. Aşağıdaki görsellerden hangisi **geniş aileyi** anlatır?

A)



B)



C)



3. Hangisi güvenli oyun alanlarından **olamaz**?

- A) Okul bahçesi
B) Trafiğe kapalı alanlar
C) Su kanalları

4.



Kişisel bakımımızı yaparken hangisini **kullanmayız**?

A)



B)



C)



5. Gün içinde yaptığımız işlerden hangisine diğerlerinden **fazla** zaman ayırırız?

A)



B)



C)



6. Aşağıdakilerden hangisi evimizde kullandığımız elektrikli ev aletlerinden birisi **değildir** ?

- A) Çamaşır makinesi
B) Elektrik süpürgesi
C) Akıllı tahta

7. Aşağıdaki bilgilerden hangisi yanlıştır?

- A) İlçeler, illere bağlıdır.
- B) İlleri, kaymakamlar yönetir.
- C) Köyler en küçük yerleşim yeridir.



Evimizde böyle bir durumla karşılaştığımızda hangi numarayı aramalıyız?

- A) 1-1-2
- B) 1-5-5
- C) 1-1-0



Gazete



Televizyon



Otomobil



Telefon

9. Yukarıda verilenlerden kaç tanesi iletişim aracı **değildir** ?

- A) 3
- B) 2
- C) 1

10. Aşağıdaki bilgilerden hangisi yanlıştır ?

- A) Yaya kaldırımı yoksa yolun solundan yürümeliyiz.
- B) Duran araçların önünden ve arkasından geçmek tehlikelidir.
- C) Trafik kurallarına sadece yayalar uymalıdır.

11. Aşağıdaki görsellerden hangisi şehire ait olabilir?

A)



B)



C)



Tanımadığımız kişilerin




12. Yukarıdaki cümleyi hangisiyle tamamlarsak **yanlış** olur?

- A) yanlarına gitmemeliyiz
- B) verdiklerini kabul etmemeliyiz.
- C) isteklerini kabul etmeliyiz.

1. Aşağıdaki işlemlerden hangisinin sonucu yanlıştır?

- A) $9 - 0 = 9$
 B) $0 + 9 = 9$
 C) $9 - 0 = 0$


2. 1 onluk, 7 birlikten oluşan sayı kaçtır?

- A)  17
 B)  18
 C)  19

3. Aşağıdaki ritmik saymalardan hangisinde yanlılık yapılmıştır?

- A) $32 \rightarrow 33 \rightarrow 34 \rightarrow 35 \rightarrow 36$
 B) $10 \rightarrow 15 \rightarrow 20 \rightarrow 25 \rightarrow 35$
 C) $20 \rightarrow 30 \rightarrow 40 \rightarrow 50 \rightarrow 60$

4. 
 Yukarıdaki pastalar toplam kaç yarım pasta eder?
 A) 8 B) 6 C) 4

5. 

Modelle gösterilen toplama işlemi hangisidir?

- A) $7 + 6 = 13$
 B) $6 + 4 = 9$
 C) $7 + 5 = 12$

6. Hangisi yılın ilk ayıdır?

- A) Ocak B) Pazartesi
 C) Aralık

Ekim						
Pt	Sa	Ça	Pr	Cu	Ct	Pz
			1	2	3	4
5	6	7	8	9	10	11
12	13	14	15	16	17	18
19	20	21	22	23	24	25
26	27	28	29	30	31	

7. ve 8. soruları takvime göre cevaplayınız.

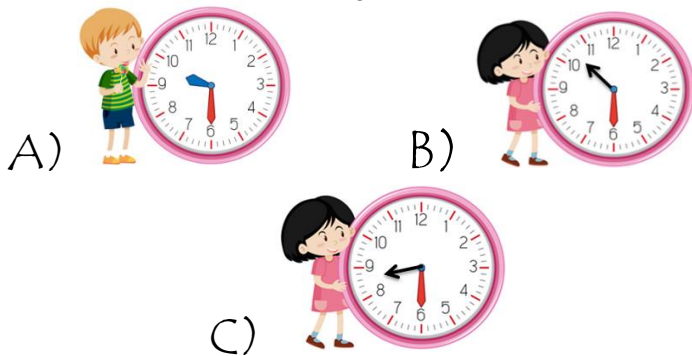
7. Takvime göre Ekim ayının dokuzuncu günü hangi gündür?

- A) Perşembe B) Cuma
C) Cumartesi




8. Yukarıdaki takvimden sonraki ay hangisidir?

- A) Eylül B) Kasım C) Nisan

9. Aşağıdaki saatlerden hangisi dokuz buçuğu gösterir?



10. Bir kümeşte 16 ördek, 9 tavuk vardır. Ördekler tavuklardan kaç fazladır?

- A) 
- B) 
- C) 

11. Uzaktan Eğitim döneminde 12 kitap okudum. 7 kitap daha okursam, kaç kitap okumuş olurum?

- A) 5 B) 19
C) 18

12. Aşağıdaki şekillerden hangisinin yarısı boyanmıştır?

