

ATATÜRK DEYİNCE

Atatürk deyince aklıma,
Çalışmak gelir.

Zorlu savaflara, çetin işlere,
Alışmak gelir.

Kavgaların, öfkelerin üstünde,
Barışmak gelir.

İnsanca, uygarca yaşamak için,
Kendi kendimizle yarışmak gelir.
Özbek İNCEBAYRAKTAR

1 ve 2. soruyu yukarıdaki şiire göre cevaplayalım.


1. Atatürk deyince aklımıza ne gelirmiş?

- A) Çalışmak
- B) Oynamak
- C) Kazanmak

2. Kavgaların, öfkelerin üstünde ne gelirmiş?

- A) Küsmek
- B) Savaşmak
- C) Barışmak

3. " Atatürk " kelimesinde kaç hece vardır?

A) 

B) 

C) 



4.

Verilen görsel bize hangi kelimeyi hatırlatmaz?

A) Park

B) Oyun

C) Market

5. Satır sonuna sığmayan "armağan" kelimesi hangisinde hecelerine yanlış ayrılmıştır?

A) 

B) 

C) 

6. Aşağıdaki noktalama işaretlerinden hangisi cümlenin sonuna **gelemez** ?

- A) Nokta (?)
B) Virgül (,)
C) Soru işareti (?)

7. Hangi seçenekteki kelimelerle anlamlı bir cümle **oluşturamayız**?

- A) geç okula kaldım
B) elimi yıkadım yüzümü
C) çok dün denizde

8. " Dedem Ankara'ya gelecek."

Yukarıdaki cümlede noktalı yere aşağıdakilerden hangisi **gelemez**?

- A) akşam B) dün C) yarın

9. Aşağıdaki görsellerden hangisi zıt anlamlı kelimeleri ifade **etmez**?



10.

Yukarıdaki cümlenin doğru yazılışı hangisidir?

- A) Yarın İstanbula gideceğiz.
B) Yarın istanbul'a gideceğiz.
C) Yarın İstanbul'a gideceğiz.



Yaya geçidi



Trafik işaretleri



Üst geçit

1. Karşıdan karşıya geçerken yukarıdakilerden kaç tanesini kullanmalıyız?

A) 3

B) 2

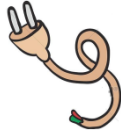
C) 1

2. Acil sağlık sorunları yaşadığımızda aşağıdaki numaralardan hangisini aramalıyız?

A) 1-1-2

B) 5-5-5

C) 1-1-1



3. Yukarıdaki görsellerle ilgili bilgilerden hangisi yanlış olur?

A) Kazalara neden olabilirler.

B) Bunlarla oynamamalıyız.

C) Kendimiz kullanabiliriz.

4. Aşağıdakilerden hangisi güvenle oynayabileceğimiz oyun alanıdır?

A) Merdiven boşlukları

B) Trafiğe açık alanlar

C) Parklar

5. Aşağıdakilerden hangisi Atatürk'ün çocuklara armağan ettiği bayramdır?

A) 29 Ekim Cumhuriyet Bayramı

B) 23 Nisan Ulusal Egemenlik ve Çocuk Bayramı

C) 30 Ağustos Zafer Bayramı

6. Aşağıdaki bilgilerden hangisi yanlıştır ?

A) İlçeler, illere bağlıdır.

B) İlleri, valiler yönetir.

C) Köyler en büyük yerleşim yeridir.

7. İstemediğimiz bir şeyi yapmaya **zorlandığımızda** hangi davranışı göstermeliyiz?




- A) Kabul etmeliyiz.
- B) Kimseye söylememeliyiz.
- C) Kesin bir şekilde karşı çıkmalı ve reddetmeliyiz.






Anıtkabir hangi şehrimizde bulunur?

- 8. A) İstanbul
- B) Ankara
- C) Çanakkale

9. Aşağıdakilerden hangisi **ülkemizin** bayrağıdır?

- A) 
- B) 
- C) 

10. Aşağıdaki teknolojik aletlerden tek başımıza **kullanabileceğimiz** hangisidir?

- A) 
- B) 
- C) 



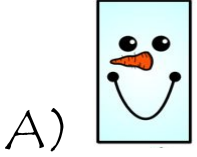
11. Aşağıdaki eşleştirmelerden hangisi **yanlıştır**?

- A) Teyze → Annemizin kız kardeşi
- B) Hala → Babamızın kız kardeşi
- C) Dayı → Babamızın erkek kardeşi

12. Aşağıdaki hangisi kişisel bakıma örnek olarak gösterilemez?

- A) Dişlerimizi fırçalamak
- B) Oyun oynamak
- C) Banyomuzu yapmak

1. Aşağıdakilerden hangisinin kenar sayısı diğerlerinden farklıdır?



8 tane yarım karpuz kaç tane bütün karpuz eder?

A) 8 B) 4 C) 3

3. Yandaki saatin okunuşu aşağıdakilerden hangisidir?

A) Saat beş buçuk
B) Saat altı buçuk
C) Saat altı

4. $\boxed{?} - \boxed{9} = \boxed{0}$

Yukarıdaki işlemde "?" olan yere hangisi gelmelidir?

A) 9 B) 0 C) 1

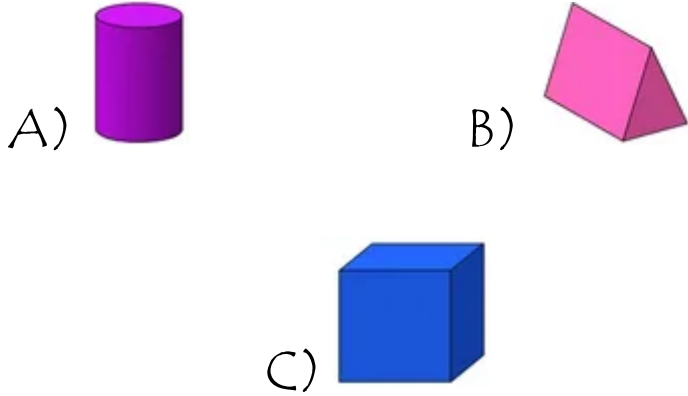
5. Kumbaramda 12 liram vardı. 7 lirada ablam verdi kaç liram oldu?

A) 5 B) 18 C) 19

6. 1 onluk 6 birlikten oluşan sayıdan, 9 sayısını çıkarırsak geriye kaç kalır?



7. Hangi geometrik cismin bir yüzü ile daire çizilebilir?



8. Aşağıdaki bilgilerden hangisi yanlıştır?

- A) Bir hafta yedi gündür.
 B) Haftanın ilk günü pazartesidir.
 C) Yılın ilk ayı aralıktır.

9. Sınıfımızda 9 kız var. Erkekler, kızlardan 8 fazladır. Erkeklerin sayısı kaçtır?

- A) 17 B) 16 C) 15

HAZİRAN

Pt	Sa	Ça	Pr	Cu	Ct	Pz
1	2	3	4	5	6	7
8	9	10	11	12	13	14
15	16	17	18	19	20	21
22	23	24	25	26	27	28
29	30					

10. ve 11. soruları takvime göre cevaplayınız.


10. Takvime göre Haziran ayının son günü hangi gündür?

- A) Pazar B) Pazartesi
 C) Salı

11. Yukarıdaki takvimden önceki ay hangisidir?

- A) Mayıs B) Temmuz
 C) Nisan

12. Dün "Çarşamba" ise bugün hangi gün olur?

- A) 
- B) 
- C) 