

KÜÇÜK FIDAN

Küçük fidan, bu bahar çok heyecanlıydı. Çünkü dallarında çiçekler açmıştı. Şaşkınlıkla çiçeklerine baktı. Tek tek bütün çiçeklerini saydı.

“ Yaşasın! Artık meyve vereceğim! ” dedi. Aklına çocuklar geldi, artık onu daha çok seveceklerdi.. Ömer USLU

1 ve 2. soruyu yukarıdaki metne göre cevaplayalım.

1) Küçük fidan, neden heyecanlıymış?

A) Çiçek açmış. B) Yağmur yağmış. C) Ağaç olmuş.

2) Küçük fidanın aklına kim gelmiş?

A) arkadaşları B) meyveler C) çocuklar

3) Yağmur yağıyor, seller akıyor.

Yukarıdaki cümle kaç **heceden** oluşmuştur?

A) 9 B) 10 C) 11

4) “ Tatilde gideceğiz.” cümlesinde boş bırakılan yere aşağıdakilerden hangisini yazmamız uygun olur?

A) Ankara'ya B) Ankara'nın C) Ankara'yı

5) Aşağıdaki verilen kelimelerden hangisi zıt anlamlı **değildir**?

A) sağlam-çürük B) usta-acemi C) büyük-uzak

6) Hangi cümlede özel isim **yoktur**?

- A) Serhat, okula kaçta gitti?
 B) Ablam odada ders çalışıyor.
 C) Kardeşim İzmir'de hasta oldu.

Ömer() in çantası kayboldu ()

7) 

Cümlesinde boş bırakılan () yerlere sırasıyla hangi noktalama işaretleri gelmelidir?

- A) (') (.) B) (,) (?) C) (?) (.)



Yandaki görsele göre aşağıdaki bilgilerden hangisi **yanlış** olur?

- 8) A) Yedi balon var. B) Otobüste dört çocuk var.
 C) Yağmurlu bir hava var.



9) Yandaki tavuk görseli bize aşağıdakilerden hangisini **hatırlatmaz**?

- A) yumurta B) civciv C) dondurma

10) Alfabemizin **ilk ve son** harfi, **sırasıyla** aşağıdakilerden hangisidir?

- A) ilk **A** - son **Z** B) ilk **Z** - son **A** C) ilk **A** - son **Y**



Yandaki görsel bize neyi anlatmaktadır?



1)

- A) Yaya geçidini kullanmalıyız.
 B) Emniyet kemerimizi takmalıyız.
 C) Yaya kaldırımından yürümeliyiz.

2) Bayrağımızla ilgili bilgilerden hangisi doğru **değildir**?

- A) Üzerinde Ay ve yıldız vardır. B) Bağımsızlığımızın sembolüdür.
 C) Bayrağımızın beyaz rengi daha fazladır.

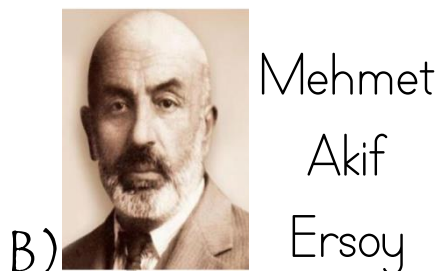

3) Aşağıdakilerden hangisi evimizde kullandığımız elektrikli ev aletlerinden biri **değildir**?



4) Aşağıdaki yerleşim yerlerinden hangisini muhtar **yönetir**?

- A) Köy B) İlçe C) İl

5) Aşağıdakilerden hangisi Atatürk'ün **babasıdır**?





Atatürk'ün anıt mezarının bulunduğu şehir neresidir?

6)

A) İstanbul

B) Samsun

C) Ankara

7) Aşağıdaki trafik işaretlerinden hangisi **üst geçidi** göstermektedir?

A)



B)



C)



8) Farklı ülkelerden **göç ederek** ülkemize yerleşen, ailelerin çocuklarına karşı nasıl **davranmalıyız**?

A) Onlarla oyun oynamamalıyız.

B) Onlara yardımcı olmalıyız.

C) Onlardan uzak durmalıyız.

9) Ulusal Egemenlik ve Çocuk Bayramı'nı **hangi tarihte** kutlarız?

A) 23 Nisan'da

B) 29 Ekim'de

C) 19 Mayıs'ta

10) Köy , kasaba gibi yerlerdeki trafik kazası, hırsızlık kavga gibi olaylarda kimi ararız?

A)



Polis

B)



İtfaiye

C)

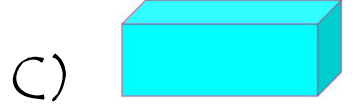
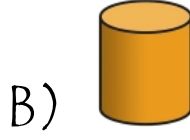
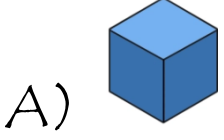


Jandarma






Aşağıdakilerden hangisi yandaki nesneye benzemektedir?




1)



2) Aşağıdaki işlemlerden hangisinin sonucu diğerlerinden farklıdır?



Yukarıdaki örüntü aşağıdakilerden hangisi ile tamamlanabilir?



4) Sınıfımızda 16 öğrenci var. Öğrencilerin 7 tanesi erkektir. Kız öğrencilerin sayısı kaçtır?

A) 9

B) 8

C) 7



Yukarıdaki örüntünün kuralı aşağıdakilerden hangisidir?

A) 1 çilek, 3 elma

B) 3 elma, 1 çilek

C) 2 elma, 1 çilek



Yandaki modellenen hangisidir?

çıkarma işlemi

6)

A) $7-4=3$

B) $11-4=7$

C) $11-7=4$

7) Hangi şekildeki sayıların toplamı 20'dir?



8)






Yukarıdaki elmalar kaç bütün elma yapar?

A) 6

B) 4

C) 3

9) Geometrik şekillerden hangisinin köşe sayısı diğerlerinden daha fazladır?



10)



Babam yandaki gösterilen saatten 4 saat önce Ankara'ya gitti. Babam, Ankara'ya gittiğinde saat kaç gösteriyordu?

A) Saat 6 'yı

B) Saat 5 'i

C) Saat 4 'ü

CEVAP ANAHTARI

Türkçe	Hayat Bilgisi	Matematik
1.A	1.B	1.B
2.C	2.C	2.B
3.B	3.A	3.C
4.A	4.A	4.A
5.C	5.A	5.B
6.B	6.C	6.B
7.A	7.B	7.C
8.C	8.B	8.C
9.C	9.A	9.A
10.A	10.C	10.A

Aşırı dozda emek içerir...

omeruslu06@hotmail.com

omeruslu06etkinlikleri 