



FİLLER



Filler otlar, meyveler, yapraklar, ağaç kabuğu ve kökleri de olmak üzere her türlü bitki örtüsünü yerler. Yaklaşık on altı saat beslenirler.

Fillerin liderliğini en yaşlı dişi fil yapar. Yavru filler her zaman sürünün gözdesidir. Bütün filler zayıf ya da yaralı fillere bakmak ve korumak için ellerinden geleni yaparlar.

Ömer USLU

1 ve 2. soruyu yukarıdaki metne göre cevaplayalım.

1) Filler yaklaşık olarak kaç saat beslenirler?

- A) On dört
- B) On beş
- C) On altı



2) Fillerin liderliğini kim yapar?

- A) En güçlü fil
- B) En yaşlı dişi fil
- C) En zayıf yavru fil

3) Aşağıdaki cümlelerden hangisinin sonuna yanlış noktalama işareti konulmuştur?

- A) Sen ne zaman geldin.
- B) Yarın parka gideceğiz.
- C) Yemek hazır mı?

4) Aşağıdaki verilen görsellerden hangisinde "ke" hecesi yoktur?



5) Aşağıdaki cümlelerden hangisi doğru yazılmıştır?

- A) ayşe okula gelmedi
- B) Selin ödevlerini yaptı.
- C) kardeşim erken uyudu.

1

2

3

yazdı

doktor

ilaç

6)

Verilen kelimelerle kurallı bir cümle oluşturulursa sıralama nasıl olur?

- A) 1 - 2 - 3 B) 2 - 1 - 3
C) 2 - 3 - 1

dar




kısa

uzun

geniş

7)

Zıt anlamlı kelimeler boyandığında tablo nasıl gözükür?




- A)  B) 
C) 

8) Aşağıdaki cümlelerden hangisinde özel isim sayısı daha fazladır?

- A) Aylin ile Ece İzmir'e gitmiş.
B) Melike Samsun'dan gelmedi.
C) Kerem bahçeye indi.

Kitap bize en iyi arkadaştır.

9) Yukarıdaki cümlede toplam kaç hece vardır?

- A)  B) 
C) 

10) Ahmet, akşam üzeri deniz kenarında tuttu.

Yukarıdaki cümlede boş bırakılan yere hangisi yazılabilir?

- A) gemi
B) balık
C) olta



11)

- A) meyve B) yaz C) kış

Yandaki görsel bize hangi kelimeyi hatırlatmaz?

1) Aşağıdaki görsellerden hangisi milli bayram kutlamaları ile ilgili **değildir**?





Ayça okul servisine biner binmez emniyet kemerini taktı. Sinan sürekli servis şoförüne sorular sordu. Kerim ise servisin camından dışarı sarktı.

2) Yukarıdaki metne göre hangi öğrencinin davranışı **doğrudur**?

- A) Ayça B) Sinan
C) Kerim


3) Aşağıdakilerden hangisi **evcil** bir hayvandır?





4) Aşağıdaki davranışlardan hangisini arkadaşlarımıza **yapmamız** uygun **olmaz**?

- A) Hakaret etmek
B) Kibar davranmak
C) Hoşgörülü davranmak

5) Aşağıdaki hayvan dostlarımızdan hangisi ahırda **barınmaz**?






6) Atatürk'ün Bandırma Vapuru ile giderek orada Kurtuluş Savaşı'mızı başlattığı şehrimiz hangisidir?

- A)  Ankara
- B)  Samsun
- C)  İstanbul

7) Mustafa Kemal Atatürk'e Kemal adını kim vermiştir?

- A) Zübeyde Hanım
- B) Ali Rıza Bey
- C) Matematik öğretmeni

8) Aşağıdaki kişisel bakımlardan hangisini tek başımıza yapamayız?

- A) 
- B) 
- C) 

Park

Asansör

Okul Bahçesi

İnşaat Alanı

9) Yukarıdakilerden kaç tanesi güvenli bir oyun alanıdır?




- A) 3 B) 2 C) 1

10) Okulumuzda bayrak törenlerinde hangi marşı söyleriz?

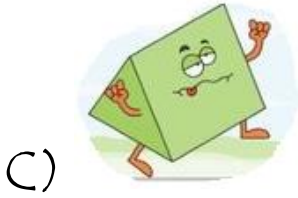
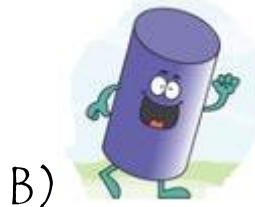
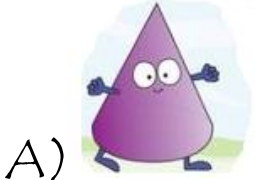
- A) Gençlik Marşı
- B) İstiklal Marşı
- C) Yoklama Marşı



11) Hangi hayvan verilen görselle beslenmez?

- A) 
- B) 
- C) 

1) Yandaki ev modelinde hangi geometrik cisim vardır?



2) Hangi tahtadaki işlemin sonucu yanlış yapılmıştır?

A)
$$\begin{array}{r} 15 \\ - 9 \\ \hline 6 \end{array}$$

B)
$$\begin{array}{r} 17 \\ - 5 \\ \hline 13 \end{array}$$

C)
$$\begin{array}{r} 16 \\ - 8 \\ \hline 8 \end{array}$$




3) Yandaki saat kaç göstermektedir?

- A) Saat bir buçuk.
B) Saat altı buçuk.
C) Saat iki buçuk.



Hangi örüntünün kuralı yukarıdaki örüntünün kuralı ile aynıdır?





5) Bugün günlerden salı ise üç gün sonra hangi gün olur?
A) perşembe B) cumartesi
C) cuma

6)

1 onluk 4 birlik = 

5 birlik = 

Buna göre  +  işleminin sonucu kaçtır?

- A) 9 B) 18 C) 19

7)




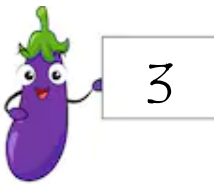
Zehra'nın parası


Zehra parası ile 9 liraya boyama kalemi aldı. Zehra'nın kaç lirası kaldı?

- A) 8 B) 9 C) 10



8) Yukarıdaki yarım elmalar kaç bütün elma yapar?

A)  B) 

C) 

9) Ayşe 17 sayfalık kitabın ilk gün 7 sayfasını, ikinci gün 4 sayfasını okudu. Ayşe'nin kitabını bitirmesine kaç sayfası kaldı?

- A) 12 B) 6
C) 5

Tablo: Çocukların Yaşları

Çocuklar	Yaşları
Zeynep	13
Gökhan	7
Ercan	6
Gülây	5

10 ve 11. Soruları tabloya göre cevaplayınız.

10) Zeynep, Gülây'dan kaç yaş büyüktür?

- A) 18 B) 8 C) 7

11) Gökhan ve Ercan'ın yaşları toplamı kaçtır?

- A) 13 B) 14 C) 15