

## GEOMETRİK ŞEKİLLER

1.)



Aşağıdaki geometrik şekillerin adlarını altlarına yazınız.



.....



.....



.....

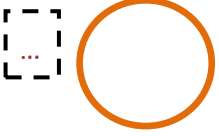


.....

2.)



Aşağıda verilen geometrik şekillerin adlarını eşleştiriniz.



1 DİKDÖRTGEN

2 ÜÇGEN

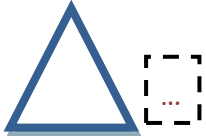

3 ÇEMBER

4 KARE

3.)



Aşağıda verilen geometrik şekillerle özelliklerini eşleştiriniz.



1 Köşesi ve kenarı yoktur.

2 Eşit uzunlukta dört kenarı ve dört köşesi vardır.

3 Birbirine eşit 2 uzun kenarı ve birbirine eşit 2 kısa kenarı vardır. 4 köşesi vardır.

4 3 kenarı ve 3 köşesi olan şekildir.

4.)



Aşağıda verilen geometrik şekillerin kenar sayısı ve köşe sayısını yazınız.



Kenar sayısı: .....

Köşe sayısı: .....



Kenar sayısı: .....

Köşe sayısı: .....



Kenar sayısı: .....

Köşe sayısı: .....



Kenar sayısı: .....

Köşe sayısı: .....