





TÜRKÇE



☆ Aşağıdaki cümlelerdeki olayları oluş sırasına göre numaralandırılarak sıralayalım.

...	Kuruyan halıyı odama serdik.
...	Odamdaki halı çok kirlenmişti.
...	Annem balkonda halıyı yıkadı.
...	Annem kirlı halıyı topladı.




...	Güzel bir çiçek resmi yaptı.
...	Bitirdiği resmi öğretmenine gösterdi.
...	Demet resim defterini çıkardı.
...	Resmi güzelce boyadı.

...	Melih bir bisikletinın olmasını çok istiyordu.
...	Melih bisikleti görünce çok sevindi.
...	Bisiklet istediğini annesine ve babasına söyledi.
...	Babası doğum gününde ona bisiklet aldı.



...	Bağda üzüm topladık.
...	Akşam olmadan eve döndük.
...	Üzümleri kamyonete yükledik.
...	Babamla birlikte bağa gittik.

...	Annesi kafesi temizledi.
...	Kuşun kafesi çok kirlenmişti.
...	Sonra kuş temiz kafesine girdi.
...	Ozan kuşu kafesten çıkardı.



TÜRKÇE

1. ETKİNLİK : Aşağıdaki cümlelerde boş bırakılan yerlere verilen kelimelerden uygun olanını yazalım.

Bersu toka

Yiğit topu bana

Annem pişirdi.

Nisa tane şeker yedi.

Yemeğin tuzu olmuş.

Sınıfa bayrak

Berra kapıyı

Furkan süt

Tavan oldu.

Sıla kuzuya verdi.

et	is	at	az	aç
al	iç	ot	as	üç



2. ETKİNLİK : Aşağıda karışık olarak verilen kelimelerle örnekteki gibi anlamlı bir cümle oluşturalım.

1. (al - ekmek - fırından - Zeynep)



2. (bindi - küçük - Kerem - ata)

3. (Yusuf - içti - su - soğuk)

4. (aşı - oldu - Nehir)



5. (buldu - Samet - kalemi)

6. (annem -eledi - unu)



7. (koşarak - Ecrin - gitti - eve)

8. (yedi - kakaolu - Zehra - kek)

9. (fıkra - anlattı - İdris)





YARDIMSEVER POLİS MEMURU

Büyük bir şehirde üç gündür kar yağıyormuş. Kar o kadar çok yağmış ki tüm şehir beyaz renge boyanmış. Kar lapa lapa yağmaya devam ederken şehirde bir koşuşturmaca hüküm sürüyormuş. Çocuklar dışarıda kartopu oynuyor, kardan adam yapıyormuş. Yetişkinler ise bu karlı havada işlerine ulaşmaya çalışıyormuş.

Bu karlı günlerin birinde bir polis memuru evine gidiyormuş . Bir süre çocukların kartopu oynayışlarını seyretmiş. Bir çocuğun attığı kartopu da yanlışlıkla ona değmiş. Tam o sırada kaldırımda oturan bir çocuk görmüş. İsmi Hakan'ımış. Hakan'ın üzerinde paltosu yokmuş ve ayakkabısı da yırtılmış. Polis memuru Hakan'ın yanına giderek bu soğukta niçin bu şekilde dışarı çıktığını sormuş. Babası evin geçimini zor sağlıyormuş. Hakan , babasının parası olmadığı için palto ve ayakkabı alamadığını söylemiş. Polis memuru, Hakan'la birlikte otobüs durağının yanındaki mağazaya gitmiş. Ona palto ve ayakkabı almış. Çocuk çok mutlu olmuş ve polis memuruna teşekkür etmiş.

☆ Aşağıdaki soruları metne göre cevaplayalım.

1. Tüm şehir niçin beyaz renge bürünmüş?

2. Çocuklar dışarıda ne yapıyormuş?

3. Bu karlı havada yetişkinler ne yapıyormuş?

4. Polis memuru evine giderken ne yapmış?

5. Hakan'ın babası niçin palto ve ayakkabı alamıyormuş?

6. Polis memuru, Hakan'la birlikte nereye gitmiş?



TAKVİM

☆ Aşağıdaki soruları takvime göre cevaplayalım.

2022						
NİSAN						
Pazartesi	Salı	Çarşamba	Perşembe	Cuma	Cumartesi	Pazar
				1	2	3
4	5	6	7	8	9	10
11	12	13	14	15	16	17
18	19	20	21	22	23	24
25	26	27	28	29	30	

A harfi ile gösterilen sayı neyi ifade eder?

B harfi ile gösterilen şey nedir?

C harfi ile gösterilen şey nedir?

Ç harfi ile gösterilen şey nedir?

Nisan ayı hangi gün ile başlamıştır?

Nisan ayının son günü hangisidir?

Salıdan sonraki gün hangisidir?

23 Nisan Ulusal Egemenlik ve Çocuk Bayramı hangi gündür?

Nisan ayında kaç tane perşembe günü vardır?



TAKVİM

☆ Aşağıdaki noktalı yerleri dolduralım.

Bir yıl aydır.

- 1.) Ocak 2.) 3.) 4.) 5.)
6.) Haziran 7.) 8.) 9.)
10.) 11.) 12.)

Bir hafta gündür.

- 1.) Pazartesi 2.) 3.) 4.)
5.) 6.) 7.)

☆ Aşağıdaki soruları cevaplayalım.

Yılın ilk ayı hangi aydır?

Şu an hangi aydayız?

Geçen ay hangi aydı?

Önümüzdeki ay hangi aydır?

Bugün hangi gündür?

Bugün çarşamba ise yarın hangi gündür?

Bugün pazar ise dün hangi gündü?

Pazartesi'den sonraki gün hangisidir?



TAKVİM

☆ Aşağıdaki noktalı yerleri uygun şekilde dolduralım.

DÜN	BUGÜN	YARIN
.....	Salı

DÜN	BUGÜN	YARIN
.....	Cuma

DÜN	BUGÜN	YARIN
Çarşamba

DÜN	BUGÜN	YARIN
.....	Pazartesi

DÜN	BUGÜN	YARIN
.....	Cuma

DÜN	BUGÜN	YARIN
Pazar

DÜN	BUGÜN	YARIN
.....	Cumartesi

DÜN	BUGÜN	YARIN
.....	Çarşamba

☆ Aşağıda belirtilen aydan hemen sonraki ayı boyayalım.



Mart
Ocak Nisan

Haziran
Ağustos Temmuz

Ekim
Kasım Eylül

Ocak
Şubat Mart

Ağustos
Eylül Kasım

Aralık
Ekim Ocak

Nisan
Mayıs Mart

Eylül
Ağustos Ekim

Şubat
Mayıs Mart

TAKVİM

2016

OCAK						
PT	SA	ÇA	PE	CU	CT	PZ
				1	2	3
4	5	6	7	8	9	10
11	12	13	14	15	16	17
18	19	20	21	22	23	24
25	26	27	28	29	30	31

ŞUBAT						
PT	SA	ÇA	PE	CU	CT	PZ
1	2	3	4	5	6	7
8	9	10	11	12	13	14
15	16	17	18	19	20	21
22	23	24	25	26	27	28
29						

MART						
PT	SA	ÇA	PE	CU	CT	PZ
	1	2	3	4	5	6
7	8	9	10	11	12	13
14	15	16	17	18	19	20
21	22	23	24	25	26	27
28	29	30	31			

NİSAN						
PT	SA	ÇA	PE	CU	CT	PZ
				1	2	3
4	5	6	7	8	9	10
11	12	13	14	15	16	17
18	19	20	21	22	23	24
25	26	27	28	29	30	

MAYIS						
PT	SA	ÇA	PE	CU	CT	PZ
						1
2	3	4	5	6	7	8
9	10	11	12	13	14	15
16	17	18	19	20	21	22
23	24	25	26	27	28	29
30	31					

HAZİRAN						
PT	SA	ÇA	PE	CU	CT	PZ
		1	2	3	4	5
6	7	8	9	10	11	12
13	14	15	16	17	18	19
20	21	22	23	24	25	26
27	28	29	30			

TEMMUZ						
PT	SA	ÇA	PE	CU	CT	PZ
				1	2	3
4	5	6	7	8	9	10
11	12	13	14	15	16	17
18	19	20	21	22	23	24
25	26	27	28	29	30	31

AĞUSTOS						
PT	SA	ÇA	PE	CU	CT	PZ
1	2	3	4	5	6	7
8	9	10	11	12	13	14
15	16	17	18	19	20	21
22	23	24	25	26	27	28
29	30	31				

EYLÜL						
PT	SA	ÇA	PE	CU	CT	PZ
			1	2	3	4
5	6	7	8	9	10	11
12	13	14	15	16	17	18
19	20	21	22	23	24	25
26	27	28	29	30		

EKİM						
PT	SA	ÇA	PE	CU	CT	PZ
					1	2
3	4	5	6	7	8	9
10	11	12	13	14	15	16
17	18	19	20	21	22	23
24	25	26	27	28	29	30
31						

KASIM						
PT	SA	ÇA	PE	CU	CT	PZ
	1	2	3	4	5	6
7	8	9	10	11	12	13
14	15	16	17	18	19	20
21	22	23	24	25	26	27
28	29	30				

ARALIK						
PT	SA	ÇA	PE	CU	CT	PZ
			1	2	3	4
5	6	7	8	9	10	11
12	13	14	15	16	17	18
19	20	21	22	23	24	25
26	27	28	29	30	31	

☘ Aşağıdaki soruları takvime bakarak cevaplayalım.

1. Yılın ilk ayı hangi aydır?
2. Bir yıl kaç aydır?
3. Yılın 6. ayı hangi aydır?
4. Yılın 9. ayı hangi aydır?
5. Ulusal Egemenlik ve Çocuk Bayramı hangi ayda kutlanacak?
6. Doğduğunuz gün ve ayı yazınız. (Takvimden işaretleyiniz.)
7. 17 Haziranda karneler dağıtılacak. Karneler hangi gün dağıtılacak?
..... (Takvimden işaretleyiniz.)
8. Mustafa Kemal Atatürk'ün öldüğü tarihi (gün ve ay) yazınız?
..... (Takvimden işaretleyiniz.)
9. Temmuz ayından sonra hangi ay var?
10. Şubat ayından sonra hangi ay var?
11. Kasım ayından bir önceki ay hangisidir?
12. Haziran ayından bir önceki ay hangisidir?
13. Bir haftada kaç gün var?
14. Haftanın 1. günü hangisidir?

15. Haftanın 4. günü hangisidir?
16. Haftanın hangi günleri tatildir?
17. 29 Ekim hangi gündür ? (Takvimden işaretleyiniz.)
18. Yılın son günü ve ayı hangisidir?(Takvimden işaretleyiniz.)
19. 12 Mayıs hangi gündür ? (Takvimden işaretleyiniz.)
20. Nisan ayında kaç hafta vardır ?
21. Eylül ayında kaç hafta vardır ?
22. Haziran ayında kaç gün vardır ?
23. Mart ayında kaç gün vardır ?
24. Ekim ayında kaç gün vardır ?
25. 29 Ekim'den bir sonraki gün hangi gündür?
26. 14 Ağustos'tan 2 gün sonrası hangi gündür?
27. 15 Mayıs'tan bir önceki gün hangi gündür?
28. 16 Mart'tan 2 öncesi hangi gündür?
29. 10 Nisan'dan 3 gün sonrası hangi gündür?
30. 5 Ocak'tan 3 gün öncesi hangi gündür?
31. Ekim ayında kaç tane çarşamba günü var ?
32. Şubat ayında kaç tane pazar günü var?
33. Ağustos ayında kaç tane cuma günü var?
34. Efe 10 Mart'ta, Melih 5 Mart'ta doğmuş. İki de aynı yıl doğduğuna göre kim önce doğmuştur?
35. Ayşe 20 Haziran'da, Ela 23 Haziran'da doğmuş. İki de aynı yıl doğduğuna göre kim sonra doğmuştur?
36. Ali 13 Eylül'de, Ozan 6 Kasım'da doğmuş. İki de aynı yıl doğduğuna göre kim önce doğmuştur?
37. Suna 19 Şubat'ta, Aysu 3 Nisan'da doğmuş. İki de aynı yıl doğduğuna göre kim sonra doğmuştur?
38. Arda 15 Mayıs'ta, Uğur 10 Mayıs'ta doğmuş. İki de aynı yıl doğduğuna göre kim önce doğmuştur?
39. İpek 14 Haziran'da, Begüm 5 Ağustos'ta doğmuş. İki de aynı yıl doğduğuna göre kim sonra doğmuştur?





OLAYLARI SIRALAYALIM

☆ Aşağıdaki olayları oluş zamanına göre örnekteki gibi sıralayalım.

- (2) Köyde bugün yağmur yağmış.
(3) Köyde yarın hava güneşliymiş.
(1) Köyde dün hava bulutluymuş.



- (...) Gaye öğle okuldan eve gelmiş.
(...) Akşam Gayelere misafir gelmiş.
(...) Gaye sabah okula gitti.

- (...) Yarın perdeleri yıkayacak.
(...) Annem dün halıları topladı.
(...) Bugün halıları yıkadı.



- (...) Fatma sabah bağa gitmiş.
(...) Akşam birlikte eve dönüşler.
(...) Bağa öğle vakti dayısı gelmiş.

- (...) Ozan dün kitap okumaya başlamış.
(...) Yarın okuduğu kitabı bitirecekmiş.
(...) Bugün aynı kitaba devam etmiş.



- (...) Öğle vakti odamı boyadı.
(...) Babam sabah boya almaya gitti.
(...) Akşam boyama işi bitti.

- (...) Yarın arkadaşının düğününe gidecek.
(...) Bugün saçını kestirdi.
(...) Ablam dün düğün için elbise aldı.



GEOMETRİK ŞEKİLLER

1.)



Aşağıdaki geometrik şekillerin adlarını altlarına yazınız.



.....



.....



.....



.....

2.)



Aşağıda verilen geometrik şekillerin adlarını eşleştiriniz.



1 DİKDÖRTGEN

2 ÜÇGEN

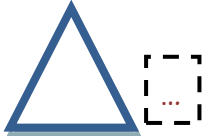
3 ÇEMBER

4 KARE

3.)



Aşağıda verilen geometrik şekillerle özelliklerini eşleştiriniz.



1 Köşesi ve kenarı yoktur.

2 Eşit uzunlukta dört kenarı ve dört köşesi vardır.

3 Birbirine eşit 2 uzun kenarı ve birbirine eşit 2 kısa kenarı vardır. 4 köşesi vardır.

4 3 kenarı ve 3 köşesi olan şekildir.

4.)



Aşağıda verilen geometrik şekillerin kenar sayısı ve köşe sayısını yazınız.



Kenar sayısı:

Köşe sayısı:



Kenar sayısı:

Köşe sayısı:



Kenar sayısı:

Köşe sayısı:



Kenar sayısı:

Köşe sayısı:

GEOMETRİK ŞEKİLLER

1. Etkinlik : Aşağıdaki geometrik şekillerin adlarını , kenar ve köşe sayılarını yazalım.




Kenar sayısı:

Köşe sayısı:



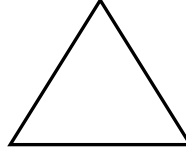
Kenar sayısı:

Köşe sayısı:



Kenar sayısı:

Köşe sayısı:



Kenar sayısı:

Köşe sayısı:

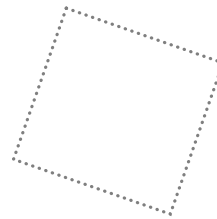
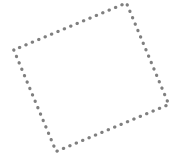
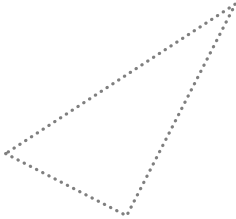


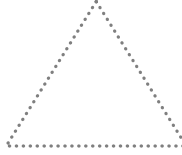
2. Etkinlik : Aşağıdaki geometrik şekilleri belirtilen renklerle çizelim. Şekillerin her birinden kaç tane olduğunu yazalım.

Üçgen → kırmızı

Çember → mavi

Dikdörtgen → kahverengi

Kare → yeşil



Üçgen →

Çember →

Dikdörtgen →

Kare →