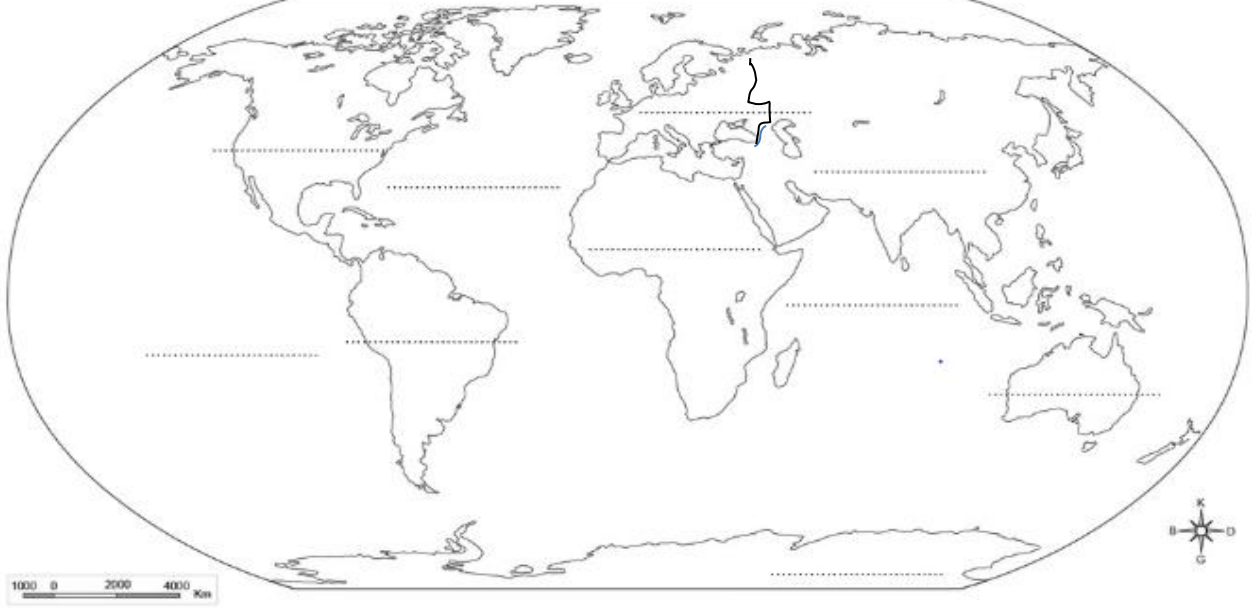


Adı : .....  
Soyadı: .....

4. Sınıf  
Sosyal Bilgiler

Küresel Bağlantılar  
Ülkeleri Tanıyalım-1

Aşağıdaki dünya haritasını verilen renklere göre boyayınız ve isimlerini yazınız.



Asya

Avrupa

Afrika

Kuzey Amerika

Güney Amerika

Avustralya

Antarktika

Büyük Okyanus

Atlas Okyanusu

Hint Okyanusu

Dünya siyasi haritasına bakarak verilen kıtalarda bulunan ülkelerden yazınız.

ASYA	AVRUPA	AFRİKA	K. AMERİKA	G. AMERİKA

İstedığınız bir ülkeyi seçiniz. Bu ülkeye ait aşağıdaki bilgileri yazınız.

Ülke Adı		Yönetim Şekli	
Başkenti		Resmi Dili	
Yüzölçümü		Bayrağını çizip boyayınız.	
Nüfusu			
Bulunduğu Kıta			
Para Birimi			

Adı : .....  
Soyadı: .....

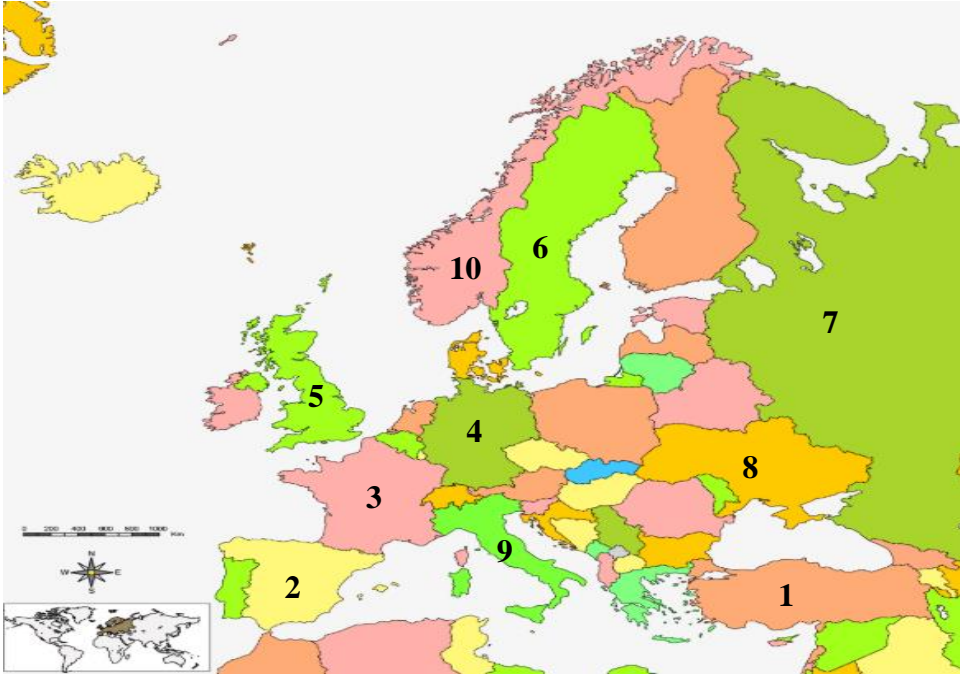
4. Sınıf  
Sosyal Bilgiler

Küresel Bağlantılar  
Ülkeleri Tanıyalım-1

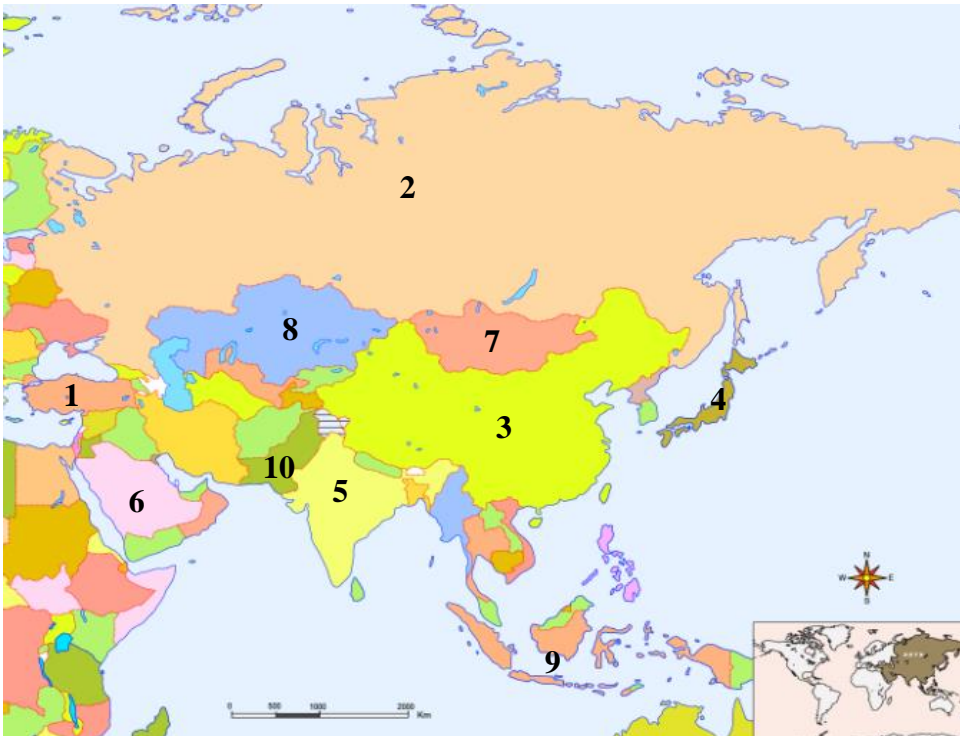
Dünya siyasi haritasına bakarak yüzölçümü en büyük olan ülkeleri tespit edip yazalım.

.....	.....	.....	.....	.....
.....	.....	.....	.....	.....

Avrupa siyasi haritasını inceleyerek numara ile belirtilen ülkelerin isimlerini yazınız.



1-.....
2-.....
3-.....
4-.....
5-.....
6-.....
7-.....
8-.....
9-.....
10-.....



1-.....
2-.....
3-.....
4-.....
5-.....
6-.....
7-.....
8-.....
9-.....
10-.....