

Adı :
Soyadı:

4. Sınıf
Fen Bilgisi

Basit Elektrik Devreleri
Devre Elemanları

Aşağıdaki devre elemanlarının isimlerini yazınız.



.....

.....

.....

.....

.....

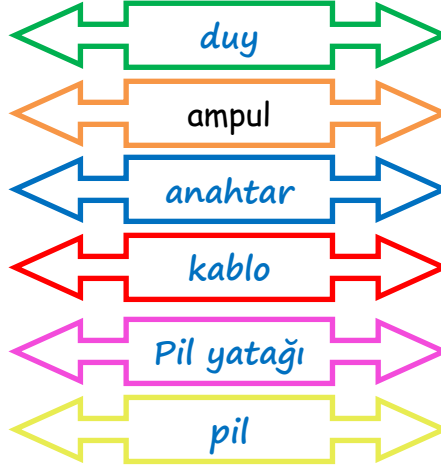
.....

Aşağıdaki devre elemanlarını görevleriyle eşleştirelim.

Pildeki elektrik enerjisini ampule iletir.

Devredeki elektrik enerjisinin geçişini açıp kapatır.

Ampulün yanması için gerekli enerjiyi sağlar



Pilin yerleştirildiği ve pili sabitleyen eleman

Ampulün takıldığı yivli eleman

Aydınlatma amacıyla kullanılan ışık yayan yapay ışık kaynağı

Bir elektrik devresinin çalışmamasının nedenleri nelerdir?

1-.....

2-.....

3-.....

4-.....

5-.....

6-.....

Adı :
Soyadı:

4. Sınıf
Fen Bilgisi

Basit Elektrik Devreleri
Devre Elemanları


Aşağıdaki devreler çalışmamaktadır. Çalışmama nedenlerini yazınız.



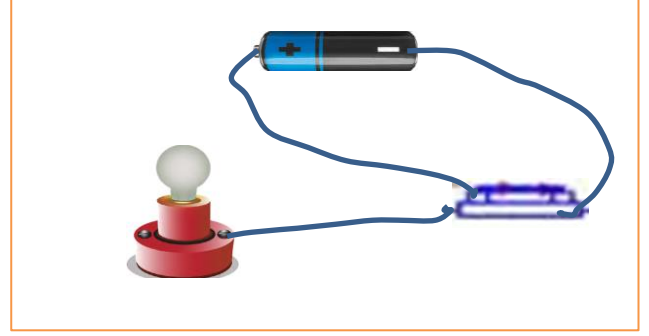
Açık Anahtar



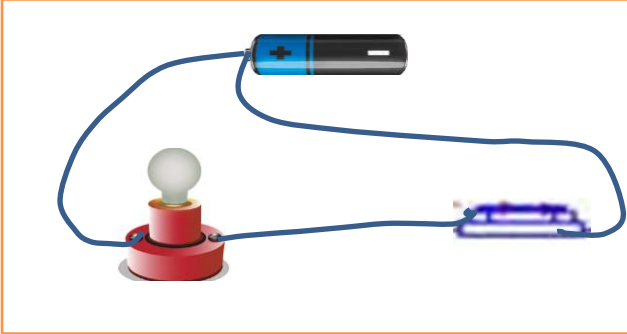
Kapalı Anahtar



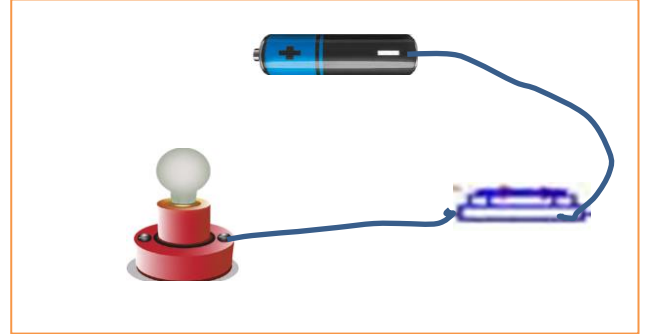
Sebebi:.....
.....



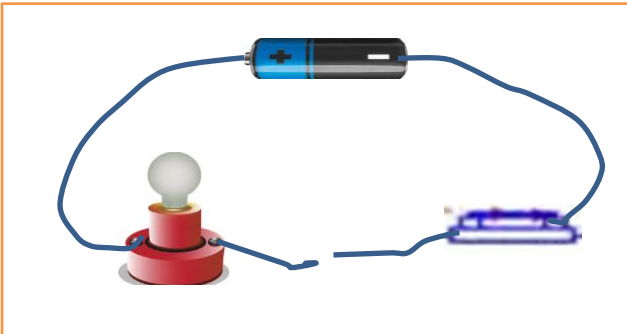
Sebebi:.....
.....



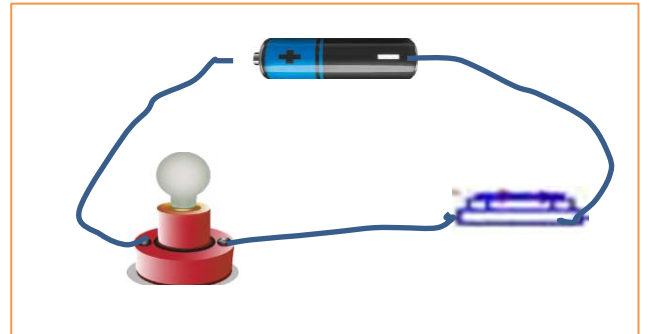
Sebebi:.....
.....



Sebebi:.....
.....



Sebebi:.....
.....




Sebebi:.....
.....

Adı :
Soyadı :

4. Sınıf
Fen Bilgisi

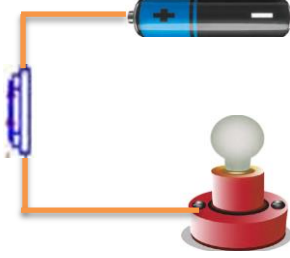
Basit Elektrik Devreleri
Devre Elemanları




Sebebi:.....
.....




Sebebi:.....
.....




Sebebi:.....
.....



Sebebi:.....
.....



Sebebi:.....
.....



Sebebi:.....
.....