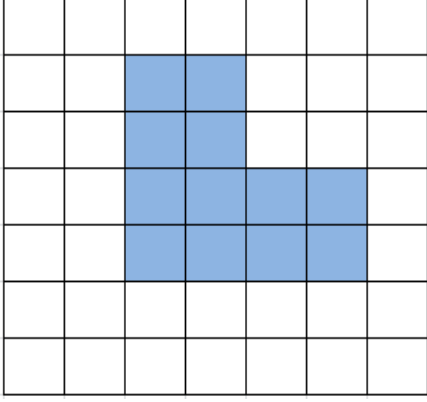


Adı : .....  
Soyadı: .....

4. Sınıf  
Matematik

Çevre Ölçme-3

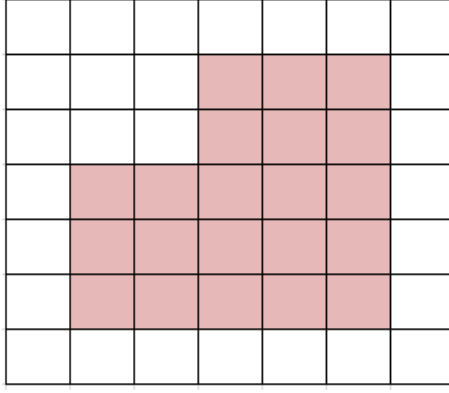
Aşağıdaki BOYALI bölgelerin kenarlarını çiziniz. Birim ölçülerine göre kenar uzunluklarını yazıp çevrelerini hesaplayınız.



1 birim = 2 cm

Çözüm:

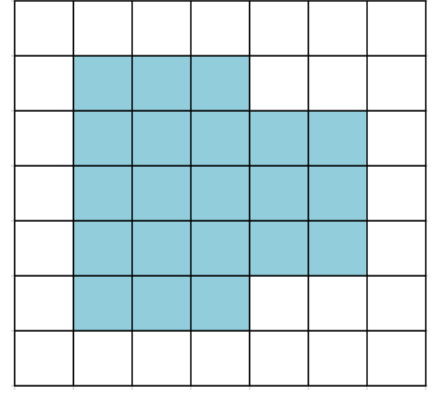
Çevre = .....



1 birim = 2 cm

Çözüm:

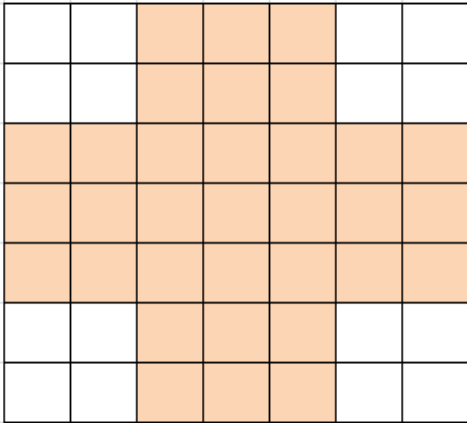
Çevre = .....



1 birim = 2 cm

Çözüm:


Çevre = .....



1 birim = 3 cm

Çözüm:

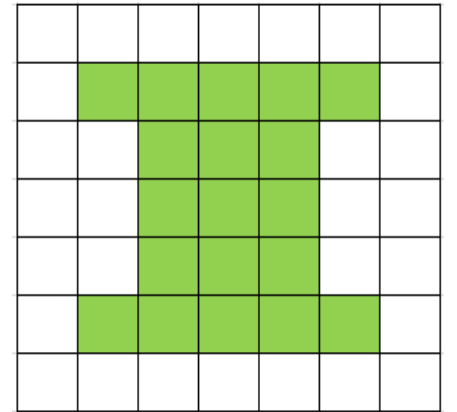
Çevre = .....



1 birim = 3 cm

Çözüm:

Çevre = .....



1 birim = 4 cm

Çözüm:


Çevre = .....

Adı : .....  
Soyadı: .....

4. Sınıf  
Matematik

Çevre Ölçme-3

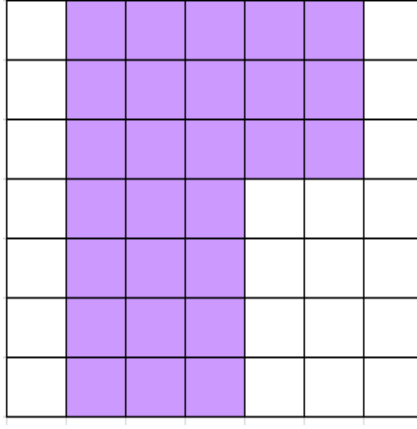
Aşağıdaki BOYALI bölgelerin kenarlarını çiziniz. Birim ölçülerine göre kenar uzunluklarını yazıp çevrelerini hesaplayınız.



1 birim = 5 cm

Çözüm:

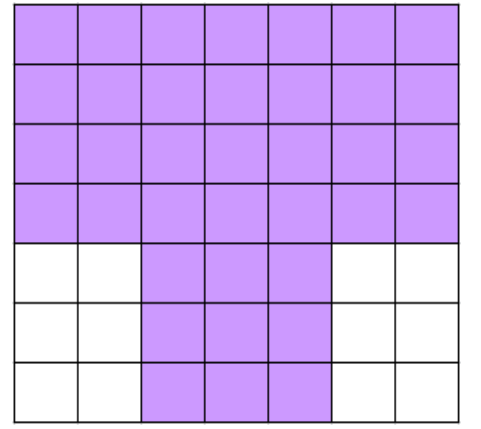
Çevre = .....



1 birim = 6 cm

Çözüm:

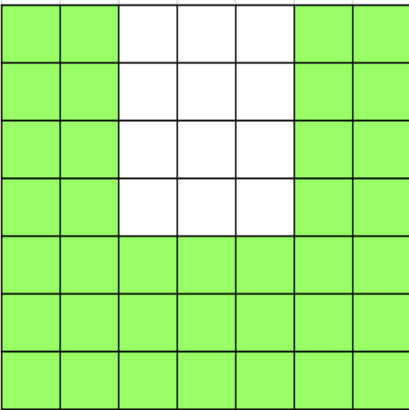
Çevre = .....



1 birim = 7 cm

Çözüm:

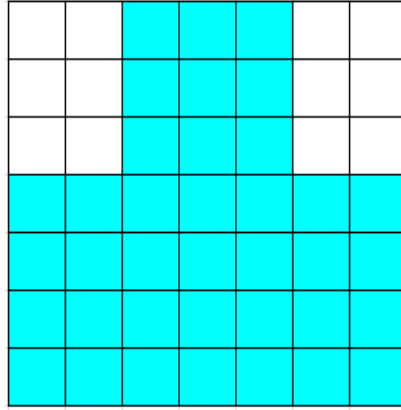
Çevre = .....



1 birim = 8 cm

Çözüm:

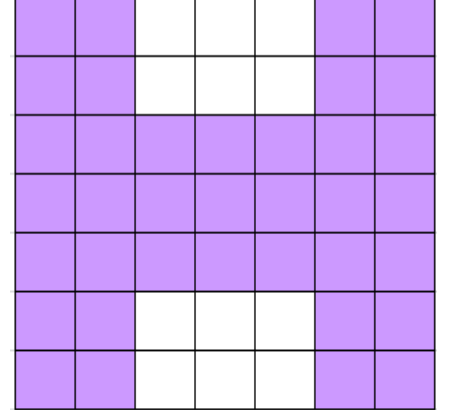
Çevre = .....



1 birim = 9 cm

Çözüm:

Çevre = .....



1 birim = 10 cm

Çözüm:

Çevre = .....