

Adı :
Soyadı:

4. Sınıf
Matematik

Çevre Ölçme-6

Verilen çubuklardan geometrik şekillerin kenar uzunluklarını yazınız.

Uzunluk = 60 cm



Kare



Dikdörtgen



Eşkenar



Çeşitkenar

Uzunluk = 132 cm




Kare



Eşkenar

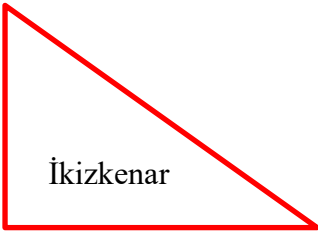


Dikdörtgen



İkizkenar

Uzunluk = 80 cm



İkizkenar



Dikdörtgen



Kare



Çeşitkenar

Uzunluk = 72 cm



Kare



Eşkenar



Dikdörtgen



İkizkenar


Adı :

Soyadı:


4. Sınıf
Matematik

Çevre Ölçme-6


Çevre uzunluğu verilen geometrik şekilleri farklı renkli kalemle çizelim.




$\Ç = 20$ cm
Kare ve İkizkenar Üçgen



$\Ç = 24$ cm
Dikdörtgen ve Eşkenar Üçgen



$\Ç = 32$ cm
Kare ve Dikdörtgen



$\Ç = 27$ cm
İkizkenar Üçgen ve Eş kenar