


Adı :
Soyadı:

4. Sınıf
Matematik

Çevre Ölçme
Yeni Nesil Sorular-1



Murat'ın yaptığı şekil



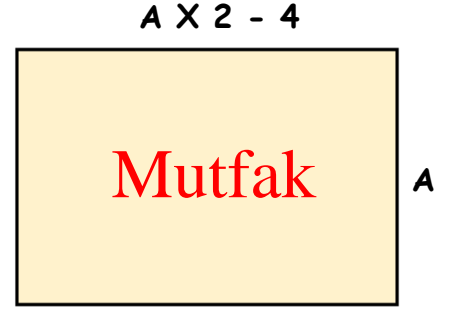
Hülya'nın yaptığı şekil

Öğretmen, Murat ve Hülya'ya 72'şer cm uzunluğunda teller veriyor. Murat 3 tane eşkenar üçgen yapınca 9 cm teli artıyor. Hülya da 3 tane kare oluşturunca 12 cm teli kalıyor.

İki öğrencinin oluşturduğu şekillerin bir kenar uzunluğu hangisinde doğru verilmiştir?

- A) Murat 7 cm Hülya 6 cm
C) Murat 7 cm Hülya 5 cm

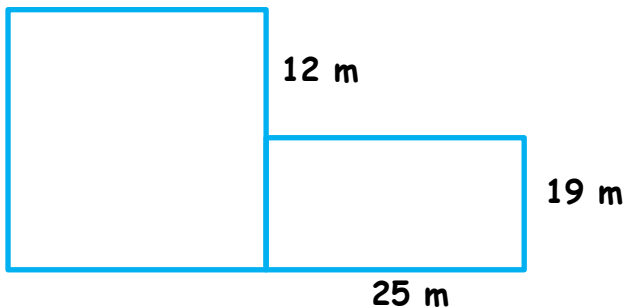
- B) Murat 6 cm Hülya 6 cm
D) Murat 6 cm Hülya 5 cm



Bir usta salon için eni 30 cm, boyu 40 cm olan parkelerle salonun zeminini kaplıyor. Mutfakın çevresi salonun çevresinden 3 m 20 cm daha kısadır.

Usta mutfak zeminini için kaç tane parke kullanmıştır?

- A) 48 B) 49 C) 54 D) 56



Kare ve dikdörtgen şeklinde iki bitişik tarlanın etrafına 3 sıra tel çekilecektir. Telin metresi 7 TL olduğuna göre tel için ne kadar para ödenmelidir?

- A) 3486 TL B) 3276 TL
C) 3654 TL D) 4851 TL