

Adı : .....  
Soyadı : .....

4. Sınıf  
Sosyal Bilgiler

Uzaktaki Arkadaşlarım  
Yaprak Test-4



1- Yukarıda verilen dünya haritasına göre rakamla gösterilen yerler için hangi bilgi yanlıştır?

- A) 1 numaralı ülkede balıkçılık çok yaygındır.
- B) 2 numaralı bölgede yaşayan insanlar genelde siyah tenlidir.
- C) 3 numaralı ülkede yaşayan insanlar daha çok Hristiyanlık dinine inanırlar.
- D) 4 numaralı bölgede daha çok Fransızca ve Almanca dilleri konuşulur.

2- Türkiye aşağıdaki kıtalardan hangisinde yer almaktadır?

- A) Avrupa
- B) Asya-Avrupa
- C) Asya-Afrika
- D) Asya



3- Olimpiyat Oyunları dünyadaki tüm ülkelerin katılımıyla 4 yılda bir yapılan sportif yarışmalardır. Yukarıda olimpiyat oyunları bayrağına göre kırmızı ve yeşil halkanın içine hangileri yazılmalıdır?

- A) ABD - Rusya
- B) Antarktika - Okyanusya
- C) Amerika - Okyanusya
- D) Amerika - Avustralya

4- Aşağıda verilen ülke-kıta eşleştirmelerinden hangisi yanlıştır?

- A) Arjantin → Kuzey Amerika
- B) Meksika → Güney Amerika
- C) İngiltere → Avrupa
- D) Mısır → Afrika

Beyza : Kırklareli

Esmâ : Şanlıurfa

Mert : Artvin

5- Beyza, Esmâ ve Mert'in yaşadıkları şehirler yukarıda verilmiştir. Bu üç öğrenci en yakın sınır komşusu ülkelerde yaşayan akrabalarına ziyarete gideceklerdir. Buna göre öğrencilerin gideceği ülkeler hangisinde doğru verilmiştir?

	Mert	Esmâ	Beyza
A)	Gürcistan	Irak	Yunanistan
B)	Ermenistan	İran	Bulgaristan
C)	Ermenistan	Suriye	Yunanistan
D)	Gürcistan	Suriye	Bulgaristan

6- Aşağıdakilerden hangisi ülkemizin sınır komşusu değildir?

- A) KKTC
- B) Suriye
- C) Ermenistan
- D) Gürcistan

Farklı ülkelerde yaşayan insanların dilleri, kültürleri ve yaşam biçimlerinde farklılıklar vardır. Ancak, aynı dine inanan, aynı dili konuşan milletlerin kültürleri birbirine çok benzemektedir.

7- Buna göre aşağıdaki ülkelerden hangisi diğerlerine göre Türkiye ile daha çok benzerlik gösterir?

- A) Meksika
- B) Azerbaycan
- C) Yunanistan
- D) Ermenistan

Adı : .....  
Soyadı : .....

4. Sınıf  
Sosyal Bilgiler

Uzaktaki Arkadaşlarım  
Yaprak Test-4

8- Aşağıdakilerden hangisi bağımsız Türk Cumhuriyetlerinden biri değildir?

- A) Kırgızistan  
B) Özbekistan  
C) Türkmenistan  
D) Türkistan



Sovyetler Birliği dünyanın en büyük ülkesi iken 1991 yılında dağılıp parçalandı. Yerine birçok devlet kuruldu. Bu devletlerden Rusya hala en büyük ülkedir.

9- Yukarıdaki haritaya göre Sovyetler Birliği dağılıncı kurulan en büyük ikinci ülke olan Türk cumhuriyeti (5 numaralı) hangisidir?

- A) Ukrayna  
B) Azerbaycan  
C) Kazakistan  
D) Türkmenistan

10- Aşağıdakilerden hangisi Macaristan'a ait kültürel özelliklerden biri değildir?

- A) Macarların dünyaca ünlü yemeği "gulaş"tır.  
B) Selamlaşırken karşılıklı olarak dil çıkarırlar.  
C) Çocuk oyunlarından biri ugroiskola oyunudur.  
D) İnsanlar birbirlerine isim ve soy isimleri ile hitap ederler.

11- Aşağıdakilerden hangisi Asya kıtasında insanların kendilerini savunmak için yaptıkları spor dallarından biri değildir?

- A) Karate  
B) Judo  
C) Tekvando  
D) Boks

Her ülkenin kendisine özel milli bayramları ve özel günleri vardır. Ancak dini bayramlar birçok ülkede aynı zamanda kutlanır.





12- Aşağıdakilerden hangisi ABD, Fransa, Rusya, Almanya gibi ülkelerde ortak olarak kutlanır?

- A) Ramazan Bayramı  
B) Paskalya Bayramı  
C) Kurban Bayramı  
D) At Bayramı



Milletlerin inandıkları dinler de kültürü etkiler. Hac işareti Hristiyanlar için kutsaldır. İnsanlar bu işareti günlük yaşamlarında vanlarında tasırlar.

13- Birçok Hristiyan ülke dini sembollerini bayraklarda da kullanmışlardır. Aşağıdaki ülkelerden hangisi Hristiyan bir ülke değildir?

- A)  B)   
C)  D) 

14- Her ülkenin kendisine has yemek yeme kültürleri olabilir. Aşağıdaki yemek yeme kültürleri için hangi bilgi yanlıştır?

- A) Arap pilavı ve eti elleriyle yerler.  
B) Türkler çayı sıcak içerken İngilizler soğuk içerler.  
C) Çin ve Japonlar pilavı ekmeğin arasına koyarak yerler.  
D) İtalyanlar pizza ve spagettiye çok tüketirler.

Adı : .....  
Soyadı: .....

4. Sınıf  
Sosyal Bilgiler

Uzaktaki Arkadaşlarım  
Yaprak Test-4

Doğru : .....

Yanlış:.....

- 1 A B C D  
2 A B C D  
3 A B C D  
4 A B C D  
5 A B C D

- 6 A B C D  
7 A B C D  
8 A B C D  
9 A B C D  
10 A B C D

- 11 A B C D  
12 A B C D  
13 A B C D  
14 A B C D  
15 A B C D

- 16 A B C D  
17 A B C D  
18 A B C D  
19 A B C D  
20 A B C D