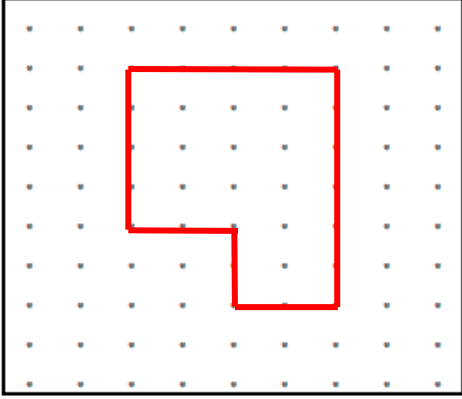


Adı :
Soyadı:

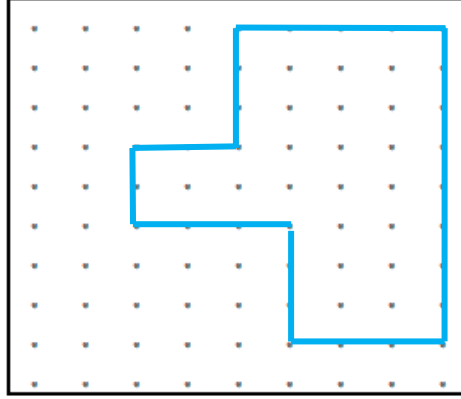
4. Sınıf
Matematik

Alan Ölçme-3

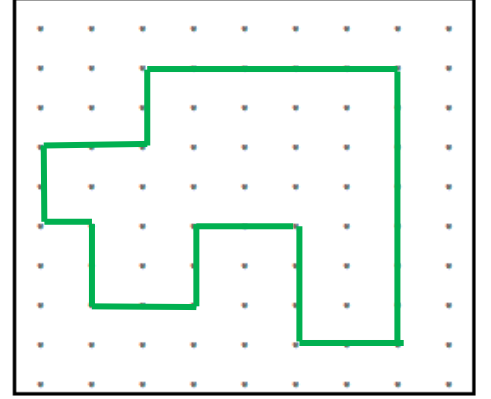
Aşağıdaki izometrik bölgelerde çizili bölgelerin
1-Birim karelerini çiziniz. 2-Bölgeyi boyayınız. 3-Boyalı bölgenin alanını yazınız.



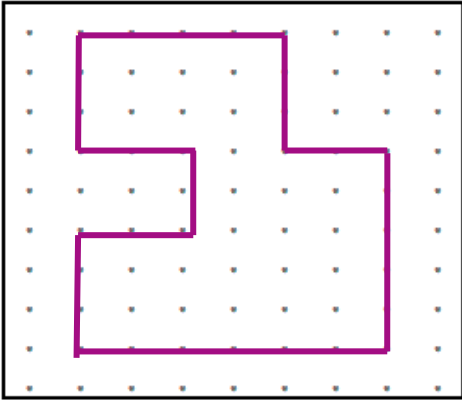
Alan=



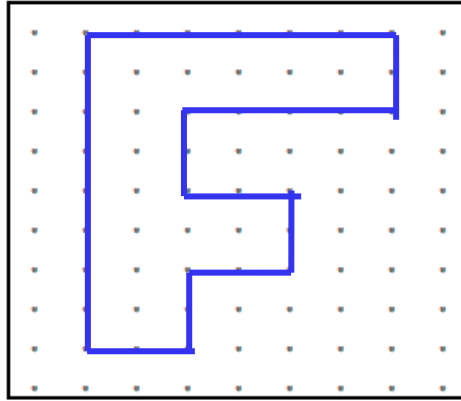
Alan=



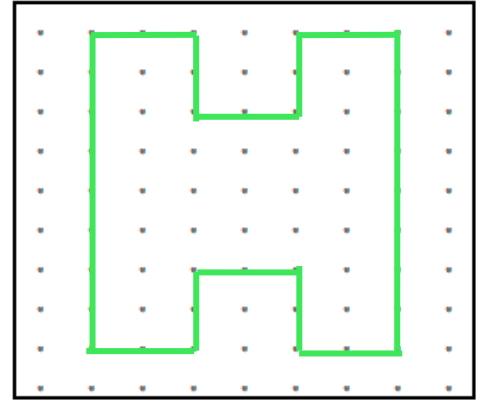
Alan=



Alan=




Alan=



Alan=

Aşağıdaki noktalı bölgelerde istenen alanları çiziniz. Her alanı farklı renge boyayınız.
10 birim kare , 12 birim kare , 15 birim kare , 21 birim kare , 36 birim kare, 43 birim kare



Adı :
Soyadı:

4. Sınıf
Matematik

Alan Ölçme-3

Aşağıdaki karelerin alanlarını bulunuz. (Kenar uzunluklarını yazınız.)

Karenin alanı = Kenar Uzunluğu x Kenar Uzunluğu

5 birim



A= 5 x 5
A= 25 birim kare

6 birim



A=
A=

9 birim



A=
A=

12 birim



A=
A=

8 birim



A=.....
A=.....

10 birim



A=
A=

15 birim



A=
A=

20 birim



A=
A=

Aşağıdaki dikdörtgenlerin alanlarını bulunuz. (Kenar uzunluklarını yazınız.)

Dikdörtgenin alanı = Kısa Kenar x Uzun Kenar

6 birim

3 birim



A=
A=

8 birim

5 birim



A=
A=

13 birim

7 birim



A=
A=

20 birim

9 birim



A=
A=

25 birim

11 birim



A=
A=

30 birim

20 birim



A=
A=