


Adı :

Soyadı:

4. Sınıf
Matematik

Alan Ölçme-5

Aşağıdaki görselde harflerin kapladığı alanları bulunuz.



A= birim kare

B=

F=

T=

E=

Y=

Aşağıdaki evin bölümlerinin kapladığı alanlarını birim kare olarak bulunuz.



Salon:birim kare

Mutfak:

Banyon:.....

Tuvalet:.....

Yatak Odası:.....

Oturma Odası:.....

Çocuk Odası=.....

Misafir Odası.....

Koridor:.....

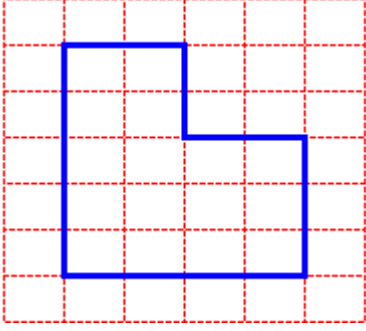
Evin tamamı:.....

Adı :
Soyadı:

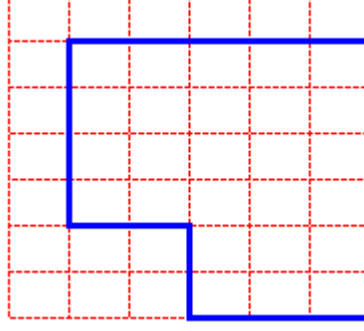
4. Sınıf
Matematik

Alan Ölçme-5

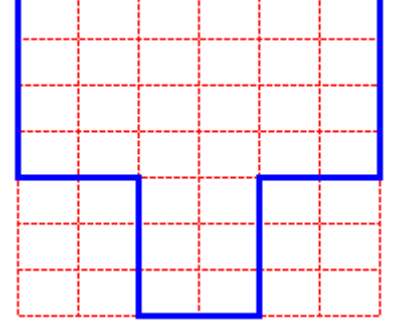
Aşağıdaki bölgelerin alanlarını ve çevresini bulunuz.



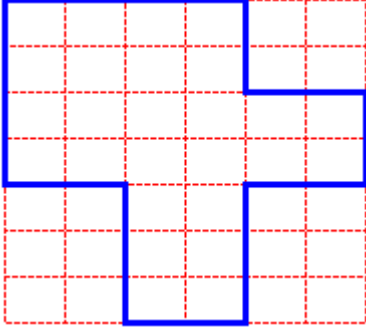
A= birim kare
Ç= birim



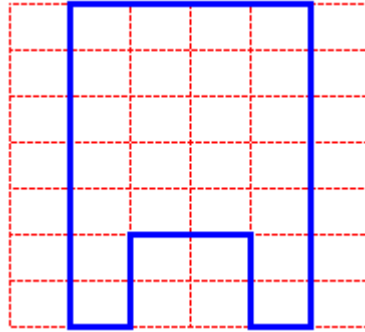
A= birim kare
Ç= birim



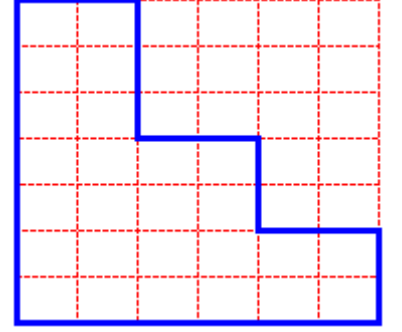
A= birim kare
Ç= birim



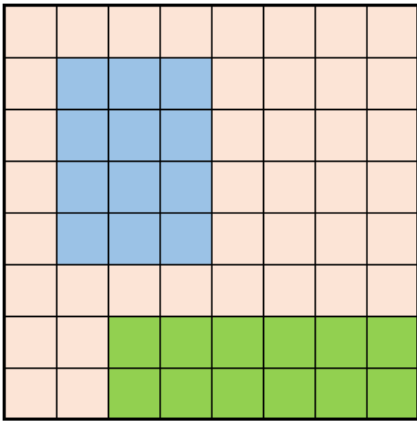
A= birim kare
Ç= birim



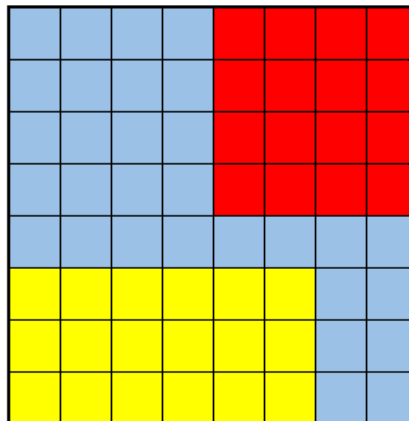
A= birim kare
Ç= birim



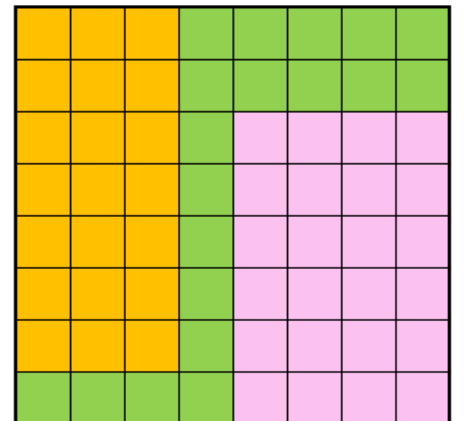
A= birim kare
Ç= birim



Mavi A=.....
Mavi Ç=.....
Yeşil A=.....
Yeşil Ç=.....
Kırmızı A=.....
Kırmızı Ç=.....



Sarı A=.....
Sarı Ç=.....
Kırmızı A=.....
Kırmızı Ç=.....
Mavi A=.....
Mavi Ç=.....



Turuncu A=.....
Turuncu Ç=.....
Pembe A=.....
Pembe Ç=.....
Yeşil A=.....
Yeşil Ç=.....