



19 MAYIS 1919

Yurdu düşmanlar sardı,
Güneşimiz karardı.
Ninelerin gözleri
Birer kanlı pınardı.

Serin bahar meltemi
Gibi beyaz bir gemi
Samsun'a demir attı,
Göklerimiz ağardı.

Bu gemide inanan,
Yurda şan, millete şan;
Büyük, eşsiz kahraman
Mustafa Kemal vardı.

M.Necati ÖNGAY

Not: İlk 3 soruyu şiire göre cevaplayınız.

1) Şiir kaç mısra, kaç kıtadan oluşmaktadır?

- A) 3 mısra - 12 kıta
- B) 12 mısra - 3 kıta
- C) 12 mısra - 4 kıta

2) Şiirdeki beyaz gemi nereye demir atmıştır?

- A) İzmir'e
- B) İstanbul'a
- C) Samsun'a

3) Şiirdeki gemide hangi kahraman varmış?

- A) Mustafa Kemal
- B) İsmet İnönü
- C) Mehmet Akif ERSOY

4)



Bulmacadaki sözcüğü tamamlamak için soru işaretinin "?" olduğu yere aşağıdaki harflerden hangisini kullanamayız?

- A) P
- B) Z
- C) Ü

5)



Hangi seçenekte olayların oluş sırası doğru olarak verilmiştir?

- A) 3-1-4-2
- B) 2-1-4-3
- C) 2-1-3-4

6) Herkes caddede bize baktı 

Lütfen, yardım ediniz 

Kaçıncı kata çıkacağız 

Yukarıda cümlelerde noktalama işaretleri meyvelerle gösterilmiştir. Buna göre hangi meyve **soru işaretinin** yerine konulmuştur?

- A)  B)  C) 

7)  Sıla tatlıyı çok sever pastaya bayılır.




Yukarıdaki cümleyi hangi sözcükle tamamlarsak Sıla'nın pastayı **daha çok** sevdiği anlaşılır?

- A) özellikle B) daha C) çünkü


8) "Son aylarda **konut** fiyatları çok yükseldi." cümlesindeki altı çizili sözcüğün yerine aşağıdakilerden hangisi getirilirse cümlenin anlamı **bozulmaz**?

- A) misafir B) ev C) arsa

9) Aşağıdakilerden hangisi standart olmayan uzunluk ölçüsü birimi **değildir**?

- A)  B)  C) 




10)



Efe, sınıf tahtasının uzunluğunu ölçmek istiyor. Sınıf tahtasını hangi uzunluk ölçü birimiyle ölçmesi daha kolaydır?

- A) Karış B) Kulaç C) Parmak




11) Standart olmayan ölçü birimleri kişiden kişiye göre değişir. Buna göre hangi öğrencinin verdiği örneklerin tamamı **doğrudur**?

- A)  Metre, karış ve kulaç
B)  Adım, ayak ve kulaç
C)  Santimetre, parmak ve adım

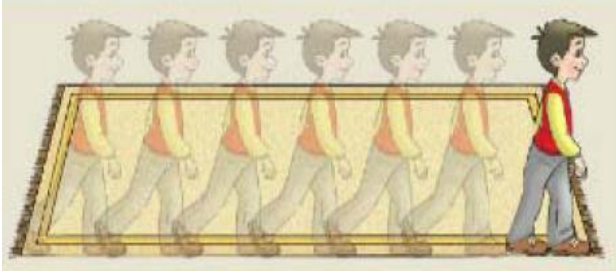
12) Aşağıdaki varlıklardan hangisinin gerçek uzunluğu **2 karış** olabilir?

- A)  B)  C) 

13) Aşağıdakilerden hangisinin gerçek boyu **2 adım** olabilir?

- A)  B)  C) 

14)



Yukarıdaki halının uzunluğu için aşağıdaki ifadelerden hangisi **doğrudur**?

- A) 6 adım 2 ayak B) 6 ayak 2 adım
C) 5 adım 2 ayak

15)






Yandaki meslek grubu aşağıdaki **standart ölçme araçlarından** hangisi kullanır?

- A)  B)  C) 

16)



Otomobilimiz ile memleketimize giderken bölgeye geldik. O kadar yoğun ki iki metre önümüzü zor görüyorduk.

- A)  B) 
C) 

17) Aşağıdaki bilgilerden hangisi **yanlıştır**?

- A) Hava durumuna uygun giyinmeliyiz.
B) Fırtınalı havada ağaç altında beklemek güvenlidir.
C) Yağışlı ve karlı havalarda kayma, düşme tehlikesi vardır.

18)

Kaygan yollardan dolayı trafik kazalarında artışlar olur.

Yukarıdaki açıklanan durumun hangi hava durumunda gerçekleşmesi **beklenmez**?

- A)  B)  C) 

19) Aşağıdakilerden hangisi doğa olayı **değildir**?

- A)  B) 
C) 

20) Aşağıdakilerden hangisi dolu yağışının zarar verici etkilerinden korunmak için alınabilecek tedbirlerden birisi **değildir**?

- A) Yağış sırasında açık alanda bulunulmamalı
B) Araçlar kapalı alana park edilmeli
C) Güneş gözlüğü takılmalı

Cevap Anahtarı

- 1)B 2)C 3)A 4)C 5)B
6)C 7)A 8)B 9)C 10)B
11)B 12)C 13)A 14)A 15)A
16)C 17)B 18)A 19)B 20)C