

## UZUNLUKLARI ÖLÇME

Aşağıda cetveli kullanarak verilen nesnelerin uzunluklarını altına yazınız.



Silginin boyu ..... cm'dir.



Kalemtraşın boyu ..... cm'dir.



Atağın boyu ..... cm'dir.



Anahtarın boyu ..... cm'dir.



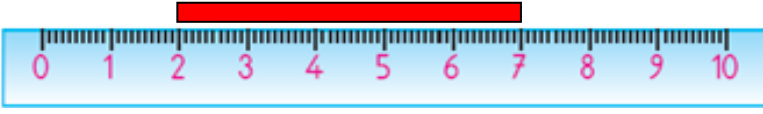
Kalemin boyu ..... cm'dir.



Kaşığın boyu ..... cm'dir.

## UZUNLUKLARI ÖLÇME

Aşağıdaki cetveli kullanarak verilen şeritlerin uzunluklarını altına yazınız.



Kırmızı şeridin boyu ..... cm'dir.



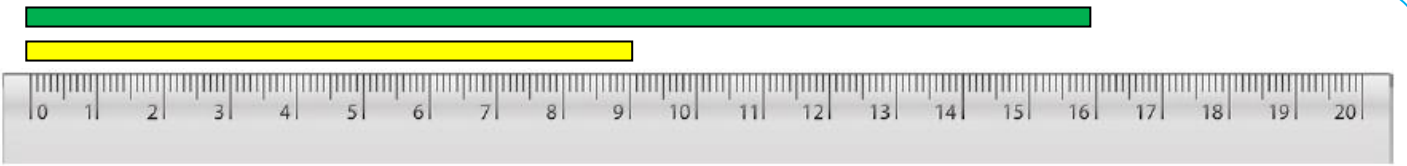
Sarı şeridin boyu ..... cm'dir.



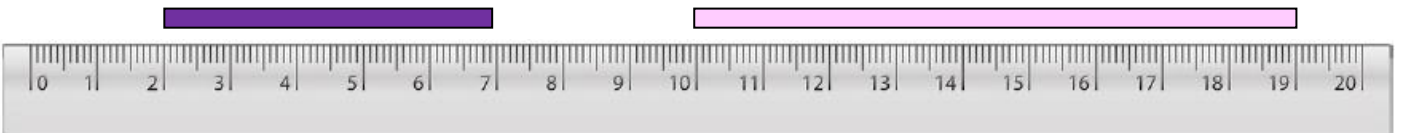
Yeşil şeridin boyu ..... cm'dir.



Mavi şeridin boyu ..... cm'dir.



Yeşil ve sarı şeridin boyunun uzunlukları toplamı ..... cm'dir.



Mor ve pembe şeridin boyunun uzunlukları toplamı ..... cm'dir.



Siyah ve turuncu şeridin boyunun uzunlukları toplamı ..... cm'dir.

## UZUNLUKLARI ÖLÇME

Aşağıdaki görsellerin uzunluklarını, oklarla gösterilen yerlerden yararlanarak cetvel ile ölçerek noktalı yerlere yazınız.




..... cm



..... cm



..... cm



..... cm



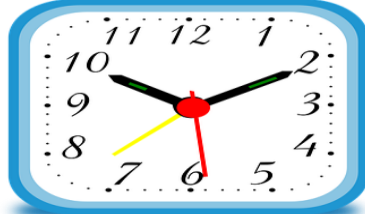
..... cm




..... cm



..... cm




..... cm



..... cm

Aşağıdaki verilen cümleleri görsellere uygun biçimde uygun ifadelerle doldurunuz.



Ela




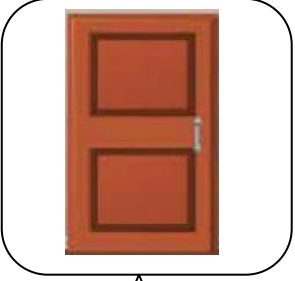

Ali

Okan

- Boyu en uzun olan ..... dır.
- Boyu en kısa olan ..... dır.
- Okan'ın boyu ..... cm, Ela'nın boyu ..... m, ..... cm'dir.
- Ela ve Ali'nin boy uzunluğu 1 metreden daha ..... dır.

## UZUNLUKLARI ÖLÇME

Aşağıdaki nesnelere gerçek uzunluğu 1 metreden fazla olanların altındaki yıldızı maviye, 1 metreden az olanların altındaki yıldızı kırmızıya boyayınız.



Aşağıdaki verilen boy uzunluklarını 1 m, 1 m'den az ve 1 m'den fazla şeklinde ifadeler kullanarak yazınız.



Efe

İsa

Nail

Oya

Ayşe

Efe'nin boyu .....

İsa'nın boyu .....

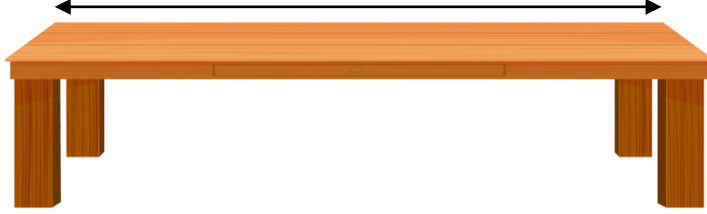
Nail'in boyu .....

Oya'nın boyu .....

Ayşe'nin boyu .....

## UZUNLUKLARI TAHMİN ETME

Aşağıdaki nesnelerin uzunluklarını önce tahmin edelim. Sonra ölçüm yaparak tahminimizle karşılaştıralım.



MASA

Tahminim	Ölçme Sonucu	Aradaki fark
..... cm	..... cm	..... cm



KALEM

Tahminim	Ölçme Sonucu	Aradaki fark
..... cm	..... cm	..... cm



SILGI

Tahminim	Ölçme Sonucu	Aradaki fark
..... cm	..... cm	..... cm



FIRÇA

Tahminim	Ölçme Sonucu	Aradaki fark
..... cm	..... cm	..... cm



KALEM TIRAŞ

Tahminim	Ölçme Sonucu	Aradaki fark
..... cm	..... cm	..... cm

## UZUNLUKLARI TAHMİN ETME

Aşağıdaki şeritlerin uzunluklarını önce tahmin edelim. Sonra cetvelimizle ölçerek ölçüm sonuçları ile tahminlerimizi karşılaştırınız.



Tahmin : .....

Ölçme Sonucu .....

Aradaki fark:



Tahmin : .....

Ölçme Sonucu .....

Aradaki fark:



Tahmin : .....

Ölçme Sonucu .....

Aradaki fark:



Tahmin : .....

Ölçme Sonucu .....

Aradaki fark:



Tahmin : .....

Ölçme Sonucu .....

Aradaki fark:

Görselleri verilen varlıkların gerçek uzunluklarının ne kadar olabileceğini işaretleyiniz.



4 m

20 cm

70 cm



10 m

10 cm

4 cm



30 m

2 cm

2 m



1 m

11 cm

55 cm



25 m

75 m

15 m



3 m

3 cm

25 cm



25 cm

10 m

85 cm



8 m

50 cm

90 m



1 m

10 cm

5 cm



40 m

4 cm

4 m