



UZUN BOYLU ZÜRAFA

O yıl Afrika'nın geniş düzlüklerine hiç yağmur yağmamış. Nehirlerdeki sular çekilmiş, tüm ağaçlar kurumuş. Uzun boylu zürafa ise yiyecek yaprak arıyormuş. Ama kurumuş ağaç dallarında bir tek yaprak bile yokmuş. Boynu çok uzun olduğu için de eğilip yerdeki otları yiyemiyormuş.

Sabah erkenden yürüyüşe çıkan iyi kalpli tavşan, yiyecek arayan zürafayı görmüş.

- Hey, Zürafa kardeş! Biraz beklersen sana yardım ederim, diye seslenmiş. Zürafa: "Tavşan bana nasıl yardım edebilir ki?" diye çok şaşırılmış. Bu sırada tavşan, yerden bir kucak dolusu ot toplamış. Sonra bir ağaca çıkmış:

- Buyur zürafa kardeş, afiyetle ye, demiş.

Zürafa, tavşanın bu davranışından çok etkilenmiş. "Bir daha kimseyi küçük görmeyeceğim." diye kendi kendine söz vermiş. Tavşandan özür dilemiş ve afiyetle otları yemiş.

Not: İlk 3 soruyu şiire göre cevaplayınız.

1) Uzun boylu zürafa **ne** arıyormuş?

- A) İçecek su arıyormuş.
- B) Yiyecek yaprak arıyormuş.
- C) Tavşanı arıyormuş.


2) İyi kalpli tavşan, zürafaya **nasıl** yardım etmiş?

- A) Yerden bir kucak dolusu ot toplayarak, otları ağaca çıkarmış.
- B) Kendi yiyeceğini zürafa ile paylaşmış.
- C) Yaprakların bol olduğu bir ağaca götürmüş.

3) Zürafa, tavşanın davranışından etkilenerek kendi kendine **nasıl bir söz** vermiştir?

- A) Bir daha kimseyi küçük görmeyeceğim.
- B) Herkese ben de yardım edeceğim.
- C) İyiliği, karşılık bekleyerek yapacağım.

4) Aşağıdaki hayvanlardan hangisinin adı üç heceli **değildir**?



5)

Babam yarın bana pazardan yeni bir şapka alacak.

Yukarıdaki cümlede altı çizili sözcükler sırasıyla hangi soruların **yanıtıdır**?

- A) Nereye? Ne zaman? Nasıl?
- B) Ne zaman? Nasıl? Nerede?
- C) Ne zaman? Nereden? Nasıl?

6)

traş	eşofman
eğlence	eşek

Yukarıdaki tabloda yazımı doğru sözcüklerin bulunduğu kutular boyanırsa hangi görüntü oluşur?



7)



Tahtadaki cümlede boş bırakılan kutulara sırasıyla hangi noktalama işareti gelmelidir?

A) (.) (?) B) (!) (?) C) (!) (.)

8)





Dengeli ve düzenli beslendiğim için çok sağlıklıyım.

Oya'nın cümlesindeki sebep-sonuç ilişkisi kuran sözcük aşağıdakilerden hangisidir?

A) ve B) çok C) için

9) Aşağıdaki hayvanlardan hangisinin gerçek boyu 1 metreden kısadır?




10)




Okullarımızdaki sınıf kapısının boyu aşağıdaki uzunluklardan hangisi olabilir?

A) 2 m B) 1 m C) 75 cm

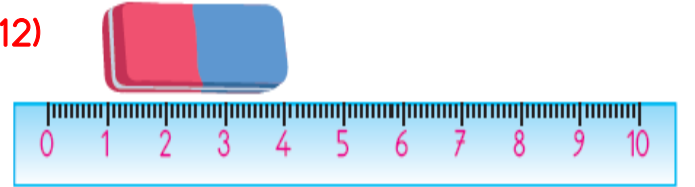
11)



Yandaki resmi verilen sulu boya fırçasının uzunluğunu hangi öğrenci doğru tahmin etmiştir?



12)



Yukarıdaki silginin uzunluğu kaç santimetredir?

A) 4 cm B) 3 cm C) 2 cm

13)



Yukarıdaki kalemin uzunluğu kaç santimetredir?

A) 8 cm B) 7 cm C) 6 cm

14)



Ege'nin boyunun uzunluğu 1 m 35 cm olduğuna göre Ayşe'nin boyunun uzunluğu hangisi **olmaz**?

- A) 1 m 25 cm B) 1 m 30 cm
C) 1 m 37 cm

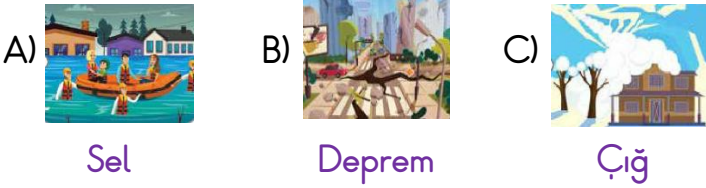
15)



Yukarıda verilen yeşil şerit ile kırmızı şeridin uzunlukları **toplamı** kaç santimetredir?

- A) 13 cm B) 12 cm C) 11 cm

16) Aşağıdaki doğal afetlerden hangisi hava olayları ile ilgili **değildir**?



17) Yağmurun fazla yağdığı bir günde aşağıdaki doğal afetlerden hangisinin görülmesi mümkündür?

- A) Çığ - Heyelan B) Deprem - Sel
C) Heyelan - Sel

18)

Binalar daha sağlam yapılmalıdır.

Özel bir çanta hazırlanmalıdır.

Tatbikatlar yapılmalıdır.

Yukarıda hangi doğal afet için önlemler alınmıştır?

- A) Deprem B) Sel C) Fırtına

19)



Sel ve su baskınlarını önlemek için aşağıdaki çalışmalarından hangisi **yapılmaz**?

- A) Ağaç dikmeliyiz.
B) Dere ve akarsu kenarlarına ev yapmamalıyız.
C) Yağmurları engellemeliyiz.

20)



Depremden korunmak için yapılması gereken **en önemli etken** nedir?

- A) Bina, köprü ve yolları daha sağlam zeminlere yapmak
B) Bina ve yollarımızı orman kenarlarına yapmalıyız.
C) Binalarımızı daha kaliteli boyamalıyız.

Cevap Anahtarı

- 1)B 2)A 3)A 4)C 5)C
6)B 7)B 8)C 9)A 10)A
11)B 12)B 13)C 14)C 15)A
16)B 17)C 18)A 19)C 20)A