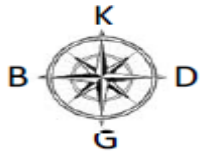
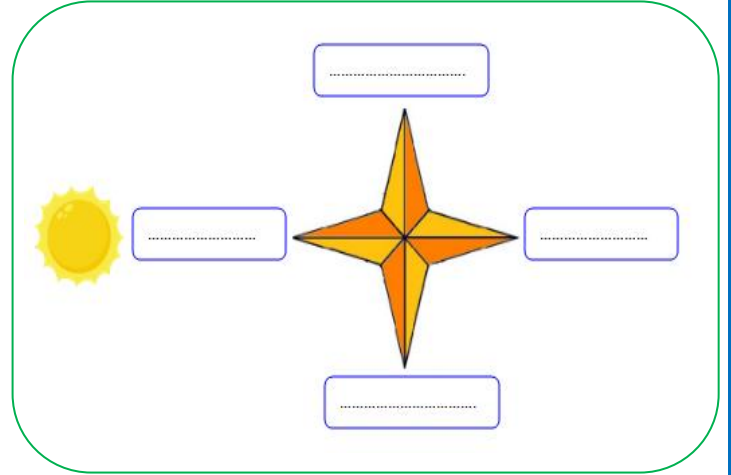
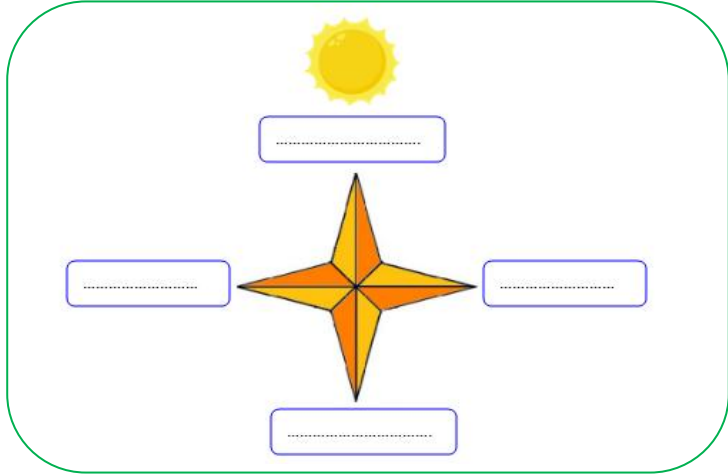
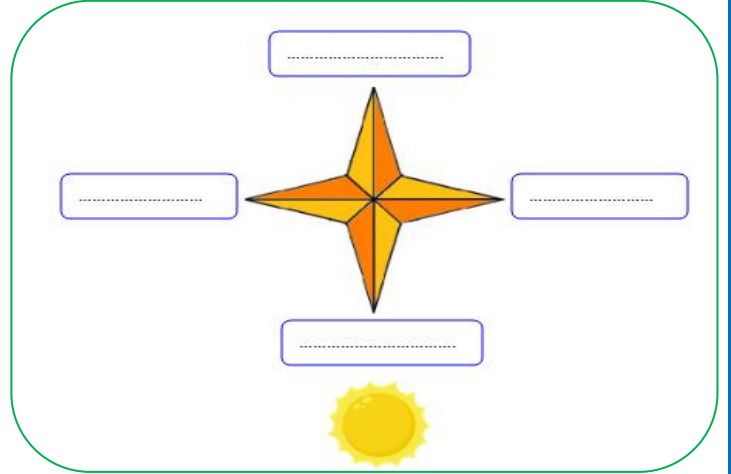
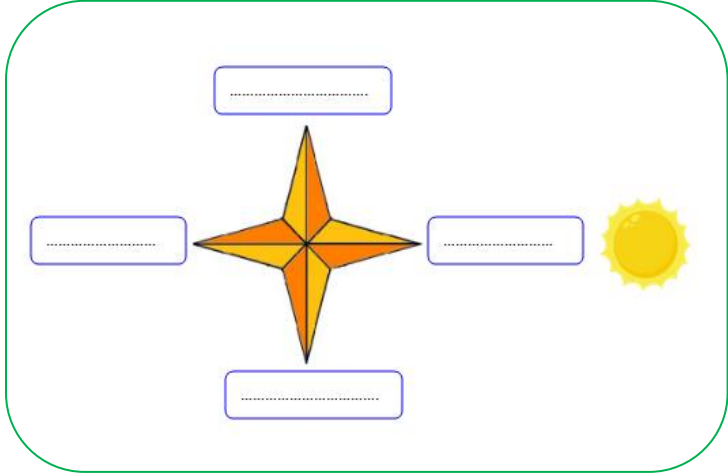


YÖNLERİ GÖSTERELİM



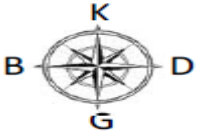
Dört tane ana yön vardır aşağıda verilen kutucuklara bu ana yönleri yazınız.

Aşağıdaki şekillerde Güneş'in doğduğu yön gösterilmiştir. Buna göre boşluklara uygun ana yönleri yazınız.

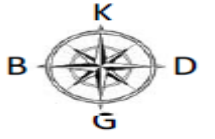


Aşağıda verilen ifadelerden doğru olanların başına "D", yanlış olanların başına "Y" yazınız.


D	Y	İFADELER
		Yönler bulutlara göre belirlenir.
		Güneş, doğudan doğar.
		Ana yönler kuzey ve güney olmak üzere iki tanedir.
		Bir yeri tarif ederken yönlerden yararlanırız.
		Yönlerin belirlenmesinde güneşin doğduğu ve battığı yer esas alınır.
		Doğunun karşı tarafında kuzey bulur.
		Güneş her zaman doğudan doğmayabilir.
		Sağ kolumuzu doğuya doğru açtığımızda önümüz kuzeyi gösterir.



YÖNLERİ GÖSTERELİM



Aşağıda verilen görselleri inceleyelim. Cümlelerdeki boş bırakılan yerleri, verilen görselden yararlanarak doldurunuz



Ela topunun yönündedir.

Ağaç , Ela'nın yönündedir.

Ela evin yönündedir.

Kedi , Ela'nın yönündedir.

Ela kediye doğru gitmek için yönünde ilerlemelidir.

Kedi ağaca doğru gitmek için yönünde ilerlemelidir.

Ali yüzünü Güneş'in battığı yöne doğru dönmüştür. Ali'nin konumuna göre etrafındakilerin hangi yönlerde olduklarını noktalı yerlere yazınız.

Güneş'in battığı yön hangisidir?

Ali'nin köpeği, Ali'nin hangi yönündedir?
.....



Ali'nin babası, Ali'nin hangi yönündedir?
.....

Ali'nin annesi, Ali'nin hangi yönündedir?

Aşağıda cümlelerdeki boşlukları verilen uygun sözcüklerle tamamlayınız.

güneyi

batı

doğu

Güneş'e

Güneş'in doğduğu yön dur.

Sol kolumuz batıyı gösterirken arkamız gösterir.

Yönler göre belirlenir.

Sol kolumuz güneyi gösteriyorsa yüzümü yönünü gösterir.