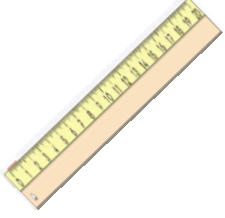


UZUNLUK ÖLÇÜLERİ PROBLEMLERİ 1

1-) 10 cm uzunluğundaki 4 cetvel aralarında boşluk kalmayacak şekilde uç uca eklendi. Cetvellerin uzunlukları toplamı kaç santimetredir?



Cevap:

2-) Bir kalemin boyu, 5 silgi uzunluğundadır. 3 kalemin boyu kaç silgi uzunluğundadır?



Cevap:

3-) Ev ile park arası 36 metredir. Evden parka gidip gelen bir kişi kaç metre yürümüştür?



Cevap:

4-) 60 santimetrelik kurdelenin, 36 santimetresini kullandık. Geriye kalan kurdeleyi 3 eş parçaya böldük. Böldüğümüz parçaların uzunlukları kaç santimetredir?



Cevap:

5-) Nil'in kitaplığının boyu 92 cm, eni 69 cm'dir. Nil'in kitaplığının boyu, eninden kaç cm uzundur?



Cevap:

6-) 80 metre kumaşın önce 25 metresini sonra ise 20 metresi kullanıldı. Geriye kaç metre kumaş kalmıştır?



Cevap:

7-) Ali'nin odasının boyu 8 metredir. Halının boyu ise 5 metredir. Buna göre odanın boyu, halının boyundan kaç metre uzundur?



Cevap:

8-) Azra her hafta, kaleminin 3 santimetresini kullanıyor. Şu anda kalemi 14 santimetredir. 2 hafta sonra, Azra'nın kaleminin uzunluğu kaç santimetre olur?



Cevap:

İskender07

UZUNLUK ÖLÇÜLERİ PROBLEMLERİ 2

1-) Sincabın uzunluğu 35 cm'dir. Köpeğin uzunluğu ise sincabın uzunluğundan 12 cm fazladır. Sincap ve köpeğin uzunlukları toplamı kaç santimetredir?



Cevap:

2-) Kurbağa bir sıçrayışta 8 cm zıplayabilmektedir. Kurbağa 4 sıçrayışta toplam kaç santimetre yol alır?



Cevap:

3-) Melis'in boyu 95 cm'dir. Seda'nın boyu ise 87 cm'dir. Seda, Melis'ten kaç santimetre daha kısadır?



4-) 45 santimetre uzunluğundaki bir fidan, dikildikten bir yıl sonra 15 cm uzuyor. İkinci yılın sonunda fidanın boyu 80 santimetre oluyor. Fidanın boyu ikinci yıl kaç cm uzamıştır?



Cevap:

5-) Bir terzi 50 metre kumaşın, her biri 7 metre uzunluğunda olan 4 parçasını kullanmıştır. Kalan kumaşın uzunluğu kaç metredir?



Cevap:

6-) 1 metrelik uzunluğu 5 karış ile ölçen Fatih, 6 metrelik uzunluğu kaç karış ile ölçer?



Cevap:

7-) Ercan'ın bir karışı 12 cm'dir. Ercan elindeki ipi 3 karıştan 7 cm eksik ölçmüştür. İp kaç santimetre uzunluğundadır?



Cevap:

8-) Günde 4 metre duvar ören bir usta, bir haftada kaç metre duvar örmüştür?




Cevap:

İskender07

UZUNLUK ÖLÇÜLERİ PROBLEMLERİ 3

1-) Kral Şakir'in boyunun uzunluğu 35 cm'dir. Kardeşi Canan, Kral Şakir'den 10 cm kısadır. Remzi'nin boyunun uzunluğu ise Kral Şakirden 5 cm daha uzundur. Üçünün boy uzunluğu toplamı kaç metredir?



Cevap:

2-) Kukuli'nin diktiği muz fidanın uzunluğu 42 cm'dir. Muz fidanın boyu her gün 4 cm uzamaktadır. Kukuli muz fidanını diktikten bir hafta sonra muz fidanın uzunluğunu kaç cm olarak ölçmüştür?



Cevap:

3-) Erdem çalışma masasının uzunluğunu 7 karış, 8 parmak uzunluğunda ölçmüştür. Erdem'in 1 karışı 10 cm, bir parmağının uzunluğu 2 cm ise çalışma masasının uzunluğu kaç santimetredir?



Cevap:

4-) Bob Usta'nın yapmış olduğu binanın yüksekliği 24 metredir. Bina 6 katlı olduğuna göre her katın yüksekliği kaç metredir?



Cevap:

5-) Fil Necati 3 tane dürümü aralarda boşluk olmadan uçlarından birleştirdikten sonra yiyor. 1 dürümün uzunluğu 18 cm ise Fil Necati toplam kaç cm dürüm yemiştir?



Cevap:

6-) Uyuz Tanju'nun aldığı fındıklı gofretin uzunluğu 12 cm'dir. Kakaolu gofret, fındıklı gofretten 6 cm daha uzundur. Tanju ikişer tane fındıklı ve kakaolu gofret yerse toplam kaç cm uzunluğunda gofret yemiş olur?



Cevap:

7-) Koca Ayı'nın bir adımı, Maşanın 5 adımına eşittir. Koca Ayı evinin salonundan mutfığa 9 adımda gidebiliyorsa, aynı mesafeyi Maşa kaç adımda gidebilir?



Cevap:

8-) Mandalina'nın boyunun uzunluğu 58 cm'dir. Kaptan Pengu'nun boyunun uzunluğu ise Mandalina'nın boyunun uzunluğundan 19 cm daha kısadır. İkisinin boy uzunluklarının toplamı 1 metreden kaç cm daha azdır?

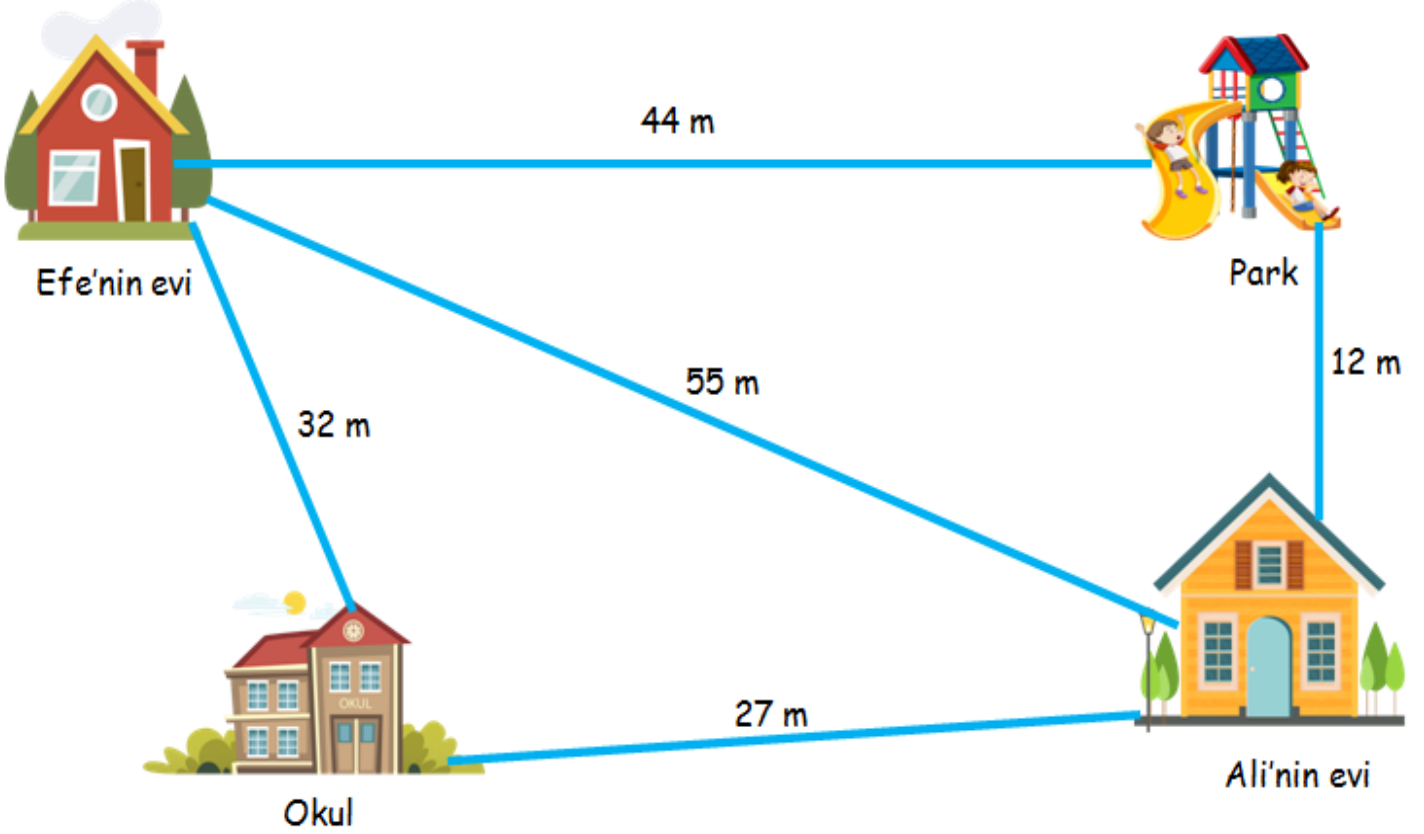


Cevap:

İskender07

UZUNLUK ÖLÇÜLERİ PROBLEMLERİ 4

Aşağıda verilen soruları görselde verilen uzunluklara göre hesaplayınız.



1-) Efe önce parka daha sonra Ali'nin evine giderse kaç metre yürümüş ?

2-) Ali Önce okula daha sonra Efe'nin evine yürürse toplam kaç metre yürümüştür?

3-) Evinden çıkan Efe, önce okula daha sonra Ali'nin evine yürürse kaç metre yol yürümüştür?

4-) Ali'nin evi ile park arasındaki uzaklık, park ile Efe'nin evi arasındaki uzaklıktan kaç metre daha kısadır?

5-) Efe önce Ali'nin evine daha sonra parka giderse toplam kaç metre yol yürümüştür?

6-) Ali, Efe'nin evine gittikten sonra parka giderse toplam kaç metre yol yürümüştür?

7-) Okula en yakın olan yer neresidir?

8-) Efe, Ali'nin evine en kısa yoldan giderse kaç metre yol yürümelidir?