

UZUNLUK MODELİ OLUŞTURALIM

Aşağıda soruları görsellerden yararlanarak dikkatle cevaplayınız.



2 cm



3 cm



5 cm



Kalemin boyu kaç ataç boyundadır ? Cevap:

Kalemin boyunun uzunluğu kaç cm'dir? Cevap:



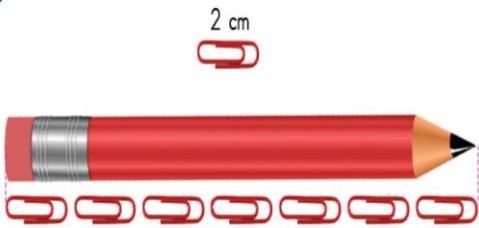
Kalemin boyu kaç kalemıraş boyundadır ? Cevap:

Kalemin boyunun uzunluğu kaç cm'dir? Cevap:



Kalemin boyu kaç kalemıraş boyundadır ? Cevap:

Kalemin boyunun uzunluğu kaç cm'dir? Cevap:



Kalem ataç boyundadır.

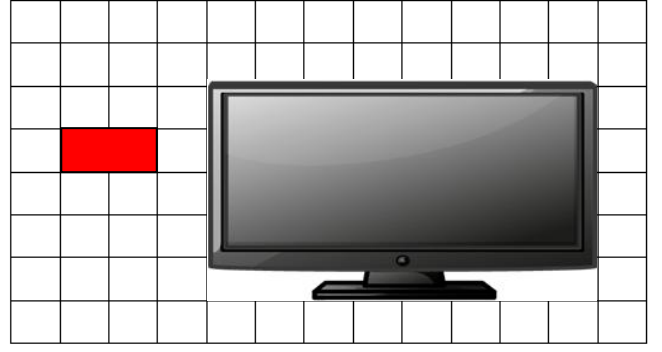
Kalemin boyunun uzunluğu cm'dir.

Bayrak kalem ,veataç boyunun toplamı uzunluğundadır.

Bayrağın uzunluğu cm'dir.

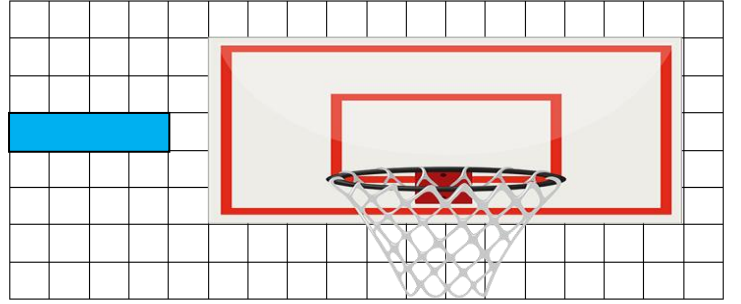
UZUNLUK MODELİ OLUŞTURALIM

Yan tarafta verilen kırmızı şeridi kullanarak bir uzunluk modeli oluşturalım. Oluşturduğumuz bu modelle televizyonun uzunluğunu ölçelim.




Televizyon kırmızı şerit uzunluğundadır.

Yan tarafta verilen mavi şeridi kullanarak bir uzunluk modeli oluşturalım. Oluşturduğumuz bu modelle televizyonun uzunluğunu ölçelim.




Pota mavi şerit uzunluğundadır.

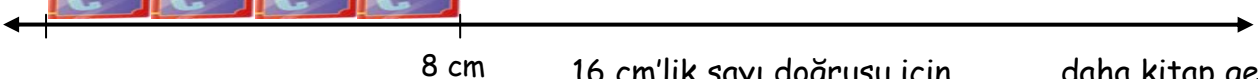
Aşağıdaki standart olmayan ölçme birimlerini kullanarak sayı doğrusu modelleri oluşturalım. Sayı doğrusu modelinin tamamını oluşturmak için kaç varlık daha gerektiğini noktalı yerlere yazalım.



30 santimetrelilik sayı doğrusu için adım daha gerekir.



24 santimetrelilik sayı doğrusu için ayak daha gerekir.



16 cm'lik sayı doğrusu için daha kitap gerekir.