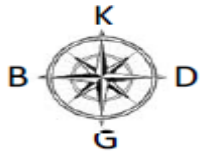
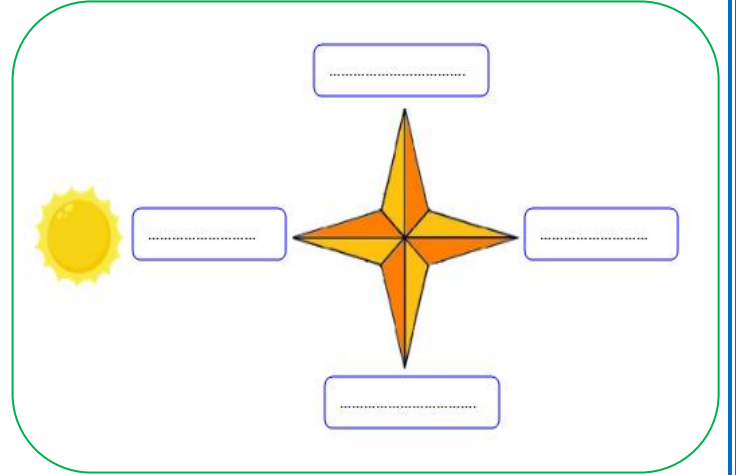
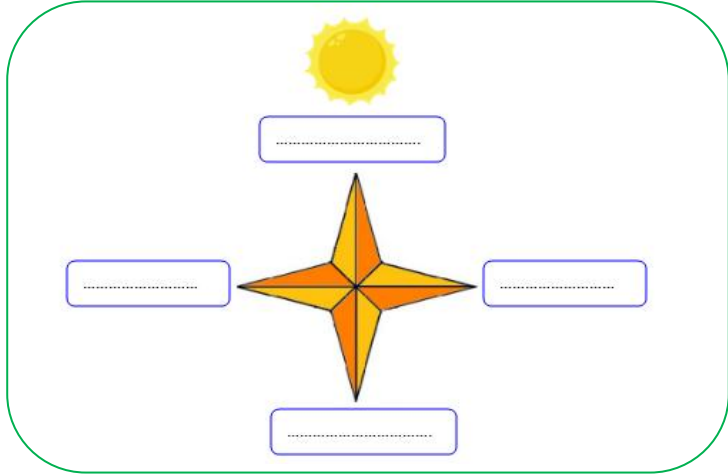
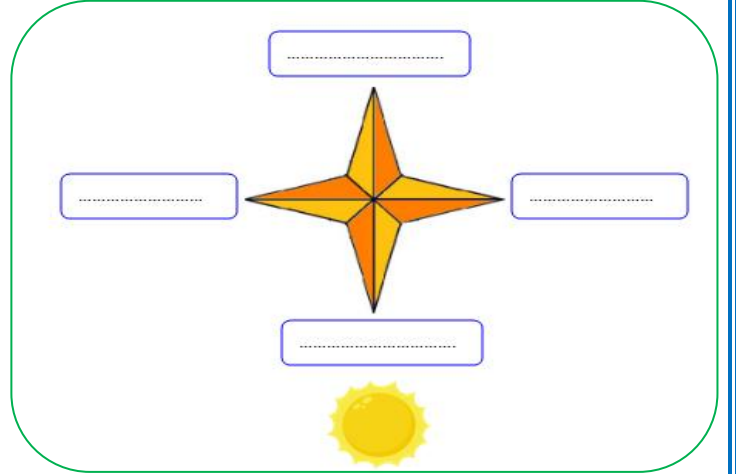
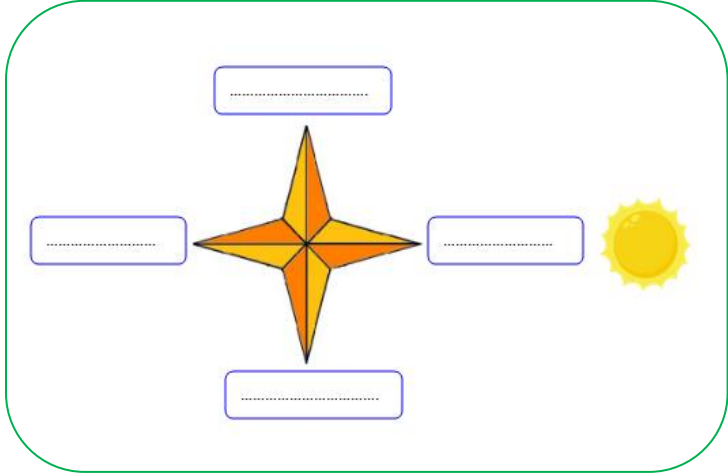


YÖNLERİ GÖSTERELİM



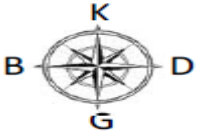
Dört tane ana yön vardır aşağıda verilen kutucuklara bu ana yönleri yazınız.

Aşağıdaki şekillerde Güneş'in doğduğu yön gösterilmiştir. Buna göre boşluklara uygun ana yönleri yazınız.

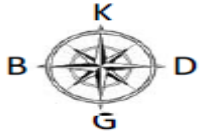


Aşağıda verilen ifadelerden doğru olanların başına "D", yanlış olanların başına "Y" yazınız.


D	Y	İFADELER
		Yönler bulutlara göre belirlenir.
		Güneş, doğudan doğar.
		Ana yönler kuzey ve güney olmak üzere iki tanedir.
		Bir yeri tarif ederken yönlerden yararlanırız.
		Yönlerin belirlenmesinde güneşin doğduğu ve battığı yer esas alınır.
		Doğunun karşı tarafında kuzey bulur.
		Güneş her zaman doğudan doğmayabilir.
		Sağ kolumuzu doğuya doğru açtığımızda önümüz kuzeyi gösterir.



YÖNLERİ GÖSTERELİM



Aşağıda verilen görselleri inceleyelim. Cümlelerdeki boş bırakılan yerleri, verilen görselden yararlanarak doldurunuz



Ela topunun yönündedir.

Ağaç , Ela'nın yönündedir.

Ela evin yönündedir.

Kedi , Ela'nın yönündedir.

Ela kediye doğru gitmek için yönünde ilerlemelidir.

Kedi ağaca doğru gitmek için yönünde ilerlemelidir.

Ali yüzünü Güneş'in battığı yöne doğru dönmüştür. Ali'nin konumuna göre etrafındakilerin hangi yönlerde olduklarını noktalı yerlere yazınız.

Güneş'in battığı yön hangisidir?

Ali'nin köpeği, Ali'nin hangi yönündedir?
.....



Ali'nin babası, Ali'nin hangi yönündedir?
.....

Ali'nin annesi, Ali'nin hangi yönündedir?

Aşağıda cümlelerdeki boşlukları verilen uygun sözcüklerle tamamlayınız.

güneyi

batı

doğu

Güneş'e

Güneş'in doğduğu yön dur.

Sol kolumuz batıyı gösterirken arkamız gösterir.

Yönler göre belirlenir.

Sol kolumuz güneyi gösteriyorsa yüzümü yönünü gösterir.



TOPKAPI SARAYI



Bahar gelmişti. Havalarda yavaş yavaş ısınmaya başlamış, derslerin de sonlarına yaklaşmıştık. Bir gün öğretmenimiz bize müjde verdi.

İki gün sonra sınıfça Topkapı Sarayı'na geziye gidecektik. Hepimiz havalara uçtuk. İki gün çabucak geçti. Hepimiz bahçede toplandık. Öğretmenimiz gezide nelere dikkat etmemiz gerektiğini anlattı. Gezi sırasında sorun yaşatmayacağımıza dair öğretmenimize söz verdik.



Otobüs Topkapı Sarayı'na yaklaştığında hepimiz sevinç çığlıkları attık. Defalarca gezdiği için rehberliğimizi öğretmenimiz yapacaktı.

Hayranlığımız daha kapısında başlandı. "Yüzyıllar önce nasıl yapabilmişlerdi bu koca sarayı?" diye düşündüm. Akşama kadar bütün bölümlerini tek tek dolaştık. Saray, Fatih Sultan Mehmet tarafından yaptırılmış. Padişahlar aileleri ile birlikte bu sarayda yaşıyorlarmış. Padişahlık dönemi sona erdikten sonra saray, o dönemden kalan eşyaların sergilendiği müze olarak kullanılmaya başlamış.



Dönme vakti gelmişti. Hem pek çok bilgi edinmiş, hem de çok eğlenmiştik. Öğretmenimize bizi getirdiği için teşekkür ettik. Öğretmenimiz de sorun yaşatmadığımız için tekrar gezi düzenleyeceğine söz verdi.

A-) Aşağıda verilen soruları metne göre cevaplayınız.

- 1-) Öğretmenleri, öğrencilere nasıl bir müjde vermişti?
- 2-) Öğrenciler, öğretmenlerine neyin sözünü vermişler?
- 3-) Topkapı Sarayı hangi padişah tarafından yapılmıştır?
- 4-) Padişahlık dönemi bittikten sonra saray ne amaçla kullanılmış?

www.mebders.com

B-) Doğru olanı işaretleyelim.

1) Hikaye hangi mevsimde geçmektedir?

- A) Sonbahar
- B) İlkbahar
- C) Kış

2) Çocuklara gezide kim rehberlik yapmıştır?

- A) Rehberler
- B) Müze müdürü
- C) Öğretmenleri

3) Topkapı Sarayında kimler yaşıyor?

- A) Padişah ve ailesi
- B) Turistler
- C) Komutanlar

ŞİİRDE KONU VE ANA DÜŞÜNCE

Aşağıda verilen şiirleri birkaç kere okuyunuz. Sorulan soruları cevaplayınız.

CUMHURİYET

Yirmi Dokuz Ekim'de,
Cumhuriyet kuruldu.
Ulus özgür sesini,
Tüm Dünya'ya duyurdu.

Cumhuriyet bizlere,
Armağandır Ata'dan.
Egemenlik sesleri,
Yükseldi Ankara'dan.

Hülya ÖNEL

Şiirin başlığı nedir ?

Şiirin konusu nedir?

Şiirin ana duygusu nedir?

Şiir kaç dizeden oluşmuştur?

Şiirin şairi kimdir?

ÖĞRETMENİME

Sözlerin ışık bize,
Örneksin hepimize.
Saygı, teşekkür size...
Sevgili öğretmenim.

İyiliğe el sensin,
Güzelliğe dil sensin.
Doğruluğu öğretensin,
Sevgili öğretmenim.

Ali Osman ATAK

Şiirin başlığı nedir ?

Şiirin konusu nedir?

Şiirin ana duygusu nedir?

Şiir kaç dizeden oluşmuştur?

Şiirin şairi kimdir?

MEVSİMLER

İlkbahar pembe, ılık...
Kırmızı ve sıcak yaz.
Sonbahar serin, sarı...
Kışsa soğuk ve beyaz!

İlkbahar çiçek mevsimidir,
Yaz; kavun, karpuz ve deniz.
Sonbahar "yağmur" demektir.
Kış, kardan adam ve biz.

Aziz Sivasoğlu

Şiirin başlığı nedir ?

Şiirin konusu nedir?

Şiirin ana duygusu nedir?

Şiir kaç dizeden oluşmuştur?

Şiirin şairi kimdir?

ATASÖZLERİ ÇALIŞMASI

Aşağıda görseli verilen atasözünün anlamı yazarak atasözünün konusunu belirleyiniz.

AYAĞINI YORGANINA
GÖRE UZAT



Atasözü: Ayağını yorganına göre uzat

Anlamı:

Konusu:

BAKARSAN BAĞ OLUR
BAKMAZSAN DAĞ OLUR



Atasözü: Bakarsan bağ olur bakmazsan dağ olur

Anlamı:

Konusu:

ARMUT PIŞ
AĞZIMA DÜŞ




Atasözü: Armut piş ağızma düş

Anlamı:

Konusu:

PARAYI VEREN
DÜDÜĞÜ ÇALAR



Atasözü: Parayı veren düdüğü çalar

Anlamı:

Konusu:

AĞAÇ YAŞ İKEN
EĞİLİR



Atasözü: Ağaç yaş iken eğilir.

Anlamı:

Konusu:

ASLAN YATTIĞI
YERDEN BELLİ OLUR



Atasözü: Aslan yattığı yerden belli olur.

Anlamı:

Konusu:

ŞİİRDE KONU VE ANA DÜŞÜNCE

Aşağıda verilen şiirleri birkaç kere okuyunuz. Sorulan soruları cevaplayınız.

CUMHURİYET

Yirmi Dokuz Ekim'de,
Cumhuriyet kuruldu.
Ulus özgür sesini,
Tüm Dünya'ya duyurdu.

Cumhuriyet bizlere,
Armağandır Ata'dan.
Egemenlik sesleri,
Yükseldi Ankara'dan.

Hülya ÖNEL

Şiirin başlığı nedir ?

Şiirin konusu nedir?

Şiirin ana duygusu nedir?

Şiir kaç dizeden oluşmuştur?

Şiirin şairi kimdir?

ÖĞRETMENİME

Sözlerin ışık bize,
Örneksin hepimize.
Saygı, teşekkür size...
Sevgili öğretmenim.

İyiliğe el sensin,
Güzelliğe dil sensin.
Doğruluğu öğretensin,
Sevgili öğretmenim.

Ali Osman ATAK

Şiirin başlığı nedir ?

Şiirin konusu nedir?

Şiirin ana duygusu nedir?

Şiir kaç dizeden oluşmuştur?

Şiirin şairi kimdir?

MEVSİMLER

İlkbahar pembe, ılık...
Kırmızı ve sıcak yaz.
Sonbahar serin, sarı...
Kışsa soğuk ve beyaz!

İlkbahar çiçek mevsimidir,
Yaz; kavun, karpuz ve deniz.
Sonbahar "yağmur" demektir.
Kış, kardan adam ve biz.

Aziz Sivasoğlu

Şiirin başlığı nedir ?

Şiirin konusu nedir?

Şiirin ana duygusu nedir?

Şiir kaç dizeden oluşmuştur?

Şiirin şairi kimdir?

VARLIĞIN ÖZELLİĞİNİ BELİRTEN KELİMELE (ÖN AD)

Aşağıdaki tabloda resmi verilen varlıkların, varlığın hangi özelliğini belirttiğini işaretleyiniz.

VARLIK	DURUMU	RENGİ	BİÇİMİ	SAYISI
 dikdörtgen masa				
 üç kitap				
 Zayıf çocuk				
 Yeşil elma				
 Şaşkın kız				
 yuvarlak saat				
 kırık gözlük				

Aşağıdaki verilen cümlelerde altı çizili kelimeler varlığın hangi özelliğini belirtiyor yazınız.

Başımın altına yumuşak yastık koydum.



..... belirtiyor.

Mağazadan çizgili pijama takımı aldık.



..... belirtiyor.

Okulumuzun bahçesinde sekiz çeşme var.



..... belirtiyor.

Masmavi denizi hayranlıkla seyrettiler.



..... belirtiyor.

Annem misafirlere çikolatalı kek yapacak.



..... belirtiyor.

Bu yıl üçüncü sınıfa başlayacağım.



..... belirtiyor.

Dedem ile fırından taze ekmek aldık.



..... belirtiyor.

VARLIĞIN ÖZELLİĞİNİ BELİRTEN KELİMELE (ÖN AD)

Aşağıdaki tabloda resmi verilen varlıkların, varlığın hangi özelliğini belirttiğini işaretleyiniz.

VARLIK	DURUMU	RENGİ	BİÇİMİ	SAYISI
 dikdörtgen masa				
 üç kitap				
 Zayıf çocuk				
 Yeşil elma				
 Şaşkın kız				
 yuvarlak saat				
 kırık gözlük				

Aşağıdaki verilen cümlelerde altı çizili kelimeler varlığın hangi özelliğini belirtiyor yazınız.

Başımın altına yumuşak yastık koydum.



..... belirtiyor.

Mağazadan çizgili pijama takımı aldık.



..... belirtiyor.

Okulumuzun bahçesinde sekiz çeşme var.



..... belirtiyor.

Masmavi denizi hayranlıkla seyrettiler.



..... belirtiyor.

Annem misafirlere çikolatalı kek yapacak.



..... belirtiyor.

Bu yıl üçüncü sınıfa başlayacağım.



..... belirtiyor.

Dedem ile fırından taze ekmek aldık.



..... belirtiyor.

ATASÖZLERİ ÇALIŞMASI

Aşağıda görseli verilen atasözünün anlamı yazarak atasözünün konusunu belirleyiniz.

AYAĞINI YORGANINA
GÖRE UZAT



Atasözü: Ayağını yorganına göre uzat

Anlamı:

Konusu:

BAKARSAN BAĞ OLUR
BAKMAZSAN DAĞ OLUR



Atasözü: Bakarsan bağ olur bakmazsan dağ olur

Anlamı:

Konusu:

ARMUT PIŞ
AĞZIMA DÜŞ




Atasözü: Armut piş ağızma düş

Anlamı:

Konusu:

PARAYI VEREN
DÜDÜĞÜ ÇALAR



Atasözü: Parayı veren düdüğü çalar

Anlamı:

Konusu:

AĞAÇ YAŞ İKEN
EĞİLİR



Atasözü: Ağaç yaş iken eğilir.

Anlamı:

Konusu:

ASLAN YATTIĞI
YERDEN BELLİ OLUR



Atasözü: Aslan yattığı yerden belli olur.

Anlamı:

Konusu:

UZUNLUK MODELİ OLUŞTURALIM

Aşağıda soruları görsellerden yararlanarak dikkatle cevaplayınız.



2 cm



3 cm



5 cm



Kalemin boyu kaç ataç boyundadır ? Cevap:

Kalemin boyunun uzunluğu kaç cm'dir? Cevap:



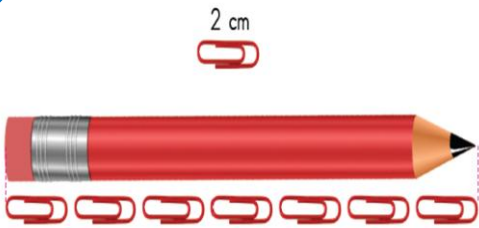
Kalemin boyu kaç kalemıraş boyundadır ? Cevap:

Kalemin boyunun uzunluğu kaç cm'dir? Cevap:



Kalemin boyu kaç kalemıraş boyundadır ? Cevap:

Kalemin boyunun uzunluğu kaç cm'dir? Cevap:



Kalem ataç boyundadır.


Kalemin boyunun uzunluğu cm'dir.

Bayrak kalem ,veataç boyunun toplamı uzunluğundadır.

Bayrağın uzunluğu cm'dir.

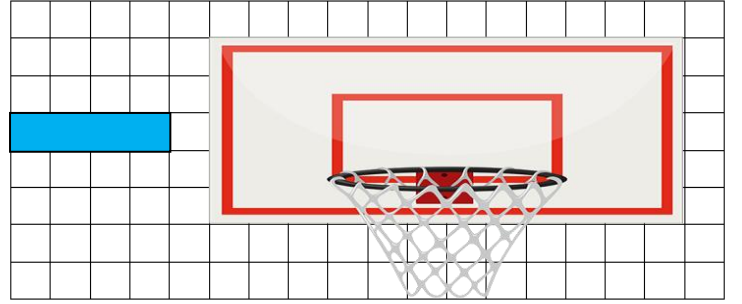
UZUNLUK MODELİ OLUŞTURALIM

Yan tarafta verilen kırmızı şeridi kullanarak bir uzunluk modeli oluşturalım. Oluşturduğumuz bu modelle televizyonun uzunluğunu ölçelim.



Televizyon kırmızı şerit uzunluğundadır.

Yan tarafta verilen mavi şeridi kullanarak bir uzunluk modeli oluşturalım. Oluşturduğumuz bu modelle televizyonun uzunluğunu ölçelim.



Pota mavi şerit uzunluğundadır.

Aşağıdaki standart olmayan ölçme birimlerini kullanarak sayı doğrusu modelleri oluşturalım. Sayı doğrusu modelinin tamamını oluşturmak için kaç varlık daha gerektiğini noktalı yerlere yazalım.



10 cm

30 santimetrelilik sayı doğrusu için adım daha gerekir.



12 cm

24 santimetrelilik sayı doğrusu için ayak daha gerekir.

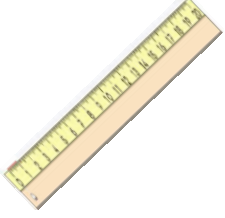


8 cm

16 cm'lik sayı doğrusu için daha kitap gerekir.

UZUNLUK ÖLÇÜLERİ PROBLEMLERİ 1

1-) 10 cm uzunluğundaki 4 cetvel aralarında boşluk kalmayacak şekilde uç uca eklendi. Cetvellerin uzunlukları toplamı kaç santimetredir?



Cevap:

2-) Bir kalemin boyu, 5 silgi uzunluğundadır. 3 kalemin boyu kaç silgi uzunluğundadır?



Cevap:

3-) Ev ile park arası 36 metredir. Evden parka gidip gelen bir kişi kaç metre yürümüştür?



Cevap:

4-) 60 santimetrelik kurdelenin, 36 santimetresini kullandık. Geriye kalan kurdeleyi 3 eş parçaya böldük. Böldüğümüz parçaların uzunlukları kaç santimetredir?



Cevap:

5-) Nil'in kitaplığının boyu 92 cm, eni 69 cm'dir. Nil'in kitaplığının boyu, eninden kaç cm uzundur?



Cevap:

6-) 80 metre kumaşın önce 25 metresini sonra ise 20 metresi kullanıldı. Geriye kaç metre kumaş kalmıştır?



Cevap:

7-) Ali'nin odasının boyu 8 metredir. Halının boyu ise 5 metredir. Buna göre odanın boyu, halının boyundan kaç metre uzundur?



Cevap:

8-) Azra her hafta, kaleminin 3 santimetresini kullanıyor. Şu anda kalemi 14 santimetredir. 2 hafta sonra, Azra'nın kaleminin uzunluğu kaç santimetre olur?



Cevap:

İskender07

UZUNLUK ÖLÇÜLERİ PROBLEMLERİ 2

1-) Sincabın uzunluğu 35 cm'dir. Köpeğin uzunluğu ise sincabın uzunluğundan 12 cm fazladır. Sincap ve köpeğin uzunlukları toplamı kaç santimetredir?



Cevap:

2-) Kurbağa bir sıçrayışta 8 cm zıplayabilmektedir. Kurbağa 4 sıçrayışta toplam kaç santimetre yol alır?



Cevap:

3-) Melis'in boyu 95 cm'dir. Seda'nın boyu ise 87 cm'dir. Seda, Melis'ten kaç santimetre daha kısadır?



4-) 45 santimetre uzunluğundaki bir fidan, dikildikten bir yıl sonra 15 cm uzuyor. İkinci yılın sonunda fidanın boyu 80 santimetre oluyor. Fidanın boyu ikinci yıl kaç cm uzamıştır?



Cevap:

5-) Bir terzi 50 metre kumaşın, her biri 7 metre uzunluğunda olan 4 parçasını kullanmıştır. Kalan kumaşın uzunluğu kaç metredir?



Cevap:

6-) 1 metrelik uzunluğu 5 karış ile ölçen Fatih, 6 metrelik uzunluğu kaç karış ile ölçer?



Cevap:

7-) Ercan'ın bir karışı 12 cm'dir. Ercan elindeki ipi 3 karıştan 7 cm eksik ölçmüştür. İp kaç santimetre uzunluğundadır?



Cevap:

8-) Günde 4 metre duvar ören bir usta, bir haftada kaç metre duvar örmüştür?




Cevap:

İskender07

UZUNLUK ÖLÇÜLERİ PROBLEMLERİ 3

1-) Kral Şakir'in boyunun uzunluğu 35 cm'dir. Kardeşi Canan, Kral Şakir'den 10 cm kısıdır. Remzi'nin boyunun uzunluğu ise Kral Şakirden 5 cm daha uzundur. Üçünün boy uzunluğu toplamı kaç metredir?



Cevap:

2-) Kukuli'nin diktiği muz fidanın uzunluğu 42 cm'dir. Muz fidanın boyu her gün 4 cm uzamaktadır. Kukuli muz fidanını diktikten bir hafta sonra muz fidanın uzunluğunu kaç cm olarak ölçmüştür?



Cevap:

3-) Erdem çalışma masasının uzunluğunu 7 karış, 8 parmak uzunluğunda ölçmüştür. Erdem'in 1 karışı 10 cm, bir parmağının uzunluğu 2 cm ise çalışma masasının uzunluğu kaç santimetredir?



Cevap:

4-) Bob Usta'nın yapmış olduğu binanın yüksekliği 24 metredir. Bina 6 katlı olduğuna göre her katın yüksekliği kaç metredir?



Cevap:

5-) Fil Necati 3 tane dürümü aralarda boşluk olmadan uçlarından birleştirdikten sonra yiyor. 1 dürümün uzunluğu 18 cm ise Fil Necati toplam kaç cm dürüm yemiştir?



Cevap:

6-) Uyuz Tanju'nun aldığı fındıklı gofretin uzunluğu 12 cm'dir. Kakaolu gofret, fındıklı gofretten 6 cm daha uzundur. Tanju ikişer tane fındıklı ve kakaolu gofret yerse toplam kaç cm uzunluğunda gofret yemiş olur?



Cevap:

7-) Koca Ayı'nın bir adımı, Maşanın 5 adımına eşittir. Koca Ayı evinin salonundan mutfığa 9 adımda gidebiliyorsa, aynı mesafeyi Maşa kaç adımda gidebilir?



Cevap:

8-) Mandalina'nın boyunun uzunluğu 58 cm'dir. Kaptan Pengu'nun boyunun uzunluğu ise Mandalina'nın boyunun uzunluğundan 19 cm daha kısadır. İkisinin boy uzunluklarının toplamı 1 metreden kaç cm daha azdır?

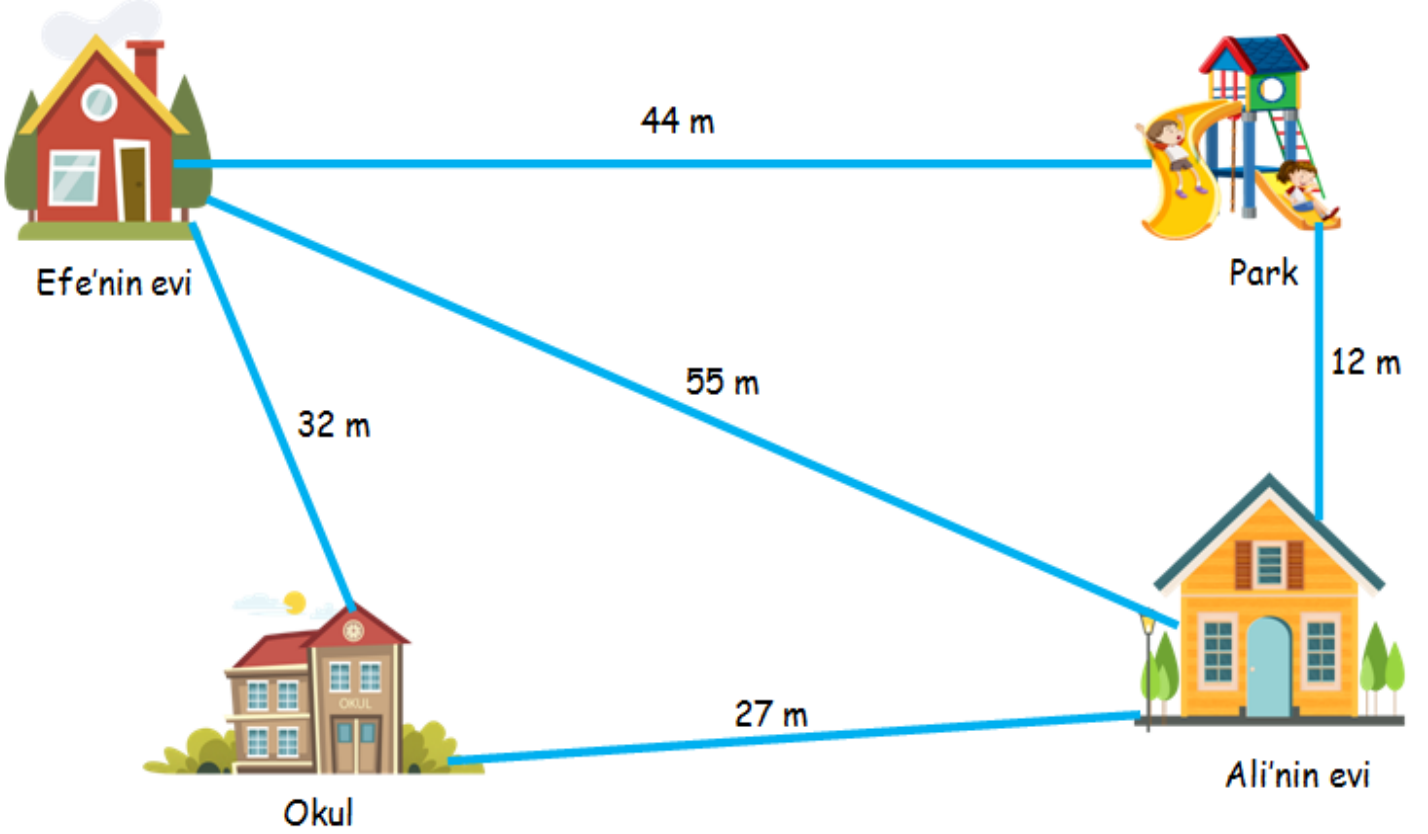


Cevap:

İskender07

UZUNLUK ÖLÇÜLERİ PROBLEMLERİ 4

Aşağıda verilen soruları görselde verilen uzunluklara göre hesaplayınız.



1-) Efe önce parka daha sonra Ali'nin evine giderse kaç metre yürümüş ?

2-) Ali Önce okula daha sonra Efe'nin evine yürürse toplam kaç metre yürümüştür?

3-) Evinden çıkan Efe, önce okula daha sonra Ali'nin evine yürürse kaç metre yol yürümüştür?

4-) Ali'nin evi ile park arasındaki uzaklık, park ile Efe'nin evi arasındaki uzaklıktan kaç metre daha kısadır?

5-) Efe önce Ali'nin evine daha sonra parka giderse toplam kaç metre yol yürümüştür?

6-) Ali, Efe'nin evine gittikten sonra parka giderse toplam kaç metre yol yürümüştür?

7-) Okula en yakın olan yer neresidir?

8-) Efe, Ali'nin evine en kısa yoldan giderse kaç metre yol yürümelidir?



ASLAN İLE FARE

Aslanın biri uyuyormuş. Bir fare gelip vücudunun üzerinde dolaşmaya başlamış. Aslan uyanmış, fareyi yakalamış. Ama fare başlamış yalvarmaya:

-Bırak beni. Gün olur, benim de sana bir iyiliğim dokunur, demiş. Aslan gülmüş bu söze. Gene de bırakmış fareyi. Aradan zaman geçmiş. Bir gün aslan, avcılarının kurduğu tuzağa düşmüş. Gelmişler, onu bir ağaca sınıksıkı bağlamışlar.

Fare, aslanın inlemelerini duymuş, koşarak gelmiş. İpleri kemirip aslanı kurtarmış. Bunun üzerine de:

-Vaktiyle sen bana gülmüştün. Benden bir hayır beklemiyordun. Ama gördün ya, fareler de iyilikbilir. Onların da bir yardımı dokunabilir, demiş.

Not: İlk 3 soruyu şiire göre cevaplayınız.

1) Aslan vücudunun üzerinde dolaşan fareyi yakalayınca, fare ne söylemiştir?

- A) Beni hemen serbest bırak demiş.
- B) Bırak beni gün olur, benim de sana bir iyiliğim dokunur demiş.
- C) Lütfen! Beni affet demiş.

2) Fare, aslanı avcılarının tuzağından nasıl kurtarmıştır?

- A) Avcıların, aslanı bağladıkları ağacı keserek
- B) Ormandaki diğer hayvanları çağırarak
- C) Aslanı bağladıkları ipleri kemirerek

3) Aslan ile fare masalından nasıl bir ders çıkarabiliriz?

- A) Kimseyi küçümsememeli, karşılık beklemeden birbirimize yardım etmeliyiz.
- B) Bizden büyüklere yardım etmeliyiz.
- C) Yardımlaşma karşılıklı olarak yapılmalıdır.

4)

A - nıt - ka - bir
1 2 3

Yukarıdaki kelimeyi satır sonuna sığmadığında hangi sayı ile gösterilen yerden ayırmak yanlış olur?

- A) 1
- B) 2
- C) 3

5) Aşağıdaki cümlelerin hangisinde hem tekil hem de çoğul isim vardır?

- A) Parkta bir sürü oyuncak vardı.
- B) Sınıfımıza yeni tahta ve sıralar geldi.
- C) Akşam bize misafir geldi.

6)

k_ rt

_ fak

k_z_

Yukarıdaki kelimelere hangi harf gelirse kelimeler anlamalı ve doğru yazılmış olur?

A) a

B) e

C) u

7)

Hey, sana söylüyorum ()
Oradakilerin hangisi senin ()
Bugün çok yorulduk ()

Yukarıdaki cümlelerin sonuna **sırasıyla** hangi noktalama işareti gelmelidir?

A) (.) (|) (?)

B) (.) (?) (|)

C) (|) (?) (.)

8)



Özel isimler her zaman büyük harfler yazılır.


Aşağıdaki cümlelerin hangisinde bu kurala **uyulmamıştır**?

A) Minik kedim Tekir'i çok seviyorum.

B) En yüksek dağımız ağırı dağdır.

C) Dünya'nın uydusu Ay'dır.

9)



Yukarıdaki kalemin uzunluğu **kaç kalemıraş** uzunluğundadır?

A) 4

B) 6

C) 8

10, 11, 12 ve 13. soruları aşağıda verilen uzunluk modellerine göre cevaplayınız

2 cm



10) Kalemin boyu kaç ataç boyundadır?

A) 6

B) 7

C) 8

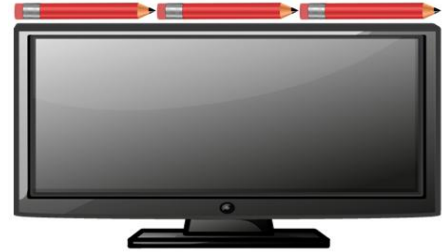
11) Kalemin boyunun uzunluğu kaç cm'dir?

A) 14

B) 12

C) 7

12)



Yukarıda verilen televizyon ekranının **eninin uzunluğu** kaç cm'dir?

A) 36cm

B) 40cm

C) 42cm

13)



Yukarıdaki **bayrağın uzunluğu** kaç cm'dir?

A) 18 cm

B) 20 cm

C) 22 cm



Mert kulacının uzunluğunu 47 cm olarak ölçüyor. Adımını ise kulacından 13 cm fazla ölçüyor. Buna göre Mert'in adımının uzunluğu kaç cm'dir?




- A) 50 cm B) 60 cm C) 63 cm



Bir terzi 3 metrelik kumaştan bir masa örtüsü, 4 metrelik kumaştan da bir elbise dikmektedir. Terzi, 7 masa örtüsü ve 6 elbise diktiğine göre toplam kaç metre kumaş kullanmıştır?

- A) 45 cm B) 46 cm C) 48 cm


16) Yönleri belirlemek için aşağıdakilerden hangisini esas alırız?

- A)  B)  C) 

17) Yönlerle ilgili aşağıdaki bilgilerden hangisi yanlıştır?

- A) Güneş batıdan batar.
B) Yüzümüz kuzeyi gösterirse sırtımız doğuyu gösterir.
C) Yönleri güneşe göre belirleriz.

18)



Yukarıda verilen resimde Efe'nin sağ kolu güneşin doğduğu yönü göstermektedir. Bu bilgiye göre Efe'nin arka tarafı hangi yönü göstermektedir?

- A) Güney B) Kuzey C) Batı

19. ve 20. soruları aşağıda verilen Türkiye haritasına göre cevaplayınız.



Yukarıda verilen haritada Ege Denizi ülkemizin hangi tarafındadır?

- A) Kuzey B) Güney C) Batı

20) Ülkemizin güneyinde hangi deniz bulunmaktadır?

- A) Karadeniz B) Akdeniz
C) Marmara Denizi

Cevap Anahtarı

- 1)B 2)C 3)A 4)A 5)B
6)C 7)C 8)B 9)C 10)B
11)A 12)C 13)A 14)B 15)A
16)C 17)B 18)A 19)C 20)B