
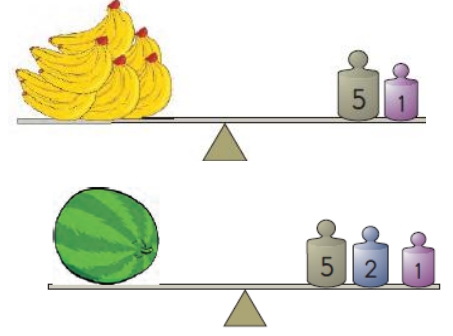




## TARTMA PROBLEMLERİ 1



Koca Ayı ve arkadaşları sabah 27 kg bal yiyor. Akşam ise sabah yediği baldan 14 kg fazla bal yiyorlar. Toplam kaç kg bal yemişler?



Kukuli yukarıdaki terazilerdeki ağırlık kadar manavdan alışveriş yapmıştır. Aldıkları toplam kaç kilogramdır?



56 kg

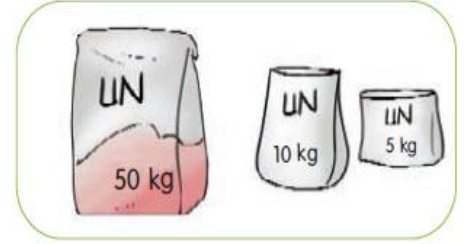


25 kg



?

Keloğlan 56 kg, Heidi 27 kg ağırlığındadır. Maysa'nın ağırlığı Heidi'nin ağırlığından 6 kg daha azdır. Üçünün toplam ağırlığı kaç kg'dır?



Niloya ve annesi ekmek pişirmek için paketlerdeki unları satın almışlardır. Toplam kaç kilogram almışlardır?



9 kg

Karpuzun ağırlığı 9 kilogramdır. 4 adet karpuz alan birisi toplam kaç kilogram karpuz almıştır?



Kral Şakir 4 paket şeker ve 5 paket pirinç alıyor. Aldıkları toplam kaç kilogram gelmektedir?

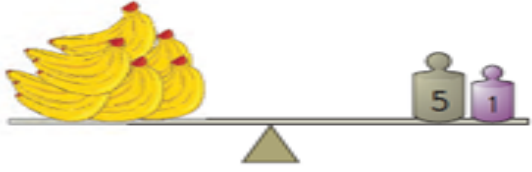
## TARTMA İŞLEMİ PROBLEMLERİ 2

1-) Garfield bir tanesi 14 kg gelen somon balığını bir haftada yemektedir. Garfield 3 hafta boyunca kaç kg somon balığı yiyebilir?



Cevap:

2-)



Kukuli terazideki ağırlık kadar muz almıştır. Muzun kilosunu 10 TL'ye alan Kukuli satıcıya kaç TL para ödemiştir?



Cevap:

3-) Arı Maya ve arkadaşları her gün 5 kilogram bal yaparsa, bir hafta sürede toplam kaç kilogram bal yapabilirler?



Cevap:



4-)

Kral Şakir terazideki ağırlığı verilen karpuzdan 3 tane alırsa kaç kg karpuz satın alır?



İşkender07

Cevap:

5-) Fil Necati fazla kilolarından kurtulmak için diyeteye başlıyor. Her hafta 3 kilogram zayıflayan Fil Necati 2 ay diyet yaparsa kaç kilogram zayıflayabilir?



Cevap:

6-) Mert'in ağırlığı 42 kg'dır. Aslı'nın ağırlığı Mert'in ağırlığından 3 kg eksiktir. Mert ve Aslı'nın ağırlıkları toplamı kaç kg'dır?



Cevap:



7-) Elif terazideki ağırlık kadar elma almıştır. Elmanın kilosu 4 TL'dir. Satıcıya 50 TL verdiği göre kaç TL para üstü alır?



Cevap:

8-) 75 kg samanın Doru 39 kilogramını yemiştir. Geri kalan samanı Karatay yemiştir. Buna göre Karatay kaç kg saman yemiştir?



Cevap:




## TARTMA PROBLEMLERİ 3



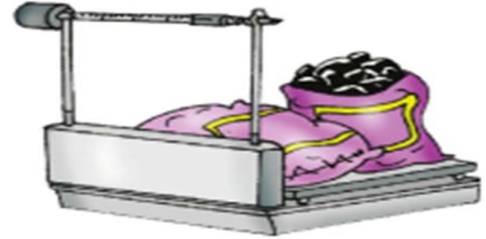
Osman yukarıda terazide verilen ağırlık kadar domates satın almıştır. Domatesin kilosu 9 TL olduğuna göre kaç TL para ödemiştir?



Bir filedeki patatesin ağırlığı terazide görülmektedir. Kilosunu 10 TL'den bir file patates alan Arda kaç TL para öder?



Nermin yukarıda dengede duran terazideki ağırlık kadar portakal almıştır. Portakalın kilosu 8 TL olduğuna göre satıcıya kaç TL para ödemiştir?



**Kömür 74 kg**

Kantardaki kömürü satılan alan Hasan Bey cumartesi günü 21 kg, pazar günü 18 kg kullandı. Geriye kaç kg kömür kalmıştır?



Mehmet, terazide ağırlığı verilen karpuz almak istiyor. Kilosunu 5 TL olan karpuzu almak isteyen Mehmet kaç TL ödemiştir?



13 kg

15 kg

?

Görseledeki 3 çuval toplam 40 kg gelmektedir. Buna göre 3 numaralı çuval kaç kilogramdır?

## TARTMA İŞLEMİ PROBLEMLERİ 4

1-) Bir manav 80 kilogram meyvenin sabah 18, öğlenden sonra 34 kilogramını sattı. Manavın kaç kilogram meyvesi kaldı?



Cevap:

2-) Kerem manavdan kilogramı 9 TL olan limondan 2 kilo aldı. Satıcıya 50 lira verdi. Kaç TL para üstü alacaktır?



Cevap:

3-) 30 kilogram şekerin önce 7 kg, daha sonra 16 kilogramı satıldı. Geriye kaç kg şeker kaldı?



Cevap:

4-) Annem marketten her biri 5 kg olan 4 paket un alıyor. Unun 12 kg'ını kullanıyor. Geriye kaç kg un kalmıştır?



İskender07

Cevap:

5-) Bir kasap 14 kg kuzu eti, 19 kg dana eti satıyor. Sattığı tavuk etinin kütlesi ise kuzu ve dana etinin toplamından 22 kg fazladır. Kasap kaç kg tavuk eti satmıştır?



Cevap:

6- )



Niloya 6 paket şeker ve 4 paket pirinç alıyor. Aldıkları toplam kaç kilogram gelmektedir?



Cevap:

7-) Her birinde 10 kg soğan bulunan 4 çuvaldaki soğanların tamamı, 5 poşete eşit şekilde paylaşılıyor. Her bir poşette kaç kilogram soğan vardır?



Cevap:

8- ) Her hafta 4 kilogram kemik yiyen bir köpek 1 ayda toplam kaç kilogram kemik yemiştir?



Cevap: