



GRÖNLAND

Dünya'nın en büyük adası Grönland'dır. Ama bu bildiğiniz gibi bir ada değil. Bu adada büyük kar kütleleri her yeri kaplar. Yılın büyük bir kısmı karla kaplıdır. Kışları o kadar soğuk olur ki, termometre -70 dereceyi gösterir.

Bu kadar soğuk memlekette insan yaşama: dediğinizi duyar gibiyim. Ama yanılıyorsunuz. Bu adada yaşayan insanlar İnitler. İnitler, adına iglo dedikleri evler yapmışlar ve orada yaşamışlar. Günümüzde hala iglo yapıp, onda yaşayan İnitler var.

Bu adada insanlar daha çok balıkçılık yaparak geçimlerini sağlıyorlar. Grönland'da yaşamak ister miyim bilmiyorum ama gezmek için gitmek isterdim. Bu adada Dünya'nın başka hiçbir yerinde göremeyeceğimiz harika bir görsel şölen gerçekleşiyor. Adı, Kuzey Işıkları. Umarım bir gün Grönland'a gitme şansını yakarım.

Not: İlk 3 soruyu şiire göre cevaplayınız.

1) Grönland'da yılın büyük bir kısmı ne ile kaplıdır?

- A) Sel sularıyla
- B) Ormanlarla
- C) Karlarla

2) Kışları Grönland'da termometre kaç dereceyi gösterir?

- A) - 40
- B) - 70
- C) - 60

3) İnitler yapmış oldukları evlere ne ad vermişlerdir?

- A) İngo
- B) İglo
- C) İlgo

4) Ankara() dan dayım() ne zaman geliyor()

Yukarıdaki parantez () ile belirtilen yerlere sırasıyla hangi noktalama işareti gelmelidir?

- A) (!) (,) (?)
- B) (,) (!) (?)
- C) (!) (,) (.)

5) Mehmet, sabah Antalya'ya gitti.




Yukarıdaki cümlede altı çizili sözcükler sırasıyla hangi soruların yanıtıdır?

- A) Kim? Nereye? Ne zaman?
- B) Kim? Niçin? Ne zaman?
- C) Kim? Ne zaman? Nereye?

6)

üretim	acemi	bayat
usta	taze	tüketim




Yukarıdaki tabloda zıt anlamlı kelimeleri aynı renge boyarsak nasıl bir şekil ortaya çıkar?

- A)  B) 
- C) 

7) Aşağıdaki metin başlıklarından hangisi **yanlış** yazılmıştır?

- A) Tavşan ile tilki
B) Kırmızı Başlıklı Kız
C) ASLAN İLE FARE

8) " girmeyen eve girer." atasözü hangi seçenekteki varlıkların adı ile tamamlanabilir?

- A)  B) 
- C) 

9)



Mustafa, aldığı kavun için satıcıya 30 TL ödedi. Buna göre **1 kg kavun** kaç liradır?

- A) 4 TL B) 5 TL C) 6 TL

10)



Ahmet kilogramı **9 TL** olan Eriklerden **3 kg** aldı. Manava **50 TL** para veren Ahmet kaç TL para üstü alır?

- A) 14 TL B) 23 TL C) 27 TL

11)



Sevim 38 kg, Aslı 29 kg ağırlığındadır. Mert'in ağırlığı, Sevim'in ağırlığından **7 kg daha azdır**. Üçünün toplam ağırlığı kaç kg'dır?

- A) 99 kg B) 98 kg C) 97 kg




12)



Şakir terazide ağırlığı verilen karpuzdan **4 tane** alırsa kaç kg karpuz satın almış olur?

- A) 32 kg B) 28 kg C) 24 kg

13) Aşağıdakilerden hangisini kilogram ile ölçmeyiz?

- A)  Süt B)  Un C)  Peynir

14)



Yukarıda verilen teraziler dengede durduğuna göre karpuz ile kavunun ağırlıkları **toplamı** kaç kilogramdır?

- A) 5 kg B) 8 kg C) 9 kg

15)



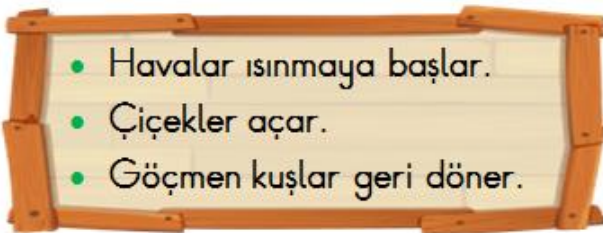
Yukarıda verilen terazinin dengede durabilmesi için **sağ kefesine** kaç kilogram ağırlık konulması gerekir?

- A) 5 kg B) 4 kg C) 3 kg

16) Dünya'nın şekli aşağıdaki görsellerden hangisine **benzemektedir**?



17)



Yukarıda **hangi mevsimin** özellikleri verilmiştir?

- A) Sonbahar B) İlkbahar C) Yaz

18)



Dünya'nın kendi etrafında dönmesiyle ve oluşur.

Yukarıdaki boşluklara **sırasıyla** hangi ikili gelmelidir?

- A) gece - mevsimler B) gündüz - yıl
C) gece - gündüz

19)



Dünya'nın Güneş'in etrafında tam bir tur dolanması sonucunda aşağıdakilerden hangisi **oluşmamaktadır**?

- A) 1 Gün B) 1 Yıl C) Mevsimler

20)



Sonbahar mevsiminin ayları hangi şıkta **doğru** olarak verilmiştir?

- A) Ekim - Kasım - Aralık
B) Eylül - Ekim - Ocak
C) Eylül - Ekim - Kasım

Cevap Anahtarı

- 1)C 2)B 3)B 4)A 5)C
6)B 7)A 8)B 9)C 10)B
11)B 12)A 13)A 14)C 15)A
16)C 17)B 18)C 19)A 20)C