



RÜZGÂR İLE GÜNEŞ

Rüzgâr ve Güneş kimin daha güçlü olduğunu tartışıyorlarmış. Rüzgâr:

- Ben daha güçlü olduğumu kanıtlayacağım. Şu karşıdaki paltolu yaşlı adamı görüyor musun? Paltosunu senden daha hızlı çıkaracağıma bahse girerim demiş.

Güneş bir bulutun arkasına çekilmiş ve Rüzgâr kasırga şiddetinde esmeye başlamış. O kuvvetle estikçe ihtiyar adam paltosuna daha sıkı sarılıyormuş. Sonunda Rüzgâr pes edip durmuş. Güneş bulutların arkasından çıkıp yaşlı adama nazikçe gülümsemiş. Çok geçmeden adam alnındaki teri silip paltosunu çıkarmış.

Sonra, Rüzgâr'a dönmüş nazik ve dostça davranışın, şiddet ve güç gösterisinden daha etkili olduğunu söylemiş.

Not: İlk 3 soruyu metne göre cevaplayınız.

1) Rüzgâr, kasırga şiddetinde kuvvetle esmeye başlayınca ihtiyar adam ne yapmış?

- A) İhtiyar adam, paltosunu çıkarmış.
- B) İhtiyar adam çok terlemiştir.
- C) İhtiyar adam, paltosuna daha sıkı sarılmıştır.

2) Güneş bulutların arkasından çıkıp yaşlı adama nazikçe gülümseyince yaşlı adam ne yapmıştır?

- A) Paltosuna sıkıca sarılmıştır.
- B) Alnındaki teri silerek paltosunu çıkarmıştır.
- C) Rüzgârın esmesini beklemiştir.

3) Metnin ana fikri nedir?

- A) Kazanamayacağımız bahse girmemeliyiz.
- B) Her zaman güçlü olan kazanır.
- C) Dostluk, tatlı dil, iyi niyet her zaman en kuvvetli anahtardır.

4) Aşağıdaki varlıklardan hangisinin adı sözlükte daha önce gelmektedir?






5)






Hangi hayvanın tuttuğu tabelada yazan kelime "iki sesli - dört sessiz" harf yoktur?

- A) İnek
- B) At
- C) Maymun

10, 11 ve 12. soruları aşağıda verilen nesne grafiğine göre cevaplayınız.

- 6)  Arabalar geçti caddeden
 Yandı sokağın lambası
 Kapının önünde oynadık

Yukarıdaki cümlelerin hangisi **anlamli ve kurallı** bir cümledir?

- A)  B)  C) 

7) Aşağıdaki cümlelerin hangisinde **yazım yanlış** vardır?

- A) Yağmur mu yağıyor şimdi?
B) Havada kuşlar mı uçuyor?
C) Çokmu yorgunsun?

8) Karıncadan örnek aldım.
Paramı kumbaraya attım.
Biriktirirsek para,
Düşmeyiz dara.



Özge'nin **şiiirinin konusu** nedir?

- A) Tasarruf B) Para C) Kumbara

9) Sevilen Mevsimlerin Çetele Tablosu

| Mevsimler | Öğrenci Sayısı |
|-----------|----------------|
| Sonbahar | IIII |
| Kış | HHH |
| İlkbahar | HHH III |
| Yaz | HHH II |

Yukarıda verilen çetele tablosunda **kış ve yaz mevsimi** seven öğrenci sayısı kaçtır?

- A) 9 B) 11 C) 12

2/A Sınıfı En Sevilen Çizgi Film Kahramanları Tablosu

| Çizgi Film Kahramanları | Öğrenci Sayısı |
|-------------------------|---|
| Keloğlan |  |
| Elif'in düşleri |  |
| Arı Maya |  |
| Kral Şakir |  |

NOT: Her şekil 2 öğrenciyi göstermektedir.

10) En çok sevilen çizgi film hangisidir?

- A) Kral Şakir B) Arı Maya C) Keloğlan

11) En çok sevilen çizgi film kahramanı ile en az sevilen çizgi film kahramanının **farkı** kaçtır?

- A) 6 B) 4 C) 2

12) 2/A sınıfta toplam kaç öğrenci vardır?

- A) 24 B) 22 C) 20

13)



Rapunzel'in 70 TL parası vardır. Elbiseyi alabilmesi için kaç TL'ye daha ihtiyacı vardır?

- A) 30 TL B) 25 TL C) 15 TL

14) 3 tanesi 18 TL olan kalemlerden, 2 tane alırsak kaç TL para ödememiz gerekir?

- A) 18 TL B) 16 TL C) 12 TL

15)



2 tavuk ve 1 balık almak isteyen Hayri'nin kaç TL para ödemesi gerekmektedir?

- A) 65 TL B) 55 TL C) 40 TL

16)





1. Su 2. Toprak
3. Isı ve ışık 4. Hava


Hangileri papatya bitkisinin yaşaması için gereklidir?

- A) 1 ve 2 B) 1,2,4 C) 1,2,3,4

17) Aşağıda öğrencilerden hangisinin söylediği bilgi yanlıştır?

A)  Bitkiler, insanların ve bazı hayvanların besin kaynağıdır.


B)  Bitkiler olmasa da tüm canlılar yaşayabilir.

C)  Bütün canlılar beslenmek ve solunum yapmak zorundadır.

18) Aşağıdaki ifadelerden hangisi doğrudur?

- A) Evde bitki ve hayvan beslemek sorumluluk gerektirmez.
B) Evde yabancı hayvan besleyebiliriz.
C) Evde hayvan beslemek için ailemizden izin almalıyız.


19)



Yukarıda verilen tohumun çimlenme aşamaları **sırasıyla** aşağıdaki hangi seçenekte doğru olarak verilmiştir?

- A) 2-1-3-4 B) 2-4-1-3
C) 2-4-3-1

20) Aşağıda verilen hayvanların hangisinin beslenme şekli diğerlerinden farklıdır?



Cevap Anahtarı

1)C 2)B 3)C 4)B 5)A
6)A 7)C 8)A 9)C 10)A
11)B 12)A 13)B 14)C 15)A
16)C 17)B 18)C 19)B 20)A