

## AÇLIK

Nasrettin Hoca, Akşehir'den Konya'ya giderken yol üstündeki köyde, bir köylüye konuk olmuş. Yatma zamanı gelince adam:

- "Hoca efendi, uykusuz mu yoksa susuz musun?" diye sormuş.

Adamın yemekten söz etmediğini gören Hoca, hiç bozuntuya vermeden şöyle demiş:

- "Buraya gelirken, pınar başında bir güzel uyumuştum."

1. soruyu üstteki metne göre yanıtlayınız.

1) Üstteki fıkranın **konusu** aşağıdakilerden hangisidir?

- A) Nasrettin Hoca'nın kibirli davranması
- B) İsraf etmenin toplumsal sonuçları
- C) Hoca'nın isteğini kurnazca anlatması
- D) Milli kültürümüzün çeşitliliği

2) Aşağıdaki görsellerden hangisinin ismi sesteş (**eş sesli**) değildir?



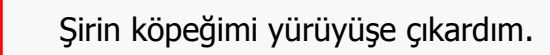
3)  satır  sarık  
 sarı  sarma

Her biri **harf** ile eşleşen kelimeler alfabetik sıralanırsa harfler hangi kelimeyi oluşturur?

- A) AMEL
- B) ELMA
- C) MEAL
- D) ALEM

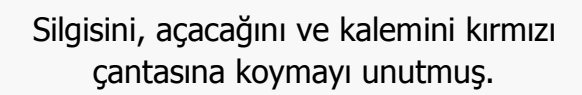
4) Aşağıdaki cümlelerden hangisinde **neden – sonuç** ilişkisi yoktur?

- A) Şarjım olmadığı için seni arayamadım.
- B) Söz versen de sana güvenemiyorum.
- C) Bana küstüğünden dolayı gelmeyecek.
- D) Sel olduğu için evden çıkamıyoruz.

5)  Şirin köpeğimi yürüyüşe çıkardım.

Yukarıdaki cümlede **varlığın özelliğini** belirten kelime aşağıdakilerden hangisidir?

- A) çıkardım
- B) yürüyüşe
- C) köpeğimi
- D) şirin

6)  Silgisini, açacağı ve kalemını kırmızı çantasına koymayı unutmuş.

Yukarıdaki cümlede, aşağıdaki varlıklardan hangisinin **özelligi** belirtilmiştir?

- A) 
- B) 
- C) 
- D) 

7) Aşağıdaki cümlelerin hangisinde **mecaz anlamda** kullanılmış bir sözcük yoktur?


- A) Dayım hep işlerini ağırdan alır.
- B) Hastaneye gidip dişimi çektirdim.
- C) Teyzemim yaptığı pastalara bayılıyorum.
- D) Zaman geçtikçe sohbet koyulaştı.

8) 
$$\begin{array}{r} 406 \\ - 247 \\ \hline \end{array}$$
 Yandaki **işlemden** sayıları en yakın yüzlüğe yuvarlayarak sonucu **tahmin** edeceğiz.  
 Buna göre **gerçek** sonuç ile **tahmini** sonuç arasındaki fark kaçtır?

- A) 41
- B) 59
- C) 23
- D) 7

9) Bahçesinden çıkan **252 kg** domatesin  $\frac{2}{7}$ 'sini komşusuna veren **İsa**, kalan domatesleri kardeşiyle eşit olarak paylaştı. **İsa**'ya kaç kg domates kaldı?

- A) 100 kg                      B) 90 kg  
C) 80 kg                        D) 70 kg

10)  **İpek**'in saat **13.30**'da gitar kursu başlamış ve kurs **150** dakika sonra bitmiştir. Buna göre, **İpek**'in kursu saat kaçta bitti?


- A) 15.00                        B) 15.30  
C) 16.00                        D) 16.30

11)  Yandaki **yapı** oluşturulurken kaç eş **küp** kullanılmıştır?

- A) 8 küp                        B) 9 küp  
C) 10 küp                      D) 11 küp

12) Aşağıdaki kenar uzunluklarından hangileri **ikizkenar** bir üçgene ait olamaz?


- A) 4cm - 5cm - 4cm      B) 6cm - 6cm - 8cm  
C) 3cm - 7cm - 7cm      D) 9cm - 5cm - 6cm

13)  Yandaki **açının** çeşidi aşağıdakilerden hangisidir?

- A) dar açı                        B) dik açı  
C) doğru açı                    D) geniş açı

14) Aşağıdaki uzunluklardan hangisi daha küçük bir **ölçme birimiyle** ölçülür?

- A) halının boyu              B) kalemin kalınlığı  
C) bahçe uzunluğu        D) duvar uzunluğu

15)  **Ömer** **480** metrelik yolun önce yarısını, ardından kalan yolun çeyreğini yürümüştür.

Buna göre **Ömer**'in yürüyeceği kaç **metre** yol kalmıştır?

- A) 240 m                        B) 200 m  
C) 180 m                        D) 150 m

16) **I.** Evimizde led ampul yerine akkor ampul kullanmalıyız.

**II.** E sınıfı enerji tüketimine sahip olan beyaz eşyaları tercih etmeliyiz.

**III.** Diş fırçalarırken musluğu kapatmalıyız.

**IV.** Kullanılmayan elektrikli aletlerin fişlerini prizden çıkarmalıyız.

Yukarıdaki ifadelerden hangileri **tasarruf** içermektedir?

- A) **III** ve **IV**                    B) **I** ve **II**  
C) **II** ve **IV**                    D) **I** ve **III**

17) Aşağıdaki ifadelerden hangisi **doğrudur**?

A) Kullandığımız kaynaklar sınırsızdır.

B) Kalitesiz mal ve hizmetleri uygun fiyata almaya çalışmalıyız.

C) Çöp olmayan atıkları geri dönüşüme ulaştırmalıyız.

D) Sifonu kullanırken amacı dışında fazla su kullanmalıyız.

18)  Fidan dikmeyi ve çiçek yetiştirmeyi çok seviyorum.

Yukarıdaki ifadeye göre **İlknur**'un hangi sosyal kulübün faaliyetlerine katılması daha uygundur?

- A) Müzik Kulübü              B) Çevre Koruma Kulübü  
C) Resim Kulübü              D) Satranç Kulübü

# CEVAP ANAHTARI

- |      |       |
|------|-------|
| 1) C | 10) C |
| 2) D | 11) A |
| 3) A | 12) D |
| 4) B | 13) D |
| 5) D | 14) B |
| 6) C | 15) C |
| 7) B | 16) A |
| 8) A | 17) C |
| 9) B | 18) B |