





1) **Teknoloji** ile ilgili aşağıdaki ifadelerden hangisi **yanlıştır**?


- A) Teknolojik ürünler gözlerimize zarar verebilir.  
 B) Teknolojik ürünlerin bilinen bir zararı yoktur.  
 C) Teknoloji arkadaşlık ilişkilerimizi olumsuz etkileyebilir.  
 D) Teknolojik ürünler doğaya zarar verebilir.

2) Aşağıdaki çocuklardan hangisinin ifadesi **yanlıştır**?

- A)  İnsanların sosyal ve kültürel ihtiyaçları vardır.  
 B)  Elde edilecek fayda için harcanan paraya maliyet denir.  
 C)  İstekler insan hayatı için olmazsa olmazdır.  
 D)  İhtiyaçlar giderilmediğinde hayati sorunlar yaşanabilir.

3) Aşağıdakilerden hangisi temel ihtiyaçlardan biri **değildir**?

- A) Giyinme                      B) Barınma  
 C) Beslenme                    D) Bilgisayar

4)  Ben ve ailem, çiftçilik yaparak geçimimizi sağlıyoruz.

Buna göre Ali'nin ailesi hangi **kaynağı** daha çok kullanmaktadır?

- A) Sanayi                        B) Maden  
 C) Toprak                        D) Deniz

5) Aşağıdakilerden hangisi ekonomik bir faaliyet **değildir**?

- A) Dayanışma                  B) Hayvancılık  
 C) Turizm                        D) Balıkçılık


6) Aşağıdakilerden hangisi **bilinçli tüketici** davranışı **değildir**?

- A) Aynı kalitede olan iki üründen pahalı olanı tercih etmek  
 B) Alışverişlerden sonra fiş ve fatura almaya özen göstermek  
 C) Ambalajlı gıdaların "içindekiler" bölümüne dikkat etmek  
 D) Markete gitmeden önce bir alışveriş listesi hazırlamak

7)  Ülkemizde ambalajlı gıdalar ..... Bakanlığının izniyle üretilmektedir.

Üstteki noktalı alana aşağıdakilerden hangisi **gelmelidir**?

- A) Ticaret                        B) Tarım ve Orman  
 C) Sağlık                         D) Milli Eğitim

8)  Aile bütçemize katkıda bulunmak istiyorum.

**Burcu**, aşağıdakilerden hangisini yaparak **aile bütçesine** katkıda bulunabilir?

- A) İsteklerine daha çok değer vererek  
 B) Her teneffüs kantinden bir şey alarak  
 C) Kaynakları gereksiz yere kullanarak  
 D) Giyim eşyalarını özenli kullanarak


9) Çocuk Hakları Sözleşmesi'ne göre ..... yaşından küçük her insan çocuktur.

**Noktalı** alana hangisi **gelmelidir**?

- A) 18                                B) 17  
 C) 16                                D) 15


10) Aşağıdakilerden hangisi **ülkemize** karşı sorumluluklarımızdan biridir?

- A) Aile bütçesine katkı sağlamak  
B) Anne ve babanın sözünü dinlemek  
C) Kamu mallarını korumak  
D) Ev işlerine yardımcı olmak

11)  Fidan dikmeyi ve çiçek yetiştirmeyi çok seviyorum.

Yukarıdaki ifadeye göre **Merve**'nin hangi sosyal kulübün faaliyetlerine katılması daha uygundur?

- A) Müzik Kulübü B) Çevre Koruma Kulübü  
C) Resim Kulübü D) Satranç Kulübü

12)  Doğal afetlerde yardımlaşma ve dayanışmanın önemini arkadaşlarıma anlatmak istiyorum.

Yukarıdaki ifadeye göre **Serap**'ın hangi sosyal kulübün faaliyetlerine katılması daha uygundur?

- A) Gezi Kulübü B) Zekâ Oyunları Kulübü  
C) Spor Kulübü D) Kızılay Kulübü

13) **I.** Atatürk'e göre özgürlüğe kavuşabilmenin yolu bağımsızlıktan geçiyordu.

**II.** 23 Nisan 1920 tarihe "Demokrasi ve Millî Birlik Günü" olarak geçmiştir.

**III.** 23 Nisan Çocuk Bayramı, dünyada çocuklara armağan edilen ilk bayramdır.

**IV.** Meclisimiz 8 Şubat 2021 tarihinde Türkiye Büyük Millet Meclisi adını aldı.

Yukarıdaki ifadelerden hangileri **doğrudur**?

- A) **II** ve **IV** B) **I** ve **II**  
C) **I** ve **III** D) **III** ve **IV**

14) **Kıtalar**, etrafı denizler ve okyanuslarla çevrili büyük kara parçalarıdır. Dünyada **7 tane** kıta vardır.

Aşağıdakilerden hangisi bu **7 kıtadan** biridir?

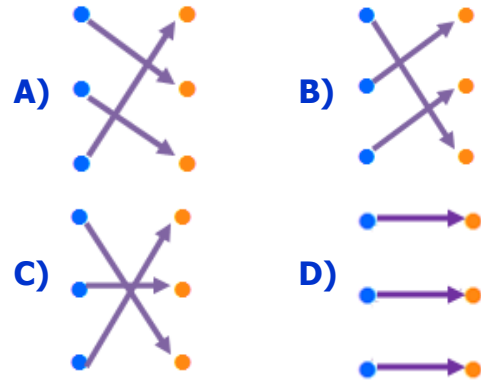
- A) Almanya B) Avrupa  
C) Azerbaycan D) Arjantin

15) Aşağıdaki ülkelerden hangisi **Türkiye'nin** sınır komşularından biri **değildir**?

- A) Ermenistan B) Suriye  
C) Gürcistan D) Özbekistan

Yunanistan	●	●	Habur
Gürcistan	●	●	İpsala
Irak	●	●	Sarp

Üstteki **ülkeler** ve sınır kapılarını eşleştiresek nasıl bir görüntü oluşur?



17)  **Hamburger** hangi ülkenin meşhur yiyeceğidir?

- A) Fransa B) Rusya  
C) ABD D) Çin

# CEVAP ANAHTARI

- |      |       |
|------|-------|
| 1) B | 10) C |
| 2) C | 11) B |
| 3) D | 12) D |
| 4) C | 13) C |
| 5) A | 14) B |
| 6) A | 15) D |
| 7) B | 16) A |
| 8) D | 17) C |
| 9) A |       |