

1) "Yaş" kelimesi aşağıdaki cümlelerden hangisinde farklı bir anlamda kullanılmıştır?

- A) Koltuğun yaş olduğunu hissettim.  
 B) Ablam benden beş yaş büyüktür.  
 C) Yaş olan zeminde ayağı kaydı.  
 D) Çimler yaş olduğu için oturamadık.


2) Aşağıdaki cümlelerden hangisinde "-de" **yanlış** kullanılmıştır?

- A) Annesi Sinan'ı evde bulamamış.  
 B) Cüzdanını arabada unutmuşsun.  
 C) Benim aklım mavi elbise de kaldı.  
 D) Ayhan da bizimle gelecek mi?

3) Ben gurbette çalıştım( ) sen ise gününü gün ettin( ) Yazıklar olsun( )

Cümlelerde **parantez** içlerine sırasıyla hangi **noktalama** işaretleri gelmelidir?

- A) (.) (.) (?)      B) (,) (,) (.)  
 C) (.) (.) (!)      D) (,) (.) (!)

4)  Yeni bir elbise almak istiyorum

Üstteki **cümle** hangi ifade ile devam ederse, bizi farklı düşünmeye yönlendirmez?

- A) ama yeterince param yok.  
 B) fakat annem izin vermiyor.  
 C) bunu sen de biliyorsun.  
 D) lakin babamı ikna edemiyorum.

5) Aşağıdaki kelimelerden hangisinin **sesteşi** (eş sesli) **vardır**?

- A) satır      B) makine  
 C) süpürge      D) poşet

6) Aşağıdaki atasözlerinden hangisi "İnsanın çevresinden etkilenmesi, onlara benzemesi" anlamını **taşımaz**?

- A) Bağa bak üzüm olsun, yemeye yüzün olsun.  
 B) Topalla gezen aksamak öğrenir.  
 C) Üzüm üzüme baka baka kararır.  
 D) İsin yanına varan is, misin yanına varan mis kokar.

7) "Dinazorların uzayda yaşadığıyla ilgili bilgi **yalnıştır.**" **cümlesinde** kaç kelimenin yazımında **hata** yapılmıştır?

- A) 1      B) 2  
 C) 3      D) 4

8) Onlar apartmanın beşinci katında oturuyorlar.


Yukarıdaki cümlede **varlığın özelliğini** belirten kelime aşağıdakilerden hangisidir?

- A) katında      B) onlar  
 C) apartmanın      D) beşinci

9) 

Örüntüde verilmeyen sayının **çeyreği** kaçtır?


- A) 50      B) 100  
 C) 150      D) 200

10)  175 sayfalık kitabın  $\frac{3}{5}$ 'ünü okudum. Geriye okunacak kaç sayfa **kaldı**?


- A) 35      B) 50  
 C) 70      D) 105

- 11)  İki kenar uzunluğu verilen **dikdörtgenin** çevre uzunluğu ve alanı hangi şıkta sırayla doğru olarak verilmiştir?


A)  $13 \text{ cm} - 20 \text{ cm}^2$  B)  $26 \text{ cm} - 40 \text{ cm}^2$   
C)  $13 \text{ cm} - 40 \text{ cm}^2$  D)  $26 \text{ cm} - 80 \text{ cm}^2$

- 12)  Yandaki şişenin içinde **120** tane hap vardır. Hapların her biri **25 mg** ise şişede kaç **gram** hap vardır?


A) 12 g B) 9 g  
C) 6 g D) 3 g

- 13)  **Fatih** ilk gün **1 km 520 m**, ikinci gün ilk gün yürüdüğü mesafeden **640 m** daha az yürüdü. **Fatih** iki günde kaç **m** yürümüştür?

A) 1900 m B) 2100 m  
C) 2400 m D) 2600 m

- 14)  4 **litre** çorbayı 5 kişiye eşit olarak paylaşırsak, 2 kişiye kaç **mL** çorba vermiş oluruz?

A) 800 mL B) 1600 mL  
C) 2400 mL D) 3200 mL

- 15)  Bozuk bir musluk dakikada **40 mL** su damlatıyor. Bu musluk **2** saatte toplam kaç **L** su damlatır?

A) 2400 mL B) 3600 mL  
C) 4000 mL D) 4800 mL

- 16) Aşağıdaki **cümlelerden** hangisi doğru değildir?

A) Duy kullanmadan basit bir elektrik devresi oluşturamayız.  
B) Santrallerde üretilen elektrik, kablolar sayesinde evlere ulaşır.  
C) Ampul, elektrik enerjisini ışık enerjisine dönüştürür.  
D) Bir elektrik devresinde anahtar açık ise ampul ışık vermez.

- 17)  Doğadaki kaynaklar sınırsızdır.  
 Atık plastikler geri kazanılamaz.  
 Kâğıdın geri dönüşümü, ağaçları korur.

Yukarıdaki bilgilerden doğru olana **D**, yanlış olana **Y** yazarsak nasıl bir görüntü oluşur?

Y	Y	Y	D
A) D	B) D	C) Y	D) Y
D	Y	D	Y

- 18)  Bu ülkede erkekler, ulusal ve özel günlerde "**kilt**" adı verilen eteği giyerler.

Üstteki giyim kültürü hangi **ülkeye** aittir?

A) İtalya B) İzlanda  
C) İran D) İskoçya

- 19)  **Boğa güreşi** hangi ülkenin milli sporudur?

A) Brezilya B) İspanya  
C) Çin D) Portekiz

# CEVAP ANAHTARI

- |      |       |
|------|-------|
| 1) B | 10) C |
| 2) C | 11) B |
| 3) D | 12) D |
| 4) C | 13) C |
| 5) A | 14) B |
| 6) A | 15) D |
| 7) B | 16) A |
| 8) D | 17) C |
| 9) A | 18) D |
|      | 19) B |