

1) Fabrikadaki işçiler çok güç şartlarda çalışıyorlar.

Yukarıdaki cümlede altı çizili kelime yerine hangi kelime getirilirse cümlenin anlamı bozulmaz?

- A) kuvvet B) zor C) kötü

2) Aşağıdaki atasözlerinden hangisi sağlıklı ilgili **değildir**?

- A) Dost kara günde belli olur.
B) Can boğazdan gelir.
C) Güneş girmeyen eve doktor girer.

3) Çok kar yağdığı köy yolları kapanmış.

Yukarıdaki cümlede noktalı yere aşağıdaki kelimelerden hangisi yazılmalıdır?

- A) bu yüzden B) için C) fakat

4) Yaren bilgisayarda çok zaman geçirmiş. başı ağrımış.

Yukarıdaki cümlede noktalı yere aşağıdaki hangisi yazılmalıdır?

- A) bu nedenle B) ama C) çünkü

5) Öğretmen telefonla annemi aradı. karnım çok ağrıyordu.

Yukarıdaki cümlede noktalı yere aşağıdaki hangisi yazılmalıdır?

- A) fakat B) bu yüzden C) çünkü

6) Yandaki şekil aşağıdakilerden hangisidir?



- A) ışın B) açı C) doğru

7) Aşağıdaki harflerin hangisinde açı **yoktur**?

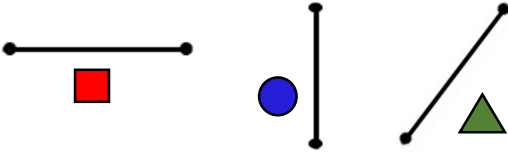
- A) **K** B) **C** C) **N**

8) Yandaki saatte akrep ile yelkovan arasındaki aralık aşağıdakilerden hangisine örnektir?






- A) doğru parçası
B) ışın
C) açı

9)



Yukarıdakilerden hangisi dikey doğru parçasıdır?

- A)  B)  C) 


10) I - Doğru






II - Doğru parçası



III- Işın



Yukarıda verilenler arasında doğru eşleştirme yapılırsa aşağıdakilerden hangisi **yanlış** olur?

- A) I -  B) II -  C) III - 

11) Aşağıdakilerden hangisi Atatürk'ün kişilik özelliklerinden biri değildir?

- A) Vatanını ve milletini severdi.
B) Çalışkandı.
C) Kendine güveni azdı.

12)

Atatürk zorluklar karşısında pes etmezdi.

Yukarıdaki ifade Atatürk'ün daha çok hangi özelliği ile ilgilidir?

- A) Planlı oluşu B) Cesur oluşu
C) Zeki oluşu

13) Atatürk çok acele karar verirdi.

Atatürk hep barıştan yanaydı.

Yukarıdaki ifadelerle ilgili aşağıdakilerden hangisi doğrudur?

- A) İkisi de doğru
B) yanlış , doğru
C) doğru , yanlış

14) Aşağıdakilerden hangisi Atatürk'ün kişilik özelliklerinden biridir?

- A) Önemli konularda arkadaşlarının fikirlerini almazdı.
B) Kararları hep tek başına alırdı.
C) İleri görüşlü bir liderdi.

15) Yandaki resim

Atatürk'ün hangi özelliğiyle ilgilidir?



- A) Eğitime önem vermesi
B) Tarıma önem vermesi
C) Sanayiye önem vermesi

16) Aşağıdakilerden hangisi ısınmak amacıyla kullanılan elektrikli bir araçtır?

- A) Fırın B) Kombi C) Su ısıtıcısı

17) Aşağıdakilerden hangisi elektrikle çalışan bir eşya **değildir**?

A)



B)



C)



18) Aşağıdakilerden hangisi daha çok okullarda kullanılan elektrikli bir araçtır?

A)



B)



C)



19) I – Fırın

II – Televizyon

III – Tost makinesi

Yukarıdaki araçlardan hangisi diğerlerinden farklı bir amaç için kullanılır?

A) I

B) III

C) II

20) Aşağıdakilerden hangisi yanlıştır?

- A) Elektriğin kesilmesi günlük yaşantımızı olumsuz etkilemez.
- B) Elektrikli araçlar hayatımızı kolaylaştırır.
- C) Elektrikle çalışan bazı aletleri aydınlanma amacıyla kullanırız.

CEVAP ANAHTARI

TÜRKÇE	MATEMATİK	HAYAT BİL.	FEN BİLİM.
1) B	6) A	11) C	16) B
2) A	7) B	12) B	17) C
3) B	8) C	13) B	18) A
4) A	9) C	14) C	19) C
5) C	10) A	15) A	20) A