





VERİ TOPLAMA

1.Etkinlik: Tabloyu inceleyelim. Soruları tabloya göre cevaplayalım.

Küresteki Hayvanlar Tablosu			
Hayvanlar			
Sayısı	3	12	5

Küreste tane  var.

Küreste tane  var.

Küreste tane  var.

Küreste en fazla hangi hayvan vardır?

Küreste en az hangi hayvan vardır?

Küreste toplam kaç hayvan vardır?

Tavuklar hindilerden kaç tane fazladır?



2.Etkinlik: Tabloyu inceleyelim. Soruları tabloya göre cevaplayalım.

Sebzelikteki Sebzeler Tablosu			
Sebzeler			
Sayısı	5	6	9

Sebzelikte tane  var.

Sebzelikte tane  var.


Sebzelikte tane  var.

Sebzelikte en fazla hangi sebze var?




Sebzelikte en az hangi sebze var?

Sebzelikte toplam kaç sebze var?

Domatesler salatalıktan kaç tane fazladır?



3.Etkinlik: Tabloyu inceleyelim. Soruları tabloya göre cevaplayalım.

Kitaplıktaki Kitaplar Tablosu			
Kitaplar			
Sayısı	7	2	10

Kitaplıkta tane  var.

Kitaplıkta tane  var.

Kitaplıkta tane  var.

Kitaplıkta en fazla hangi kitap var?

Kitaplıkta en az hangi kitap var?

Kitaplıkta toplam kaç kitap var?

Hikaye kitapları şiir kitaplarından kaç fazladır?

