

3. SINIF

30. HAFTA KAZANIM DEĞERLENDİRME

Okulların kapanmasına bir hafta kala Sare'nin okulunda bir yarışma düzenleniyordu. Yarışmanın adı "En Güzel Kek Yarışması" idi.

Sare, annesi Derya Hanım ve babası Süleyman Bey ile mutfağa girmiş, onların söylediklerini bir bir uygulayarak hazırlamış olduğu keki fırına vermişti.

Sare'nin keki meyveli bir kekti. İçinde şeftali, elma ve incir vardı. Fırından mis gibi kokular geliyordu.

Yarışma günü jürinin en beğendiği kek, Sare'nin keki olmuştu. Jüri bütün keki yiyip bitirmişti ama tadına doyamamıştı. Eve döner dönmez Sare yine aynı kekten yaptı ve ailecek Sare'nin birinciliğini kutladılar.

İlk 3 soru metne göre cevaplandırılacaktır.

1. Sare'nin okulunda ne yarışması düzenleniyormuş?

- A) En güzel pasta yarışması
B) En güzel kek yarışması
C) En güzel poğaça yarışması

2. Aşağıdakilerden hangisi Sare'nin kekinde yer alan malzemelerden biri değildir?

- A)  B)  C) 

3. Yukarıda okuduğunuz metnin türü nedir?

- A) şiir B) fıkra C) hikaye

4. Bir metin türü olan şiirle ilgili aşağıdaki bilgilerden hangisi yanlıştır?

- A) Şiirdeki her bir satıra kıta denir.
B) Şiir yazan kişiye şair denir.
C) Şiirin her mısrası büyük harfle başlar.

5. Yandaki şiirin ana duygusu nedir?

- A) Sağlığın önemi
B) Anne sevgisi
C) Eğitimin önemi



Her annenin var değeri,
Kalbimizde onun yeri.
Sevgisinin sonu yoktur,
Annelerin hakkı çoktur.

Ali Osman ATAĞ




6. Sınıftaki tahtanın uzunluğunu ölçmek isteyen bir öğrenci, hangi standart olmayan ölçü birimini kullanmalıdır?

- A)  B)  C) 

7. Filiz'in boyu 135 cm'dir. Burcu'nun boyu ise Filiz'den 8 cm kısadır. Burcunun boyu kaç cm'dir?

- A) 125 cm B) 126 cm C) 127 cm

8. Aşağıdaki varlıklardan hangisinin boyu santimetre ile ölçülmelidir?


- A)  B)  C) 

9.

- 178 cm = 1 m 78 cm
- 800 cm = 8 m
- 3 m = 3000 cm
- 2 m 50 cm = 250 cm
- 505 cm = 5 m 50 cm
- 4 m 1 cm = 410 cm




Yukarıdaki metre santimetre dönüşümlerinden kaç tanesi yanlıştır?

- A) 3 B) 4 C) 5



DİKKAT SORUSU

10. Üç arkadaş yukarıdaki bahçe çitini adımlayarak ölçüyor. Ölçüm sonuçlarına göre hangi öğrencinin adım boyu daha kısadır?

- A)  25 adım
B)  27 adım
C)  26 adım



11. Aşağıdaki kişilik özelliklerinden hangisi Mustafa Kemal Atatürk'e ait bir özellik değildir?

- A) İleri görüşlülük
- B) Açık sözlülük
- C) Bencillik



12. Atatürk'ün "Yurtta sulh, cihanda sulh." sözleri onun hangi kişilik özelliğini yanstır?

- A) Barışseverlik
- B) Liderlik
- C) İdealistlik

13. Atatürk, TBMM'nin açılışını bugünün küçükleri, yarının büyüklerine armağan etmiştir.

Yukarıda bahsedilen 23 Nisan Ulusal Egemenlik Bayramı, Atatürk'ün hangi kişilik özelliği ile ilgilidir?

- A) Sanata verdiği değer
- B) Çocuk sevgisi
- C) Açık sözlülük


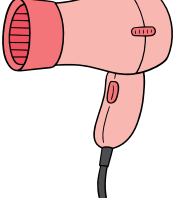

14. Atatürk, inandırıcılığı sayesinde Türk milletinin güvenini kazanmıştır. Bu sayede aşağıdakilerden hangisi gerçekleşmiştir?

- A) Kurtuluş savaşı kazanılmıştır.
- B) Ülkenin sınırları küçülmüştür.
- C) Sportif faaliyetler gelişmiştir.

15. Atatürk 1 Kasım 1928'de yeni harflerin kabulünden sonra halkı okuryazar kılmak amacıyla dört ay süreli eğitim veren halk eğitimi kurumları olan Millet Mektepleri'ni açmıştır. Bu olay Atatürk'ün hangi özelliğini gösterir?

- A) Hukuk alanına verdiği önemi
- B) Tarih bilincine verdiği değeri
- C) Eğitim-öğretime verdiği önemi

16. Aşağıdakilerden hangisi elektrikle çalışan bir araç gereç değildir?

- A) 
- B) 
- C) 

17. "Elektrikli otomobiller alanında kullanılır." cümlesinde boş bırakılan yere hangisi gelmelidir?




- A) ulaşım
- B) aydınlatma
- C) temizlik




18. Verilen ifadelerden yanlış olan hangisidir?

- A) Elektrik insan hayatını kolaylaştırır.
- B) Çevremizde gördüğümüz tüm araç gereçler elektrikle çalışır.
- C) Elektrik sayesinde çamaşır, bulaşık, temizlik gibi ev işlerini yapmak kolaylaşır.

19. Aşağıdaki elektrikli araç gereçlerden hangisi iletişim alanında kullanılır?

- A) 
- B) 
- C) 



20. Aşağıdakilerden hangisi elektriğin kullanıldığı alanlardan biri değildir?

- A) ısınma
- B) haberleşme
- C) büyüme

CEVAPLAR

- 1 A B C
- 2 A B C
- 3 A B C
- 4 A B C
- 5 A B C
- 6 A B C
- 7 A B C
- 8 A B C
- 9 A B C
- 10 A B C

- 11 A B C
- 12 A B C
- 13 A B C
- 14 A B C
- 15 A B C
- 16 A B C
- 17 A B C
- 18 A B C
- 19 A B C
- 20 A B C

Başarılar dilerim...



30. HAFTA KAZANIM DEĞERLENDİRME CEVAP ANAHTARI

| | |
|----|---|
| 1 | B |
| 2 | C |
| 3 | C |
| 4 | A |
| 5 | B |
| 6 | B |
| 7 | C |
| 8 | C |
| 9 | A |
| 10 | B |

| | |
|----|---|
| 11 | C |
| 12 | A |
| 13 | B |
| 14 | A |
| 15 | C |
| 16 | C |
| 17 | A |
| 18 | B |
| 19 | A |
| 20 | C |

