


# 3. SINIF




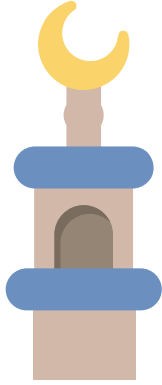
## HAYAT BİLGİSİ DERSİ 33. HAFTA ÇALIŞMA KAĞIDI

- Aşağıda verilen yön bulma tekniklerinin adlarını yazalım.



.....

.....



.....

.....

- Boşlukları uygun kelimeler ile dolduralım.
- Cami minarelerinin kapıları her zaman .....i gösterir
- Güneşin doğduğu yöne sağ kolumuzu uzattığımızda sağ kolumuz ....., sol kolumuz ....., önümüz ....., arkamız .....i gösterir.
- Karıncalar yuvalarının ağzını her zaman ..... yönüne doğru yaparlar.
- Müslüman mezarları her zaman baş tarafı .....yı ayak tarafı .....yu gösterir.
- Kutup yıldızı .....i gösterir.
- Ağaçların ve taşların yosun tutmuş tarafı her zaman kuzeyi gösterir.

