



## TÜRKÇE

Aşağıdaki cümlelerin bize ne bildirdiğini karşısına yazalım.

haber

duygu

düşünce

istek



Jale tüm ödevlerini bitirmiş.

haber

Arkadaşımın her istediği olunca onu çok kıskandım.

Bu kitabı bence çok beğeneceksin.

Okula yürüyerek gidelim.

Sevda'ya bu elbise çok yakışmış

Annem mutfakta kek yapıyor.

Kutuyu birlikte taşıyalım.

Ablam resim yarışmasına katılacak.

Hediye paketini açarken çok heyecanlandım.

Dedeme bir şey olacak diye çok korkuyorum.

Kiraz en güzel meyvedir.

Akşam sen de bize gel.

Yeni aldığım kitabı okudum.

Teyzem çok lezzetli kek yapar.

Çıkıp balkonda biraz oturalım.

Okan'ın yarışmayı kazandığına inanamadım.

Keşke Antalya'ya birlikte gitsek.

Bu yaz futbol kursuna gideceğim

Sınıf kitaplığındaki bu kitabı herkes okumalı.

Babam bahçedeki çiçekleri suladı.











## TEKİL VE ÇOĞUL İSİM







Aşağıda resimleri verilen varlıkların tekil ve çoğul şekillerini cümlede kullanalım.



	..... .....
	..... .....



	..... .....
	..... .....



	..... .....
	..... .....

	..... .....
	..... .....

	..... .....
	..... .....

	..... .....
	..... .....

	..... .....
	..... .....

	..... .....
	..... .....



## MİNE VE GÖKKUŞAĞI

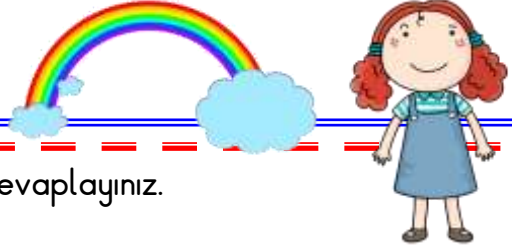
Mine sevimli ve akıllı çocuktur. Bu yıl ilkokul ikinci sınıfta okuyordu. Ailenin tek çocuğu olduğundan her istediği yapıyordu. Kocaman bebekleri, dolaplar dolusu oyuncuğu vardı. Ama bebeklerinden ve oyuncaklarından bıkmıştı. Derslerinden sonra başını ellerinin arasına alıyor, öylece duruyordu. Annesiyle babası onun durumuna çok üzülüyordu.

Küçük kız "Gökkuşağından bir kemer isterim." diye tutturmuştu. Başka bir şey istemiyordu. Günler günleri kovaladı. Küçük Mine yemeyip, içmediği için hastalandı. Öğretmeni , arkadaşları gelip "Vazgeç bu inadından , gökkuşağından kemer olmaz." dediler ama boşuna !

Bir gün evlerine komşuları Hasan dede geldi. Hasan dede Mine hasta olduğu için gelmişti. "Mine! Sana kemer yapmaya geldim. Haydi , bir çanak alıp bahçeye çık. Gökkuşağı tanelerini toplamak senden, ipe dizmek benden." dedi.

Mine şaşırıldı "Nasıl olur? Gökkuşağı taneleri toplanmaz ki . Öğretmenimiz gökkuşağının su buharından oluştuğunu söyledi. " dedi.

Hasan dede , "Demek öyle küçük hanım. Bunu biliyordun da neden gökkuşağından kemer isterim diye tutturdun? " İşte o anda Mine ne kadar büyük bir hata yaptığını anladı. Hemen koşup anne ve babasından özür diledi. Bir daha da olmayacak isteklerle kimseyi üzmedi.



Aşağıdaki soruları metne uygun bir şekilde cevaplayınız.

1. Niçin Mine'nin her istediği yapılmış ?

.....

2. Mine nelerden bıkmış ?

.....

3. Mine derslerden sonra ne yapıyormuş ?

.....

4. Mine ne istiyormuş ?

.....

5. Hasan dede Mine'den ne istemiş?


.....

6. Öğretmenleri ne söylemiş ?

.....

## DÜNYA'NIN ŞEKLİ VE HAREKETLERİ

1. Etkinlik: Dünya'nın şekline benzer olanları işaretleyelim.



2. Etkinlik: Verilen resimlerle olayları ve sonuçlarını ok işaretiyle eşleyelim.



Dünya Güneş çevresinde dolanır.

Gece ve gündüz oluşur ve sırayla birbirini takip eder.



Dünya kendi etrafında döner.

Mevsimler oluşur ve sırayla birbirini takip eder.

3. Etkinlik: Doğru ifadelerin yıldızlarını maviye, yanlış ifadelerin yıldızlarını kırmızıya boyayalım.

- ☆ Dünya Ay'ın etrafında dolanır.
- ☆ Dünya etrafında dönüşünü 24 saatte tamamlar.
- ☆ Bir yılda dört mevsim vardır.
- ☆ Dünya Güneş etrafında dolanışını 1 ayda tamamlar.
- ☆ Dünya'nın kendi etrafında dönmesiyle gece ve gündüz oluşur.
- ☆ Yaz mevsiminde Güneş'in zararlı etkilerinden korunmalıyız.
- ☆ Ağaçlar sonbahar mevsiminde çiçek açar.
- ☆ En soğuk mevsim kış mevsimidir.
- ☆ Güneş Dünya'nın etrafında dolanır.



## TARTMA

1. Etkinlik: Aşağıda verilenlerden hangileri ağırlık (kütle) ölçüm aracıdır? Kutusunu boyyalım.



2. Etkinlik: Aşağıdakilerden hangileri tartılarak alınır? Yıldızını boyyalım.



## TARTMA

1. Etkinlik: Aşağıda verilen ağırlık (kütle) ölçüm sonuçlarını yazınız. Ölçüm sonucuna göre "ağırdır veya hafiftir" ifadelerinden uygun olanını boyayınız.



Muzun ağırlığı .... kg'dır.

Muz , elmadan

ağırdır

hafiftir



Elmanın ağırlığı .... kg'dır.



Unun ağırlığı .... kg'dır.

Karpuz , undan

ağırdır

hafiftir



Karpuzun ağırlığı .... kg'dır.

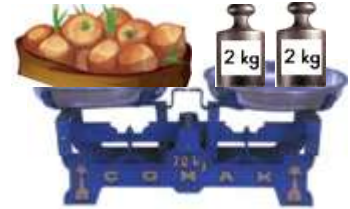


Patatesin ağırlığı .... kg'dır.

Patates , soğandan

ağırdır

hafiftir



Soğanın ağırlığı .... kg'dır.



Tuzun ağırlığı .... kg'dır.

Tuz , pirinçten

ağırdır


hafiftir



Pirinçin ağırlığı .... kg'dır.

## TARTMA

1. Etkinlik: Aşağıda verilen ağırlık (kütle) ölçüm sonuçlarını yazınız.



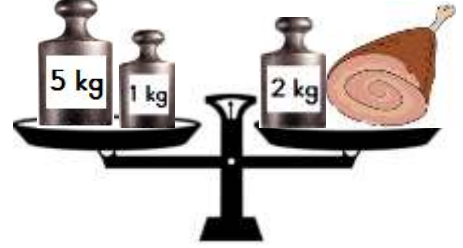
Armudun ağırlığı .... kilogramdır.



Muzun ağırlığı .... kilogramdır.



Şekerin ağırlığı .... kilogramdır.



Etin ağırlığı .... kilogramdır.



Balığın ağırlığı .... kilogramdır.



Soğanın ağırlığı .... kilogramdır.



Domatesin ağırlığı .... kilogramdır.



Çileğin ağırlığı .... kilogramdır.




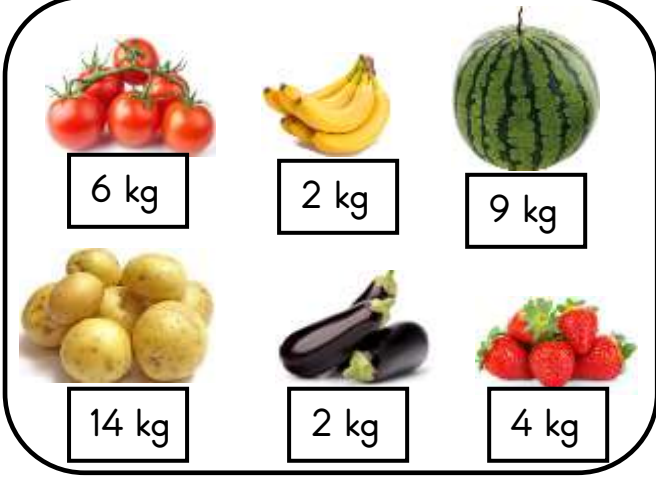
Karpuzun ağırlığı .... kilogramdır.



Pirincin ağırlığı .... kilogramdır.

## TARTMA

1. Etkinlik: Hülya ve Okan kendi babalarıyla birlikte pazardan aşağıdaki sebze ve meyveleri almışlar. Aşağıda verilen ifadelerde noktalı yerleri uygun şekilde doldurunuz . ( ağırdır , hafiftir , eşittir )



- \* Okan'ın aldığı karpuz , Hülya'nın aldığı karpuzdan .....
- \* Hülya'nın aldığı patates , Okan'ın aldığı patatesten .....
- \* İkisinin de aldığı muzun ağırlığı .....
- \* Hülya'nın aldığı patlıcan , Okan'ın aldığı patlıcandan .....
- \* Okan'ın aldığı domates , Hülya'nın aldığı domatesten .....
- \* Okan'ın aldığı çilek , Hülya'nın aldığı çilekten .....
- \* İkisinin de aldığı domates ve çileğin toplam ağırlığı .....
- \* Hülya'nın aldığı patates ve patlıcanın toplamı , Okan'ın aldığı patates ve patlıcanın toplamından .....
- \* Okan'ın aldığı çilek ve muzun toplamı , Hülya'nın aldığı çilek ve muzun toplamından .....
- \* Okan'ın aldığı karpuz ve patatesin toplamı , Hülya'nın aldığı karpuz ve patatesin toplamından .....
- \* Hülya'nın aldığı çilek ve patlıcanın toplamı , Okan'ın aldığı çilek ve patlıcanın toplamından .....



## TARTMA

1. Etkinlik: Aşağıda hayvanların ağırlıkları verilmiştir. Verilenlere göre doğru seçeneği boyayınız.



45 kg



39 kg



48 kg



4 kg



6 kg



64 kg



57 kg



13 kg

\* En ağır hayvan

koç

eşek

\* En hafif hayvan

kedi

horoz

\* Hindi horozdan

ağırdır

hafiftir

\* Keçi koyundan

ağırdır

hafiftir

\* Koç köpekten

ağırdır

hafiftir

\* Horoz kediden

ağırdır

hafiftir

\* Koç eşekten

ağırdır

hafiftir

\* Kedi horozdan

ağırdır

hafiftir

\* Keçi hindiden

ağırdır

hafiftir

\* Eşek koçtan

ağırdır

hafiftir



## TARTMA İLE İLGİLİ PROBLEMLER

1. Babam pazardan 4 kg domates , 2 kg patlıcan ve 3 kg salatalık aldı. Babamların aldıkları toplam kaç kg'dır ?

Çözüm:



2. Tolga 28 kg ağırlığındadır. Can ise Tolga'dan 14 kg daha ağırdır. Canın ağırlığı kaç kg'dır?

Çözüm:



3. Bir manav sabah dükkana 60 kg muz getirmiş. Muzun 28 kg'ını satmış. Geriye kaç kg muz kalmıştır ?

Çözüm:



4. Babamın taşıdığı büyük kutu 42 kg ağırlığındadır. Küçük kutu ise 17 kg daha hafiftir. Küçük kutu kaç kg ağırlığındadır?

Çözüm:



5. Annem çilek reçeli yapmak için bir kilosu 8 lira olan çilekten 4 kg almış. Annem kaç lira ödemiştir ?

Çözüm:



6. Amcam her birinin ağırlığı 7 kg olan 3 tane karpuz almış. Karpuzların toplam ağırlığı kaç kg'dır?

Çözüm:



7. Evimizde bir tanesinin ağırlığı 20 kg olan 2 torba un vardı. Annem onun 23 kilogramını kullanmış. Geriye kaç kilogram un kalmıştır?

Çözüm:



8. Bir bakkal 24 kg toz şekeri 3 kg'lık poşetlere koymuş. Bakkal kaç tane poşet kullanmıştır ?

Çözüm:



## TARTMA İLE İLGİLİ PROBLEMLER

1. Evimizde 14 kg toz şeker vardı. Annem reçel yaparken toz şekerin yarısını kullandı. Annem kaç kg şeker kullandı ?

Çözüm:



2. Pazarcı 74 kg eriğin önce 17 , sonra 29 kg'ını satmış. Geriye kaç kg erik kalmıştır ?

Çözüm:



3. Beyza ile Sevgi'nin ağırlıkları toplamı 63 kg'dır. Beyza 35 kg olduğuna göre Sevgi kaç kg'dır ?

Çözüm:



4. Bir bakkal 28 kg unu 4 kg'lık poşetlere koymuş. Bakkal kaç tane poşet kullanmıştır ?

Çözüm:



5. Bir pastanede tatlı yapmak için her gün 5 kg şeker kullanılıyor. Bir haftada kaç kg şeker kullanılır ?

Çözüm:



6. Her birinde 18 kg domates olan 3 kasa domates vardı. Domatesin 38 kg'ı satıldı. Kaç kg domates kalmıştır ?

Çözüm:



7. Sinem ve 3 arkadaşı bahçede elma toplamışlar. Her biri 6 kg elma topladıklarına göre kaç kg elma toplamışlardır ?

Çözüm:



8. Babam 82 kg ağırlığındadır. Ben ise babamdan 47 kg daha hafif olduğuma göre benim ağırlığım kaç kg'dır ?

Çözüm:



## TARTMA İLE İLGİLİ PROBLEMLER

1. Amcam manavdan 6 kg domates, 4 kg salatalık ve 3 kg biber almış. Amcam manavdan toplam kaç kg sebze almış ?

Çözüm:



2. Bakkal 40 kg zeytinin önce 13 kg'ını sonra 16 kg'ını satmış. Geriye kaç kg zeytin kalmıştır ?

Çözüm:



3. Dedem her birin 4 kg çilekler olan kassalardan 6 kasa almış. Dedem kaç kg çilek almıştır ?

Çözüm:



4. Bir kasap 90 kg etin 28 kg'ını dün, 35 kg'ını bugün satmış. Geriye kaç kg et kalmıştır ?

Çözüm:



5. 12 kilogram pirince ihtiyacı olan bir aşçı, paketi 2 kilogram olan pirinçlerden kaç paket almalıdır ?

Çözüm:



6. Erdem kilosu 7 lira olan kayısıdan 2 kg almış. Satıcıya 20 lira vermiş. Erdem kaç lira para üstü alır ?

Çözüm:



7. İrem 26 kilogram ağırlığındadır. Ablası ise İrem'den 17 kilogram ağırdır. İki toplam kaç kilogram ağırlığındadır ?

Çözüm:



8. Büyük kutu 23 kg ağırlığındadır. Küçük kutu ise büyük kutudan 8 kg daha hafiftir. İki kutunun toplam ağırlığı kaç kg'dır ?

Çözüm:



## TARTMA İLE İLGİLİ PROBLEMLER

1. Topladığımız elmaların 5 tanesi 1 kg gelmektedir. 30 tane elma topladık. Kaç kg elma toplamış olduk ?

Çözüm:



2. Evimizde 14 kilogram ceviz vardı. Cevizlerin yarısını yemişiz. Kaç kilogram ceviz yemişiz ?

Çözüm:



3. Pastanede her biri 10 kg ağırlığında toz şeker vardı. Şekerin 18 kg'ını kullanılmış. Kaç kg toz şeker kalmıştır. ?

Çözüm:



4. El arabasına her birinin ağırlığı 14 kg olan 3 kutu koyduk. El arabasında toplam kaç kg yük olmuştur ?

Çözüm:



5. 4 tane armut 1 kg'dır. Arkadaşlarımla 6 kg armut topladık . 4 tane armut 1 kg'dır. Armutlardan 8 tanesini yedik. Kaç tane armut kalmıştır ?

Çözüm:



6. Erem 27 , Burçin 25 kg ağırlığındadır. İkisini toplam ağırlığı 60 kg'dan kaç kg azdır ?

Çözüm:



7. İki kutunun toplam ağırlığı 53 kg'dır. Kutuların biri 35 kg olduğuna göre diğer kutu kaç kg'dır ?

Çözüm:



8. Her gün 5 kg zeytin satan bir bakkal 8 günde kaç kg zeytin satar ?

Çözüm:



## TARTMA İLE İLGİLİ PROBLEMLER



7 lira



26 lira



45 lira



17 lira



6 lira



4 lira



26 lira



9 lira



3 lira



10 lira



12 lira



20 lira

Yukarıda markette satılan gıdaların 1 kilogramının satış fiyatları verilmiştir. Buna göre soruları cevaplayalım.

1. 3 kg kiraz ..... liradır.

2. 4 kg pirinç ..... liradır.

3. Fiyatı en ucuz ürün ..... .

4. Fiyatı en pahalı ürün ..... .

5. 7 kg elma ..... liradır.

6. 2 kg peynir ..... liradır.

7. 3 kg un ..... liradır.

8. 5 kg şeftali ..... liradır.

9. 3 kg zeytin ..... liradır.

10. 2 kg çekirdek ..... liradır.

11. 2 kg et ..... liradır.

12. 6 kg domates ..... liradır.

13. 2 kg balık ..... liradır .

14. 3 kg muz ..... liradır.

15. 1 kg elma , 1 kg zeytin toplam ..... liradır.

16. 1 kg et , 1 kg pirinç toplam ..... liradır.

17. 1 kg kiraz, 1 kg çekirdek toplam ..... liradır.

18. 1 kg balık , 1 kg domates toplam ..... liradır.

## TARTMA

1. Etkinlik: Aşağıda verilen ölçüm sonuçlarına göre problemleri yapınız.




1. Şeker kaç kilogramdır?

Cözüm :



2. Bulgur kaç kilogramdır?

Cözüm :




3. Bulgur tuzdan kaç kilogram fazladır?

Cözüm :




4. Nohut kaç kilogramdır ?

Cözüm :



5. Şeker ve nohudun toplam ağırlığı kaç kilogramdır ?

Cözüm :



6. Pirinç kaç kilogramdır ?

Cözüm :



7. Nohut pirinçten kaç kilogram fazladır?

Cözüm :



8. Pirinç ve tuz toplam kaç kilogramdır?

Cözüm :



9. En ağır ile en hafif arasında kaç kilogram fark vardır ?

Cözüm :



10. Bulgur ve pirinç toplam kaç kilogramdır ?

Cözüm :

