



NOKTALAMA İŞARETLERİ

* Aşağıdaki cümlelere noktalama işaretleri konmamıştır. Doğru yerlere uygun noktalama işaretlerini koyalım.

Ormanda kertenkele kaplumbağa ve yılan gördük

Dün yüzmeye kiminle gittiniz

Babam iş görüşmesi için Bursa ya gitti



Off , yine başım ağrıyor

Sütü Şenay mı içmiş

Annem Maviş in kafesini temizledi

Sen de yarışmaya katılacak mısın

Kahvaltıda reçel peynir zeytin ve yumurta yedim

Eyvah, paramı evde unutmuşum



Ahmet , Gaye ye yardım etti.

Bu ayakkabıyı nereden aldınız

İmdat , adamın elinde bıçak var

TÜRKÇE

1. ETKİNLİK : Aşağıdaki cümlelerde boş bırakılan yerlere verilen kelimelerden uygun olanını yazalım.

Yarın gideceğiz.

..... elma tatlı.

Ağaçta kuş var.

Ömer'in kanamış.

Babam arabayı

Silgimi mi kaybettin?

Ablam kek

Baban sana aldı.

sen	yaptı	yıkadı
ne	köye	kırmızı
iki		eli



2. Aşağıda karışık olarak verilen kelimelerle anlamlı bir cümle oluşturalım.

1. (aldı - kuru - Nuray - nane)

2. (mama - yere - döktü - bebek)

3. (iki - Erol - sordu - soru)

4. (ablamın - oldu - eli - yara)

5. (yazı - Sila - yaz - güzel)

6. (şeker - çaya - Asım - attı)

3. ETKİNLİK : Bulmacadaki gizli meyve isimlerini bulalım.

İ	S	E	R	İ	T	M	N	O	P
P	O	R	T	A	K	A	L	E	S
O	K	İ	V	İ	N	N	Ü	Ş	Ü
E	T	K	Y	R	E	D	P	Ç	Z
M	E	Ş	E	F	T	A	L	İ	Ü
U	L	A	L	A	Y	L	Ü	L	M
Z	A	R	M	U	T	İ	Ş	E	R
Z	D	S	A	P	O	N	A	K	İ
İ	K	L	A	Y	V	A	S	İ	U

AYVA - ARMUT - ÇİLEK - ELMA
ERİK - KİVİ - MUZ - MANDALİNA
PORTAKAL - ŞEFTALİ - ÜZÜM





ORMAN YARIŞI

Çok çeşitli hayvanların yaşadığı bir orman varmış. Bu hayvanlar aralarında her yıl haziran ayında yarışma düzenlemiş. Bu yarışmayı ormanın en güçlüsünü seçmek amacıyla yaparlarmış. Yine yılın yarışma düzenlenecek ayına gelmiş. Yarışma günü yaklaştığı için ormanda bir hareketlilik olurmuş. Yarışmaya katılacak tüm hayvanlar hazırlanmış. Yarışmaya bu sene ilk defa bir sincap da katılacaktı. Yarışmaya ormanda beş senedir yaşayan hayvanlar katılabiliyormuş. Bu kural nedeniyle sincap yarışmalara katılamamış.

Yarışma günü gelmiş. Her senenin yarışı farklı olurmuş. Bu senenin yarışı kutsal orman yüzüğünü bulma yarışıymış. Yarışma başlamış. Birçok hayvan kutsal orman yüzüğünü bulmaya çalışırken ya yorulmuş ya pes etmiş. Geriye sadece iki hayvan kalmış. Biri sincap, diğeri de aslanmış.

Aslan, kendinden emin biçimde kutsal orman yüzüğünü arayıp durmuş. Hatta sincabı çok küçümsemiş. Fakat aslan yüzüğü bulamamış. Yüzüğü sincap aslandan önce bulmuş. Sincap yüzüğü bir ağacın kavuğunda bulmuş. Sincap başkalarına aldırış etmeden mücadele etmiş ve kazanmış.

☆ Aşağıdaki soruları metne göre cevaplayalım.

1. Hayvanlar ne zaman yarışma düzenlemiş?

2. Bu yarışmayı niçin yaparlarmış?

3. Ormanda niçin hareketlilik olurmuş?




4. Yarışmaya kim ilk defa katılacaktı?

5. Yarışmada geriye hangi iki hayvan kalmış?

6. Sincap yüzüğü nerede bulmuş?

VERİ TOPLAMA

1.Etkinlik: Tabloyu inceleyelim. Soruları tabloya göre cevaplayalım.

Arda'nın Oyuncakları Tablosu			
Oyuncaklar			
Sayısı	7	3	4

Arda'nın tane  var.

Arda'nın tane  var.

Arda'nın tane  var.

Arda'nın en fazla oyuncacı hangisidir?




Arda'nın en az oyuncacı hangisidir?

Arda'nın toplam kaç oyuncacı vardır?

Arabalar ayılardan kaç tane fazladır?



2.Etkinlik: Tabloyu inceleyelim. Soruları tabloya göre cevaplayalım.

Tabaktaki Meyveler Tablosu			
Meyveler			
Sayısı	3	8	6

Tabakta tane  var.

Tabakta tane  var.


Tabakta tane  var.

Tabakta en fazla hangi meyve var?

Tabakta en az hangi meyve var?

Tabakta toplam kaç meyve vardır?

Çilekler elmalardan kaç tane fazladır?



3.Etkinlik: Tabloyu inceleyelim. Soruları tabloya göre cevaplayalım.

Sınıfta Spor Kurslarına Giden Öğrenciler Tablosu			
Kurslar			
Sayısı	4	6	9

Sınıfta Tane  var.

Sınıfta tane  var.


Sınıfta tane  var.

Sınıfta en fazla öğrenci hangi kursa gidiyor?

Sınıfta en az öğrenci hangi kursa gidiyor?

Sınıfta toplam kaç öğrenci kursa gidiyor?

Futbol kursuna gidenler yüzme kursuna gidenlerden kaç tane fazladır?



VERİ TOPLAMA

1.Etkinlik: Tabloyu inceleyelim. Soruları tabloya göre cevaplayalım.

Fatma'nın Haftalık Beslenme Tablosu				
Pazartesi	Salı	Çarşamba	Perşembe	Cuma
börek ayran meyve	kek süt fındık	sandviç meyve suyu salatalık	börek süt meyve	poğaç ayran meyve

1. Hangi günlerde ayran var?

.....

2. Beslenmede perşembe günü neler var?

.....

3. Kaç gün meyve götürülmektedir?

.....

4. Meyvenin olmadığı günler hangileridir?

.....

5. Hangi günlerde börek var?

.....

2.Etkinlik: Tabloyu inceleyelim. Soruları tabloya göre cevaplayalım.

Nisan Ayı Hava Tahmin Tablosu							
	Pazartesi	Salı	Çarşamba	Perşembe	Cuma	Cumartesi	Pazar
1.Hafta	1	2	3	4	5	6	7
2.Hafta	8	9	10	11	12	13	14
3.Hafta	15	16	17	18	19	20	21
4.Hafta	22	23	24	25	26	27	28
5.Hafta	29	30					

güneşli

yağmurlu

bulutlu

1. En çok güneşli olan gün hangisidir ?

.....

2. En çok yağmurlu olan günler hangileridir ?

.....

3. En çok bulutlu olan hafta hangisidir ?

.....

4. En çok güneşli olan hafta hangisidir ?

.....

5. Nisan ayında kaç gün güneşli?

.....

6. 4. Hafta kaç gün bulutlu ?

.....

7. 1. Hafta hangi günler yağmurlu?

.....

8. Nisan ayında kaç gün bulutlu?

.....

9. Hiç güneşli olmayan gün hangisidir?




.....


10. Bulutlu olmayan günler hangileridir?

.....


VERİ TOPLAMA

1.Etkinlik: Tabloyu inceleyelim. Soruları tabloya göre cevaplayalım.

Bahçedeki Ağaçlar Tablosu			
Ağaçlar	 elma	 armut	 kayısı
Sayısı	12	4	7

Bahçede tane  var.

Bahçede tane  var.

Bahçede tane  var.

Bahçede en fazla hangi ağaç vardır?




Bahçede en az hangi ağaç vardır?

Bahçede toplam kaç ağaç vardır?

Elma ağaçları kayısı ağaçlarından kaç tane fazladır?



2.Etkinlik: Tabloyu inceleyelim. Soruları tabloya göre cevaplayalım.

Otobüsteki Yolcu Tablosu			
Yolcular	 bayan	 bay	 çocuk
Sayısı	7	13	3

Otobüste tane  var.

Otobüste tane  var.

Otobüste tane  var.

Otobüste en fazla hangi yolcu var?




Otobüste en az hangi yolcu var?

Otobüste toplam kaç yolcu var?

Bayanlar çocuklardan kaç tane fazladır?



3.Etkinlik: Tabloyu inceleyelim. Soruları tabloya göre cevaplayalım. (Önce boncukları boyayınız.)

Kutudaki Boncuk Tablosu			
Boncuklar	 sarı	 kırmızı	 mavi
Sayısı	3	5	12

Kutuda tane  var.

Kutuda tane  var.

Kutuda tane  var.

Kutuda en fazla hangi boncuk var?

Kutuda en az hangi boncuk var?




Kutuda toplam kaç kitap var?

Mavi boncuklar kırmızı boncuklardan kaç fazladır?



VERİ TOPLAMA

1.Etkinlik: Tabloyu inceleyelim. Soruları tabloya göre cevaplayalım.

Gol Atan Çocukların Tablosu			
Çocuklar	 Semih	 Önder	 Barış
Gol Sayısı	5	3	8

Barış tane gol atmış.

Semih tane gol atmış.

Önder tane gol atmış.

En fazla golü kim atmış ?

.....

En az golü kim atmış ?

Üç çocuk toplam kaç gol atmış ?

Barış Semih'ten kaç tane fazla gol atmış ?



2.Etkinlik: Tabloyu inceleyelim. Soruları tabloya göre cevaplayalım.

Satılan Karpuz Tablosu							
Günler	Pazartesi	Salı	Çarşamba	Perşembe	Cuma	Cumartesi	Pazar
Sayısı	8	12	9	12	6	15	10

Çarşamba günü kaç tane karpuz satılmış ?


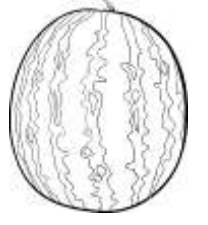
En az karpuz hangi gün satılmış ?

En fazla karpuz hangi gün satılmış ?

Hangi günler aynı miktarda karpuz satılmış ?

Cumartesi günü satılan karpuz çarşamba gününden kaç tane fazladır ?

Pazar ve pazartesi günü toplam kaç karpuz satılmış ?



3.Etkinlik: Tabloyu inceleyelim. Soruları tabloya göre cevaplayalım.

Kursa Katılanlar Tablosu						
Kurslar	Yüzme	Tenis	Basketbol	Futbol	Tekvando	Voleybol
Sayısı	12	7	9	18	6	7

En fazla öğrenci hangi kursa gitmektedir ?

En az öğrenci hangi kursa gitmektedir ?

Hangi kursları aynı sayıda öğrenci gitmektedir ?

Yüzme ve tekvandoya toplam kaç öğrenci gitmektedir ?

Basketbol ve tenise toplam kaç öğrenci gitmektedir ?

Futbola gidenlerin sayısı basketbola gidenlerden kaç fazladır ?







zmocit58

www.mebders.com

VERİ TOPLAMA

1.Etkinlik: Tabloyu inceleyelim. Soruları tabloya göre cevaplayalım.

Küresteki Hayvanlar Tablosu			
Hayvanlar			
Sayısı	3	12	5

Küreste tane  var.

Küreste tane  var.

Küreste tane  var.

Küreste en fazla hangi hayvan vardır?

Küreste en az hangi hayvan vardır?

Küreste toplam kaç hayvan vardır?

Tavuklar hindilerden kaç tane fazladır?



2.Etkinlik: Tabloyu inceleyelim. Soruları tabloya göre cevaplayalım.

Sebzelikteki Sebzeler Tablosu			
Sebzeler			
Sayısı	5	6	9

Sebzelikte tane  var.

Sebzelikte tane  var.


Sebzelikte tane  var.

Sebzelikte en fazla hangi sebze var?




Sebzelikte en az hangi sebze var?

Sebzelikte toplam kaç sebze var?

Domatesler salatalıktan kaç tane fazladır?



3.Etkinlik: Tabloyu inceleyelim. Soruları tabloya göre cevaplayalım.

Kitaplıktaki Kitaplar Tablosu			
Kitaplar			
Sayısı	7	2	10

Kitaplıkta tane  var.

Kitaplıkta tane  var.

Kitaplıkta tane  var.

Kitaplıkta en fazla hangi kitap var?

Kitaplıkta en az hangi kitap var?

Kitaplıkta toplam kaç kitap var?

Hikaye kitapları şiir kitaplarından kaç fazladır?



VERİ TOPLAMA

1.Etkinlik: Tabloyu inceleyelim. Soruları tabloya göre cevaplayalım.

Okulumuzda Haftalık Kurs Tablosu				
Pazartesi	Salı	Çarşamba	Perşembe	Cuma
Resim	Gitar	Futbol	Resim	Zeka Oy.
Satranç	Resim	Zeka Oy.	Halk Oy.	Resim
Futbol	Halk Oy.	Satranç	Gitar	Futbol

1. Zeka oyunları kursu hangi gün ?

2. Kaç gün futbol kursu var?

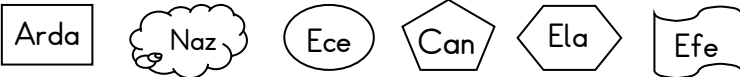
3. Halk oyunları kursu hangi günler?

4. Perşembe günü hangi kurslar var?

5. Resim kursu hangi gün yok?

2.Etkinlik: Tabloyu inceleyelim. Soruları tabloya göre cevaplayalım. Önce aynı isimleri aynı renge boyayalım

Nisan Ayı Doktor Nöbet Tablosu							
	Pazartesi	Salı	Çarşamba	Perşembe	Cuma	Cumartesi	Pazar
1.Hafta	1 Arda	2 Ece	3 Can	4 Naz	5 Ela	6 Efe	7 Can
2.Hafta	8 Naz	9 Can	10 Arda	11 Ece	12 Efe	13 Ela	14 Arda
3.Hafta	15 Ela	16 Can	17 Arda	18 Efe	19 Ece	20 Arda	21 Naz
4.Hafta	22 Naz	23 Can	24 Ela	25 Arda	26 Efe	27 Can	28 Arda



1. 18 Nisan günü kim nöbet tutmuştur ?

6. Arda, Ece'den kaç fazla nöbet tutmuştur ?

2. Can ilk nöbetini hangi gün tutmuştur ?

7. Arda hangi günler nöbet tutmamıştır ?

3. Cuma günleri kimler nöbet tutmuştur ?

8. 1. Hafta en çok kim nöbet tutmuştur?

4. En çok nöbeti kım tutmuştur? Kaç tane ?

9. Cuma günü en çok kim nöbet tutmuştur?

5. En az nöbeti kim tutmuştur? Kaç tane ?

10. Hafta sonu kim nöbet tutmamış ?