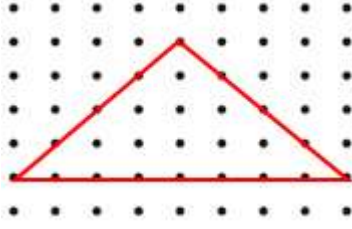


- 1) Sınavda başarılı olmamı sağlayan faktör çok kitap okumamdır.
- Yukarıdaki cümledeki dilimize geçen ve Türkçe karşılığı "etken" olan yabancı kelime aşağıdakilerden hangisidir?
- A) başarılı B) faktör C) kitap
- 2) Araştırma yaparken kullandığımız metot işimizi kolaylaştırdı.
- Yukarıdaki cümlede dilimize yabancı bir dilden geçen kelime aşağıdakilerden hangisidir?
- A) metot B) yaparken C) işimizi
- 3) Haberleri sunan spiker yaşananları heyecanla anlattı.
- Yukarıdaki cümledeki dilimize geçen ve Türkçe karşılığı "sunucu" olan yabancı kelime aşağıdakilerden hangisidir?
- A) spiker B) sunan C) haberleri
- 4) Aşağıdaki cümlelerin hangisinde sebep sonuç ilişkisi bulunmaktadır?
- A) Sıla benden daha güzel resim yapar.  
B) Pazar günü köye gitmeyeceğiz  
C) Soğuk su içtiğim için boğazım ağrıyor.

- 5) Aşağıdaki cümlelerin hangisinin "sağ" kelimesi yön anlamında kullanılmıştır?
- A) Kaza yapan arabadan adam sağ çıktı.  
B) Arabayı yolun sağ tarafına park ettim.  
C) Ablam inekten bir kova süt sağdı.
- 6) Taner evlerindeki kare şeklindeki yemek masasının bir kenarını 9 karış olarak ölçmüştü.
- Buna göre masanın çevresi kaç karıştır?
- A) 18 B) 36 C) 40
- 7) Kübra, dikdörtgen şeklindeki sınıfının uzun kenarını 14 adım, kısa kenarını 10 adım ölçmüştü.
- Yukarıdaki ifadeye göre sınıfın çevresi kaç adımdır?
- A) 44 B) 40 C) 48
- 8) Çevresi 80 cm olan kare şeklindeki fayansın 1 kenarı kaç cm'dir.
- Yukarıdaki ifadeye göre arabanın gideceği kaç km yolu kalmıştır?
- A) 20 B) 15 C) 30

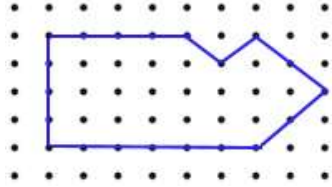
- 9) Yandaki resimde iki nokta arası 1 birimdir.



Yukarıdaki ifadeye göre üçgenin çevresi kaç birimdir?

- A) 16      B) 15      C) 14

- 10) Yandaki resimde iki nokta arası 1 birimdir.



Yukarıdaki ifadeye göre şeklin çevresi kaç birimdir?

- A) 18      B) 22      C) 20

- 11) Gün geçtikçe insanlar bitki örtüsünün yok olmasına neden olmaktadır.

Aşağıdakilerden hangisi bitki örtüsünün yok olması sonucunda ortaya çıkan olaylardan biri **değildir**?

- A) Erozyon  
B) Hava kirliliği  
C) Hayvan çeşidinin artması

- 12)  Hayvanları korumak.  
 Ağaçlandırmaya önem vermemek.  
 Suları kirletmemek.

Yukarıdakilerden hangileri çevreyi olumlu yönde etkiler?

- A)        B)        C)

- 13) Fabrika bacalarından çıkan gazlar daha çok aşağıdakilerden hangisinin kirliliğine neden olur?

- A) Su      B) Hava      C) Toprak

- 14) Doğal çevreyi kirleten en önemli etken aşağıdakilerden hangisidir?

- A) İnsanlar  
B) Hayvanlar  
C) Bitkiler


- 15) Aşağıdakilerden hangisi doğal çevreyi korumak adına yapılan bir faaliyettir?

- A) Bilinçsiz avlanmak  
B) Ağaçları keserek tarla açmak  
C) Atıklarda geri dönüşüme önem vermek

16) Aşağıdakilerden hangisi diğerlerinden farklı bir elektrik kaynağı ile çalışır?



17) Aşağıdakilerden hangisi elektrikle ilgili uyarı işaretlerinden biri **değildir**?



18) I – Sağlam prizler kullanmalıyız.  
II – Elektrikle çalışan aletin fişini kablodan çekerek prizden çıkarmalıyız.

Yukarıdaki ifadelerle ilgili aşağıdakilerden hangisi doğrudur?

- A) İkisi de doğru  
B) I yanlış , II doğru  
C) I doğru , II yanlış

19) Elektrikli araçların dikkatsiz kullanımı aşağıdaki felaketlerden hangisine neden olabilir?

- A) Toprak kayması  
B) Yangın  
C) Çığ

20) Aşağıdakilerden hangisi **yanlıştır**?

- A) Elektrik çarpmaları ölümlere neden olabilir.  
B) Dikkatsizlik, acelecilik elektrik çarpmalarına neden olabilir.  
C) Elektrikle çalışan aletlerin tamirini herkes yapabilir.

## CEVAP ANAHTARI

TÜRKÇE	MATEMATİK	HAYAT BİL.	FEN BİLİM.
1) B	6) B	11) C	16) A
2) A	7) C	12) B	17) B
3) A	8) A	13) B	18) C
4) C	9) A	14) A	19) B
5) B	10) C	15) C	20) C