



Aşağıdaki **cümlelerden** doğru olanların kutusuna **D**, yanlış olanlara **Y** yazınız.

1	Her insana doğduđu andan itibaren geçerli resmi kimlik belgesi verilir.	→	<input type="checkbox"/>
2	Gözdeki iris tabakası ve parmak izi kişiye özgüdür.	→	<input type="checkbox"/>
3	Tüm insanlar dış görünüş ve davranışlarıyla birbirlerine benzerler.	→	<input type="checkbox"/>
4	Resmi kimlik belgesini resmi iş ve işlemlerde kullanmayız.	→	<input type="checkbox"/>
5	On dokuz yaşından küçük olanların kimlik belgelerinde fotoğraf yoktur.	→	<input type="checkbox"/>



**Atatürk** ile ilgili olayları **kronolojik** sıraya göre sıralayınız.

**1893** yılında Selanik Askeri Rüştüyesi'ne (ortaokul) başladı.



**1911** yılında Trablusgarp'ta bulunduđu sırada binbaşılığa terfi etti.



**1919** yılında Bandırma Vapuru ile Samsun'a ulaştı.



**1921**'de Atatürk'e TBMM tarafından "Mareşallik ve Gazi" unvanı verildi.



**1881** yılında Selanik'te doğdu.



**1927** yılında Atatürk ikinci kez cumhurbaşkanı oldu.



**1905** yılında Harp Akademisi'nden Kurmay Yüzbaşı rütbesi ile mezun oldu.



**1938** yılında Atatürk hayata gözlerini yumdu.



İlgileri **sarıya**, ihtiyaçları **maviye**, yetenekleri **turuncuya** boyayınız.

Basketbol izlemeyi seviyorum.

Günde üç öğün yemek yemeliyim.

Gitar çalma yarışmasında 1. oldum.

Resim yapmak hoşuma gidiyor.

İnsanlar evlerde barınırlar.

Okulun en hızlı koşan kişisiyim.

Kış mevsiminde giymek için kaban aldım.

Dakikada 160 kelime okuyabiliyorum.



Aşağıda **karışık** halde verilen **sözlü tarih** aşamalarını sıralayınız.

- Görüşme sırasında kullanılacak araç gereçler hazırlanır.
- Görüşme yeri ve zamanı belirlenir.
- Görüşme kayıtları düzenlenerek yazılı hale getirilir.
- Görüşme yapılacak kişi belirlenir.
- Görüşme yapılır.
- Sorular belirlenir.



Aşağıda verilen **kültür** öğelerini **bulmacadan** bulup, **boyayınız**.

KİLİM
MEDRESE
CİRİT
BAKLAVA
HORON
BAYRAM
KELOĞLAN
ÇEYİZ
BAĞLAMA

H	R	O	Z	K	E	T	C	U	B	Ş	Ğ	E	D	İ	Z
A	S	C	İ	R	İ	T	I	L	A	U	P	G	E	Ç	K
F	O	R	Y	O	U	T	H	E	K	A	V	A	K	L	İ
B	A	B	A	Y	R	A	M	O	L	A	H	V	E	S	L
A	K	L	A	B	A	P	İ	L	A	V	O	C	L	J	İ
Ğ	Ö	H	R	E	M	İ	Ş	K	V	A	R	I	O	K	M
L	A	M	A	D	O	Y	L	T	A	H	O	R	Ğ	A	Z
A	Ğ	F	E	L	I	H	Ğ	A	P	İ	N	U	L	Ü	K
M	E	M	E	D	R	E	S	E	Y	İ	C	M	A	G	İ
A	H	U	N	V	E	L	İ	Ğ	Y	I	S	O	N	A	B
R	I	H	T	O	Ğ	Ü	Ç	E	Y	İ	Z	E	F	N	Ü



Aşağıdaki cümlelerdeki **noktalı** alanlara **doğru** kelimeleri yazınız.

Anafartalar

Sivas

Erzurum

Trablusgarp'ta

1. Atatürk, sömürgeci bir devlet olan İtalya'ya karşı 1911'de ..... savaşmıştır.
2. Atatürk, Çanakkale Cephesi'nde kazandığı zaferden dolayı halk arasında "..... Kahramanı" olarak tanındı.
3. Atatürk, başkanı seçildiği ..... Kongresi'nde vatanın bölünmez bir bütün olduğunu vurguladı. .... Kongresi'nde ise milli cemiyetleri tek çatı altında toplayarak birlik ve beraberliği sağladı.



Aşağıdaki **kahramanlarımızı** faaliyet gösterdikleri **cephelere** yazınız.

Hasan Tahsin	Rahmiye Hanım	Kazım Karabekir	Şahin Bey
İsmet İnönü	Şerife Bacı	Ali Saip Bey	Fevzi Paşa
	Yörük Ali Efe	Sütçü İmam	

**DOĞU CEPHESİ**



**BATI CEPHESİ**



**GÜNEY CEPHESİ**

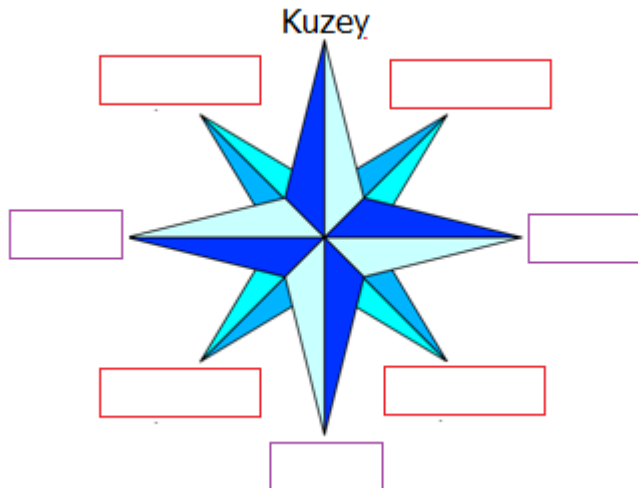


Aşağıdaki **cümlelerden** doğru olanlara **D**, yanlış olanlara **Y** yazınız.

- Atatürk, 19 Mayıs 1919'da Milli Mücadele'yi başlatmak için Samsun'a ayak bastı.
- Kazım Karabekir, TBMM tarafından Güney Cephesi'ne komutan olarak atandı.
- Maraş'ta düşmana ilk kurşunla kurtuluş mücadelesini başlatan Sütçü İmam'dır
- Şahin Bey, Erzurum savunması sırasında canını feda eden kahramanlardan biridir.
- Şerife Bacı, çocuğu üşümesin ve top mermileri ıslanmasın diye kendini feda etti.




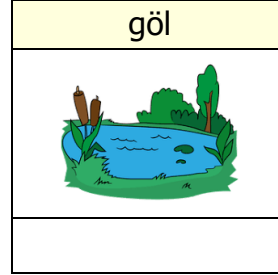
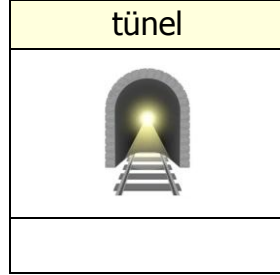
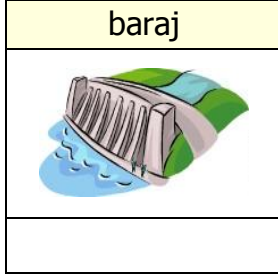
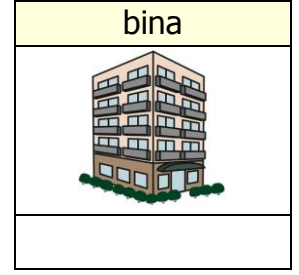
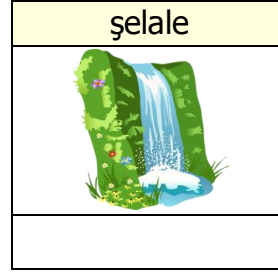
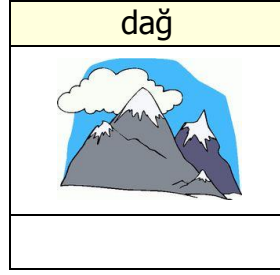
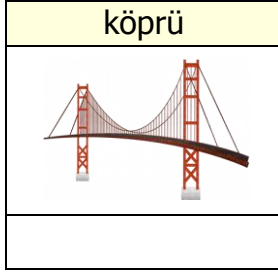
**Pusulaya** yönleri yazıp **boşlukları** doldurunuz.



1. Güneş ..... doğar.
2. Güneş ..... batar.
3. Güneşin doğduğu noktayı sağımıza alınca önümüz ..... arkamız ..... olur.
4. Pusula yatay olarak tutulduğunda renkli uç daima ..... gösterir.
5. Kuzey ile doğu arasında ..... bulunur.
6. Kuzey ile batı arasında ..... bulunur.
7. Güney ile doğu arasında ..... bulunur.
8. Güney ile batı arasında ..... bulunur.



Görsellerin altlarına **doğal unsur** veya **yapay unsur** yazınız.



Haftalık hava durumu **tahminlerine** göre soruları **cevaplayınız**.

	Hava Olayı	Sıcaklık
Pazartesi		10°
Salı		15°
Çarşamba		22°
Perşembe		26°
Cuma		13°
Cumartesi		19°
Pazar		21°

Haftanın en sıcak günü hangisidir?

.....

Haftanın en soğuk günü hangisidir?

.....

Hangi günler hava kapalıdır?

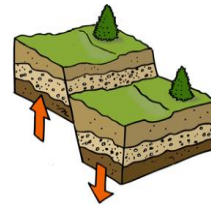
.....

Hangi günler hava parçalı bulutludur?

.....



Aşağıda **görselleri** verilen **doğal afetlerin** isimlerini **yazınız**.



--	--	--	--	--



**Teknolojik ürünleri kullanım alanlarına göre uygun yerlere yazınız.**

elektrikli  
süpürge

tansiyon  
aleti

uçak

cep  
telefonu

buzdolabı

radyo

fırın

bulaşık  
makinesi

röntgen

metro

tramvay

ultrason

telsiz

ocak

çamaşır  
makinesi

Sağlık	Ulaşım	Temizlik	Haberleşme	Beslenme
1.	1.	1.	1.	1.
2.	2.	2.	2.	2.
3.	3.	3.	3.	3.



Aşağıdaki boşluklara kutulardaki kelimelerden uygun olanlarını yazınız.

arkadaşlık

radyasyon

dalgalar

görme

bağımlı

kılavuzunu

- 1) Teknolojik ürünlerin neredeyse tamamı elektrikle çalıştığı için, etrafa insan sağlığına zararlı elektromanyetik ..... yayıyor.
- 2) Teknolojik ürünleri kullanmadan önce kullanma ..... incelemeliyiz.
- 3) ....., atom çekirdeğinin parçalanarak etrafa yaydığı ışınlardır.
- 4) Özellikle gelişme çağındaki çocuklar bilgisayara ..... olurlarsa ..... ilişkileri kurmakta zorlanırlar.
- 5) Televizyonun yakından izlenmesi durumunda ..... sorunları ortaya çıkabilir.



**Verilenlerin altına "ihtiyaç" ya da "istek" yazınız.**



su



müzik dinlemek



pizza



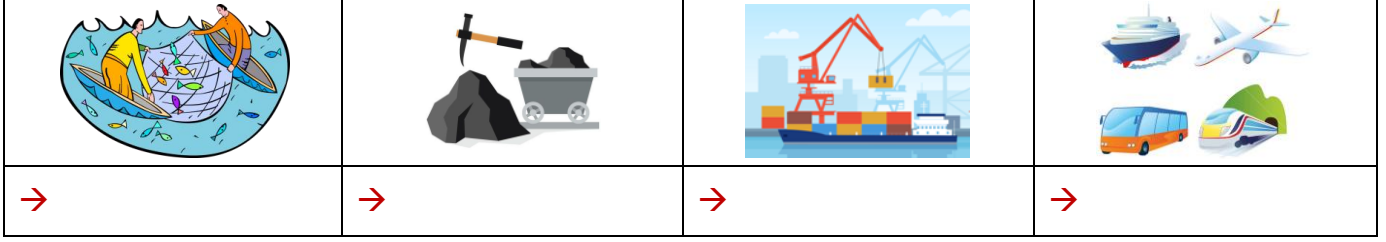
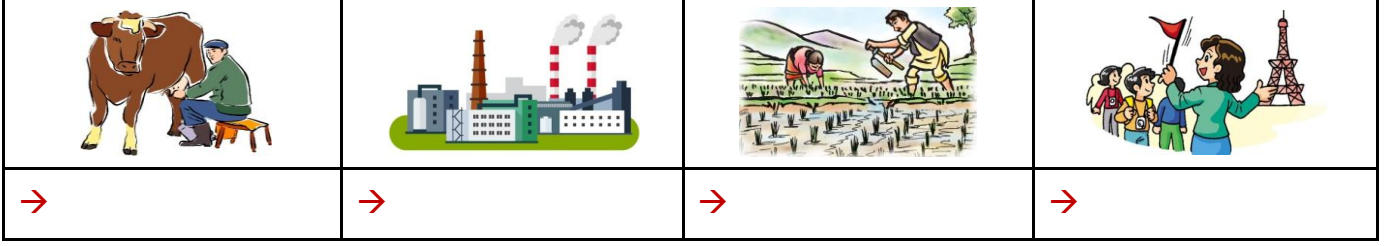
ev





Aşağıda verilen **ekonomik faaliyetlerin** isimlerini yazınız.

turizm – madencilik – sağlık – balıkçılık – ulaşım – bankacılık – ticaret – sanayi  
hayvancılık – eğitim – tarım



**Bilinçli** tüketici davranışıyla **gülen** yüz (😊), değilse **üzülen** yüz (😞) çiziniz.

- Markete gitmeden önce bir alışveriş listesi hazırlamak
- Ambalajlı gıdaların üretim ve son kullanma tarihlerini kontrol etmemek
- Aynı kalitede olan iki üründen pahalı olanı tercih etmek
- Aile bütçesine zarar veren aşırı ve gereksiz harcamalardan uzak durmak
- Ambalajlı gıda ürünlerini alırken "içindekiler" bölümüne dikkat etmek
- Ürünlerin üzerinde TSE damgasının olup olmadığını önemsememek
- Alışverişlerden sonra fiş ve fatura almaya özen göstermek
- Garanti süresi içinde arızalanan ürünü çöpe atıp, yenisini almak
- Televizyonda reklamı yapılmayan hiçbir ürünü almamak



Aşağıda verilen aylık **gelir-gider** tablosuna göre **soruları** yanıtlayınız.

GELİRLER		
Serdar Bey	=	9000 TL
Zeynep Hanım	=	9000 TL

GİDERLER		
Ev Kirası	=	6000 TL
Gıda	=	4000 TL
Ulaşım	=	1500 TL
Elektrik	=	450 TL
Doğalgaz	=	850 TL
Su	=	250 TL
Telefon	=	400 TL
Eğitim	=	950 TL
Eğlence	=	1000 TL

SORULAR
1) Bu ailenin toplam geliri ne kadardır?
→
2) Bu ailenin toplam gideri ne kadardır?
→
3) Bu ailenin kalan parası ne kadardır?
→
4) En çok harcama neye yapılmıştır?
→
5) En az harcama neye yapılmıştır?
→
6) Gelir – gider dengesi sağlanmış mıdır? Neden?
→



Aşağıdaki **boşluklara** kutulardaki kelimelerden **uygun** olanlarını yazınız.

çocukların

18

dengeli

savaşlardan

142

eğitim

- 1) Çocuk Hakları Sözleşmesi 20 Kasım 1989'da Türkiye'nin de aralarında bulunduğu ..... ülke tarafından imzalanarak 1990'da yürürlüğe girmiştir.
- 2) Beslenme, barınma, giyinme, ....., sağlıklı bir çevrede yaşama ve oyun oynama ..... en temel ihtiyaçlarıdır.
- 3) Her çocuğun ..... ve düzenli beslenme hakkı vardır.
- 4) Çocuk Hakları Sözleşmesi'ne göre ..... yaşından küçük her insan çocuktur.
- 5) Çocukların çalıştırılmamaları, ..... uzak tutulmaları devletlerin temel görevidir.



Aşağıdaki **cümleleri** ait oldukları **sorumluluk alanlarıyla** eşleştiriniz.

Okul temizlik kuralına uymak

Aile bütçesine katkı sağlamak

Kamu mallarını korumak

Okul eşyalarını özenli kullanmak

Ailemize karşı sorumluluklarımız

Okulumuza karşı sorumluluklarımız

Ülkemize karşı sorumluluklarımız

Bağımsızlık sembollerine saygılı olmak

Ev işlerine yardımcı olmak


Okul çalışanlarına karşı duyarlı olmak

Anne ve babanın sözünü dinlemek



Aşağıdaki **resimlerin** altına uygun **kulüp** isimlerini yazınız.

Müzik Kulübü	Bilim, Fen ve Teknoloji Kulübü	Hayvanları Koruma Kulübü	Trafik ve İlk Yardım Kulübü	Spor Kulübü
Tiyatro Kulübü	Çevre Koruma Kulübü	Kütüphanecilik Kulübü	Satranç Kulübü	Resim Kulübü







Aşağıdaki **kelimelerle** sözlük anlamlarını **eşleştiriniz**.

Özgürlük	•	•	Bir halkın üzerinde yaşadığı, kültürünü oluşturduğu toprak parçası, yurt
Egemenlik	•	•	Her türlü dış etkiden bağımsız olarak insanın kendi iradesine, kendi düşüncesine dayanarak karar vermesi durumu, hürriyet
Vatan	•	•	Milletin, egemenliği kendi elinde tuttuğu ve bunu belirli süreler için seçtiği milletvekilleri aracılığıyla kullandığı yönetim biçimi
Cumhuriyet	•	•	Milletin ve onun tüzel kişiliği olan devletin yetkilerinin hepsi, hükümlanlık, hâkimiyet



Aşağıdaki **yerler - eserler** ile ait oldukları **ülkeleri** eşleştiriniz.

1	Keops Piramiti	Japonya	6	Pisa Kulesi	Avustralya
2	Eyfel Kulesi	Hindistan	7	Kâbe	ABD
3	Fuji Dağı	İspanya	8	Sidney Opera Evi	İrlanda
4	El Hamra Sarayı	Fransa	9	Özgürlük Anıtı	İtalya
5	Tac Mahal	Mısır	10	Moher Kayalıkları	S. Arabistan



Aşağıda **karışık** harflerle verilen **kıta** isimlerini yazınız.

FAARİK	→		PRVAUA	→		YAAS	→	
GNÜYE MAREİKA	→		KYUEZ MAREİKA	→				
OYKUSAYAN	→		ANKARTİKAT	→				



Aşağıda verilen ülkelerin **başkentlerini** örnekteki gibi yazınız

Nahcivan	→	Nahcivan	Bulgaristan	→		Irak	→	
Gürcistan	→		Suriye	→		Yunanistan	→	
Ermenistan	→		İran	→				